

1  
ABCDE

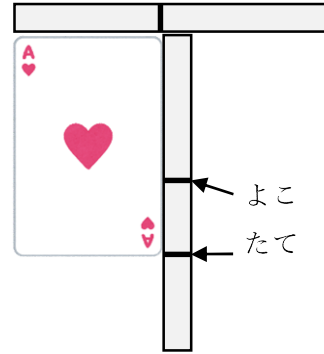
つぎの せつめいを よんで もんだいに こたえましょう。

**どちらが ながい てえぶを つかって hakken.の法則** 

★ どちらが ながい てえぶを つかって

ながさは、てえぶなどに うつして くらべることが できます。  
れいだい たてと よこの ながさを  
くらべます。

たてと よこ どちらが ながいか  
こたえましょう。



はみだした ほうが ながいから、たて

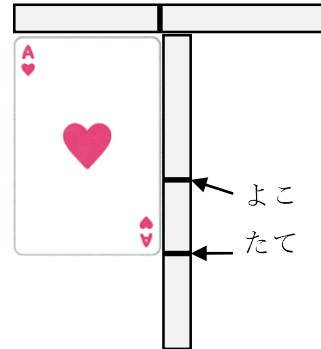
こたえ たて

2  
ABCDE

たてと よこの ながさを

くらべます。

たてと よこ どちらが ながいか  
こたえましょう。



3 つぎの せつめいを よんで もんだいに こたえましょう。

ABCDE

**どちらが ながい ますめを つかって hakken.の法則** 

★ どちらが ながい ますめを つかって

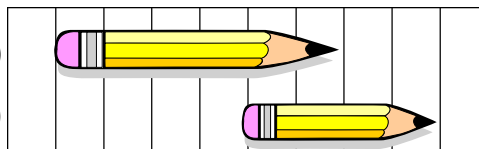
ながさは、ますめなどが いくつぶん あるかで くらべることが できます。

れいだい どちらが

ながいでしょうか。

(あ)

(い)



(あ) は 6つぶん、(い) は 4つぶんの ながさです。

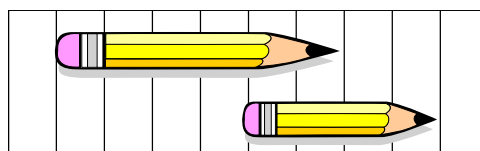
(あ) のほうが ながいです。

こたえ (あ)

4 どちらが ながいでしょうか。

ABCDE

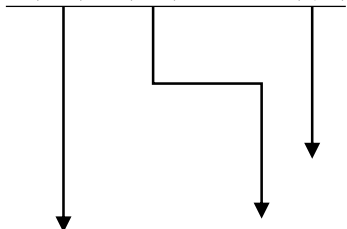
(あ)



5 (あ) から (う) で いちばん ながい ものと いちばん みじかい ものを こたえましょう。

ABCDE

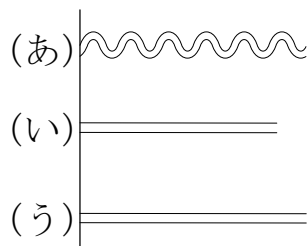
① (あ) (い) (う)



いちばん ながい もの \_\_\_\_\_

いちばん みじかい もの \_\_\_\_\_

②



いちばん ながい もの \_\_\_\_\_

いちばん みじかい もの \_\_\_\_\_

6 たてと よこの ながさを くらべます。たてと よこでは、どちらが  
ABCDE ながいでしょう。

①



\_\_\_\_\_

②



\_\_\_\_\_

7 ずを みて、(あ) から (か) で  
ABCDE こたえましょう。

① いちばん ながいのは  
 どれですか。

\_\_\_\_\_

② いちばん みじかいのは  
 どれですか。

\_\_\_\_\_

(あ)																			(か)
(お)	(い)																		
			(う)																
		(え)																	

8 がようしの たてと よこの ながさを、きのぼうを つかって はかり  
ABCDE ました。たては 4つぶん よこは 6つぶん ありました。たてと よ  
 こでは、どちらが ながいですか。

\_\_\_\_\_