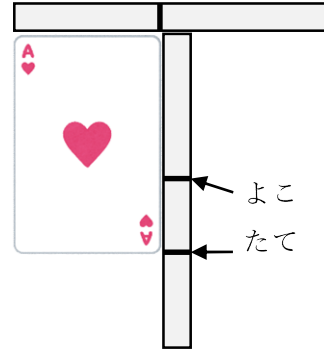


1-5 ながさくらべ

2 たてと よこの ながさを
くらべます。

ABCDE

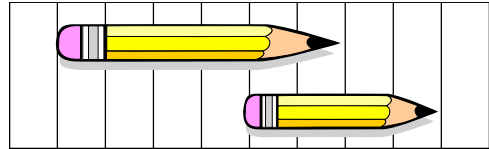
たてと よこ どちらが ながいか
こたえましょう。



4 どちらが ながいでしょうか。

ABCDE

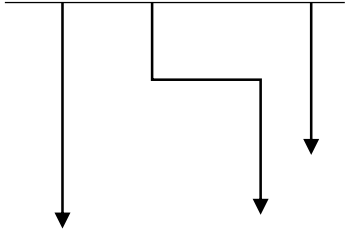
(あ)



5 (あ)から(う)で いちばん ながい ものと いちばん みじかい も
のを こたえましょう。

ABCDE

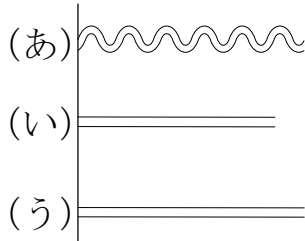
① (あ) (い) (う)



いちばん ながい もの _____

いちばん みじかい もの _____

②



いちばん ながい もの _____

いちばん みじかい もの _____

6 たてと よこの ながさを くらべます。たてと よこでは、どちらが
ABCDE ながいでしょう。

①



②



7 ずを みて、(あ) から (か) で
ABCDE こたえましょう。

① いちばん ながいのは
 どれですか。

② いちばん みじかいのは
 どれですか。

(あ)																		(か)
(お)	(い)																	
			(う)															
		(え)																

8 がようしの たてと よこの ながさを、きのぼうを つかって はかり
ABCDE ました。たては 4つぶん よこは 6つぶん ありました。たてと よ
 こでは、どちらが ながいですか。
