

1
ABCDE

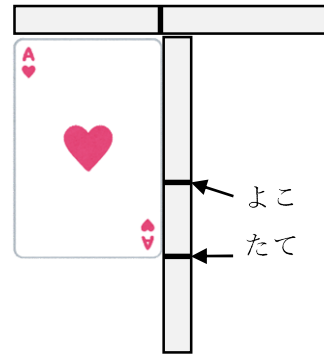
つぎの せつめいを よんで もんだいに こたえましょう。

どちらが ながい てえぶを つかって hakken.の法則 

★ どちらが ながい てえぶを つかって

ながさは、てえぶなどに うつして くらべることが できます。
れいだい たてと よこの ながさを くらべます。

たてと よこ どちらが ながいか こたえましょう。



はみだした ほうが ながいから、たて

こたえ たて

2
ABCDE

たてと よこの ながさを

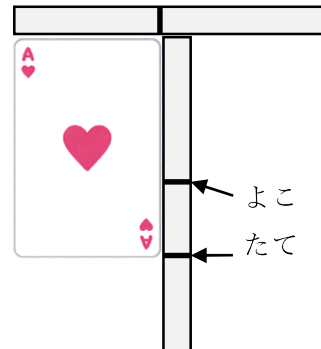
くらべます。

たてと よこ どちらが ながいか

こたえましょう。

はみだした ほうが ながいから、たて

たて



3 つぎの せつめいを よんで もんだいに こたえましょう。

ABCDE

どちらが ながい ますめを つかって hakken.の法則 

★ どちらが ながい ますめを つかって

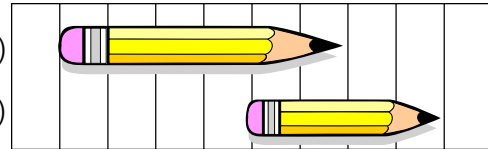
ながさは、ますめなどが いくつぶん あるかで くらべることが できます。

れいだい どちらが

ながいでしょうか。

(あ)

(い)



(あ) は 6つぶん、(い) は 4つぶんの ながさです。

(あ) のほうが ながいです。

こたえ (あ)

4 どちらが ながいでしょうか。

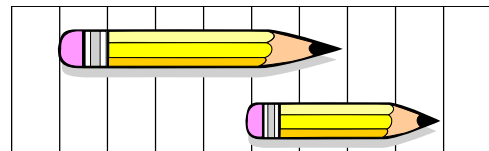
ABCDE

(あ) は 6つぶん、(い) は 4つぶんの ながさです。

(あ) のほうが ながいです。

(あ)

(い)

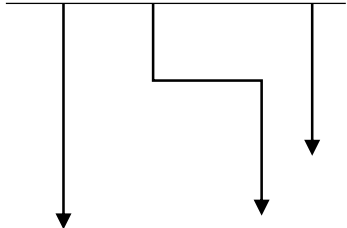


(あ)

5 (あ) から (う) で いちばん ながい ものと いちばん みじかい ものを こたえましょう。

ABCDE

① (あ) (い) (う)



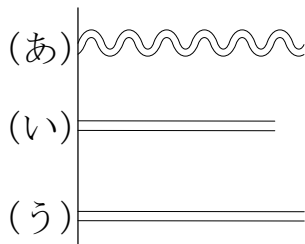
いちばん ながい もの

(い)

いちばん みじかい もの

(う)

②



いちばん ながい もの

(あ)

いちばん みじかい もの

(い)

6 たてと よこの ながさを くらべます。たてと よこでは、どちらが
ABCDE ながいでしょう。

①



たて

②



よこ

7 ずをみて、(あ)から (か)で
ABCDE こたえましょう。

① いちばん ながいのは
 どれですか。

(あ)

② いちばん みじかいのは
 どれですか。

(う)

(あ)																		(か)
(お)	(い)																	
			(う)															
	(え)																	

8 がようしの たてと よこの ながさを、きのぼうをつかって はかり
ABCDE ました。たては 4つぶん よこは 6つぶん ありました。たてと よ
 こでは、どちらが ながいですか。

よこ