

1  
ABCDE


つぎの せつめいを よんで もんだいに こたえましょう。

**なんじ**

**hakken.**の法則💡

★ なんじ

みじかい はりの かずを よみます。  
ながい はりは 12を さします。




4じ

れいだい なんじですか。

みじかい はりの かずを  
よみます。


9を さして いるから 9じ

こたえ 9じ



2  
ABCDE

なんじですか。



\_\_\_\_\_

3

ABCDE

つぎの せつめいを よんで もんだいに こたえましょう。

**なんじはん**

hakken.の法則💡

★ なんじはん

みじかい はりの となりの かずで、  
ちいさい ほうの かずを よみます。  
ながい はりは 6を さします。



4じはん

れいだい なんじはんですか。


みじかい はりは 9と 10の  
あいだです。ちいさい ほうの  
かずを よみます。

こたえ 9じはん

4

ABCDE

なんじはんですか。




5 なんじですか。

ABCDE


①



②



③




④



6 ながい はりを かきましょう。

ABCDE

① 3じ



② 8じはん



7 ( ) に あてはまる とけいの すうじを かきましょう。

ABCDE

- ① 5 じのとき、みじかい はりは すうじの ( ) のところ  
を さして います。
- ② 10 じのとき、ながい はりは すうじの ( ) のところ  
を さして います。
- ③ 3 じはんのとき、ながい はりは すうじの ( ) のところ  
を さして います。
- ④ 2 じはんのとき、みじかい はりは すうじの ( ) と  
( ) の あいだを さして います。