

**2** つぎの もんだいに こたえましょう。

ABCDE

① おなじ かたちの なかまを、せんで むすびましょう。



.

.

.

.

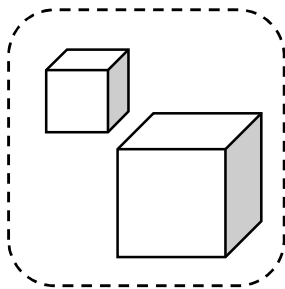
.

.

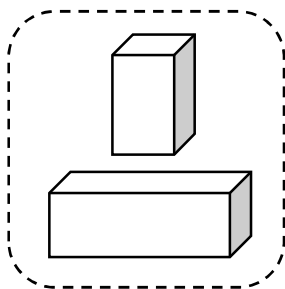


② つみきを 3つに わけました。どのように わけたか こたえ  
ましょう。

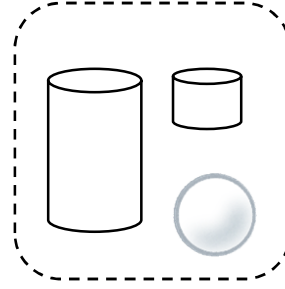
(あ)



(い)



(う)



(あ) \_\_\_\_\_

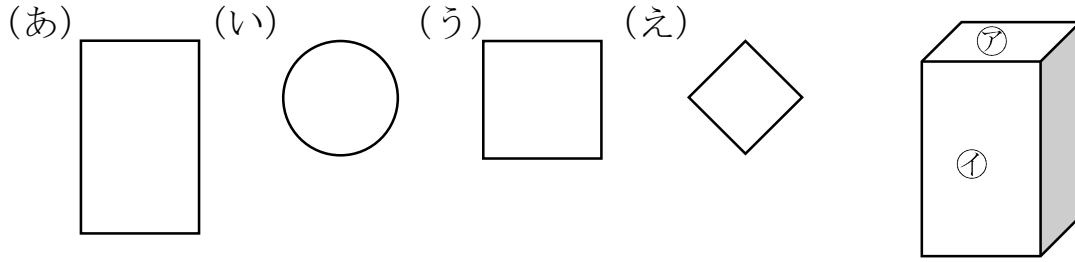
(い) \_\_\_\_\_

(う) \_\_\_\_\_

4 みぎの㊦、㊧ かたちを うつして かけるのは、 どれですか。

ABCDE

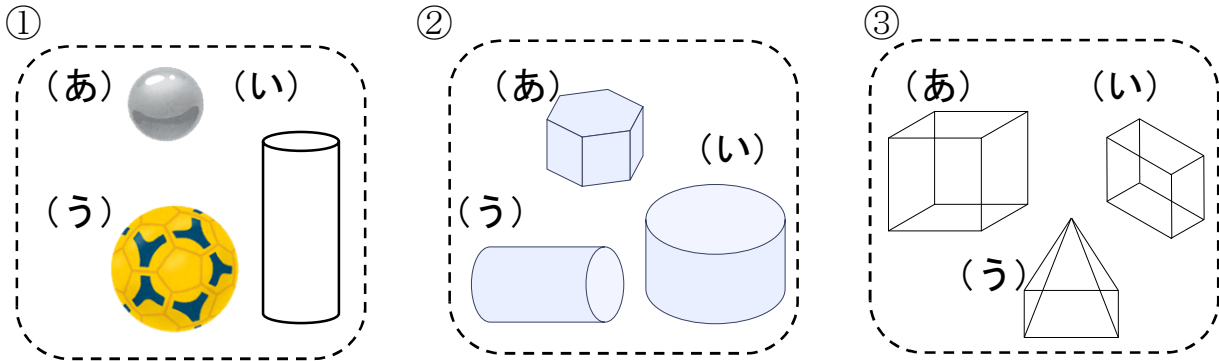
(あ)、(い)、(う)、(え) の なかから えらび かきましょう。



㊦ \_\_\_\_\_ ㊧ \_\_\_\_\_

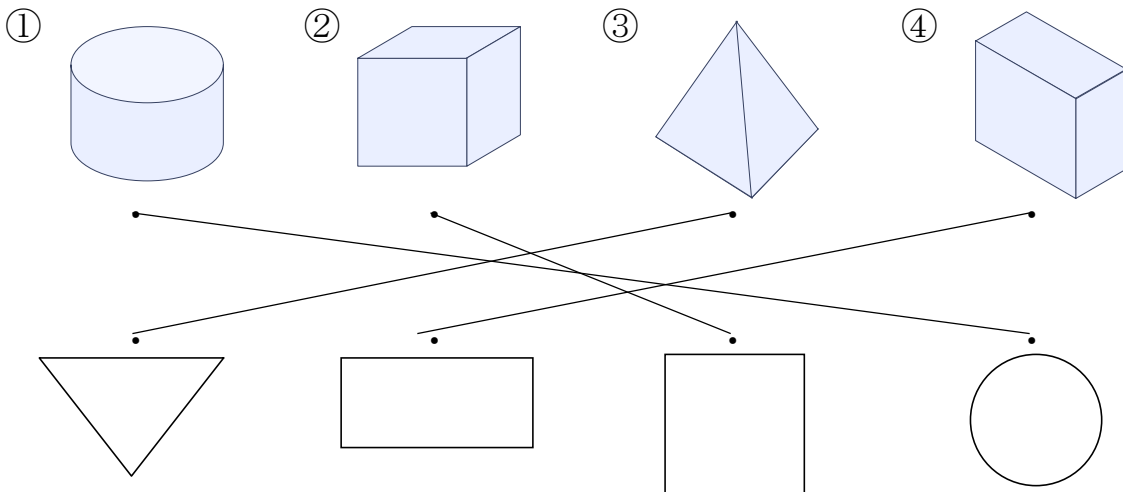
5 なかまに はいらない かたちは どれですか。(あ)、(い)、(う) で こたえましょう。

ABCDE



6 つみきの そこを うつして できる かたちを、—で むすび ましょう。

ABCDE



7 □の なかに、つぎの かたちは いくつ ありますか。

ABCDE

① しかく

\_\_\_\_\_

② さんかく

\_\_\_\_\_

③ まる

\_\_\_\_\_

