

1
ABCDE

つぎの せつめいを よんで もんだいに こたえましょう。

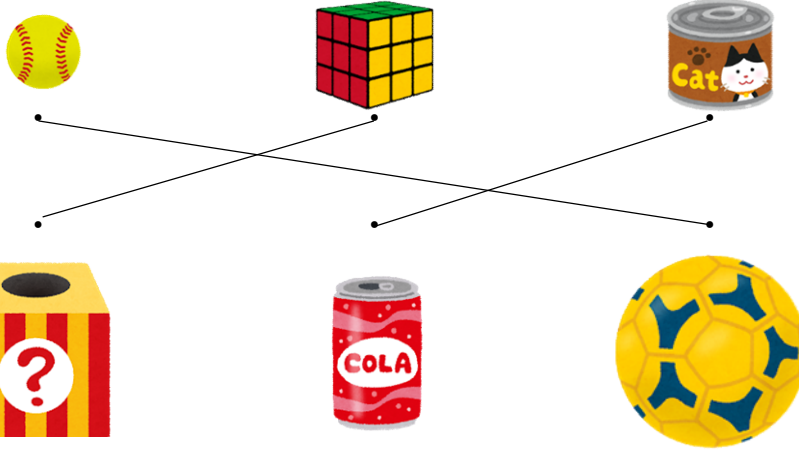
なかまわけ

hakken.の法則 

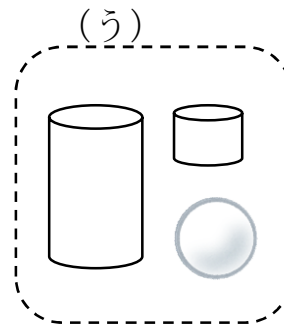
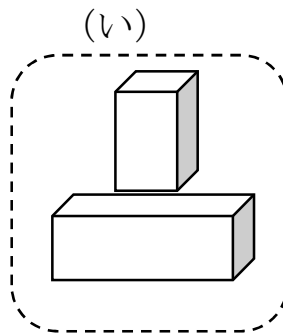
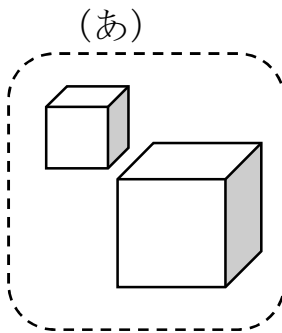
★ なかまわけ…ころがる かたち、たかく つめる かたちなどに
わける ことが できます。

れいだい つぎの もんだいに こたえましょう。

① おなじ かたちの なかまを、せんで むすびましょう。



② つみきを 3つに わけました。どのように わけたか こたえ
ましょう。

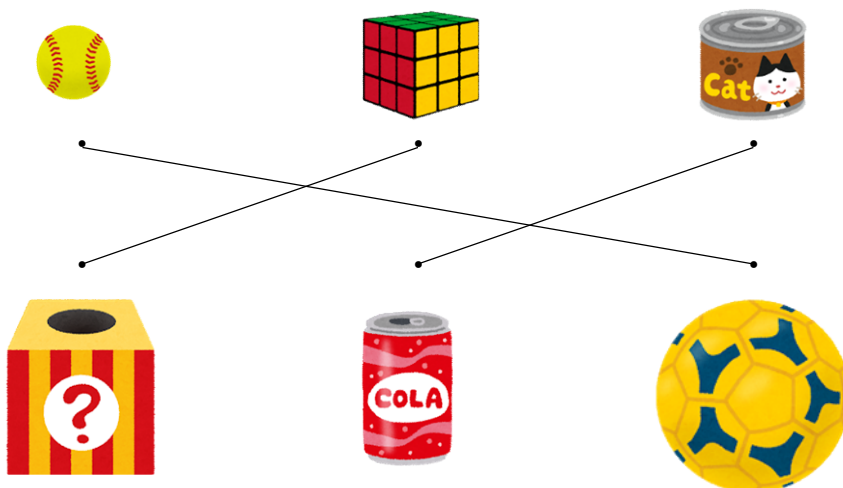


こたえ (あ) ましかくだけの かたち
(い) ながしかくが ある かたち
(う) ころがる かたち

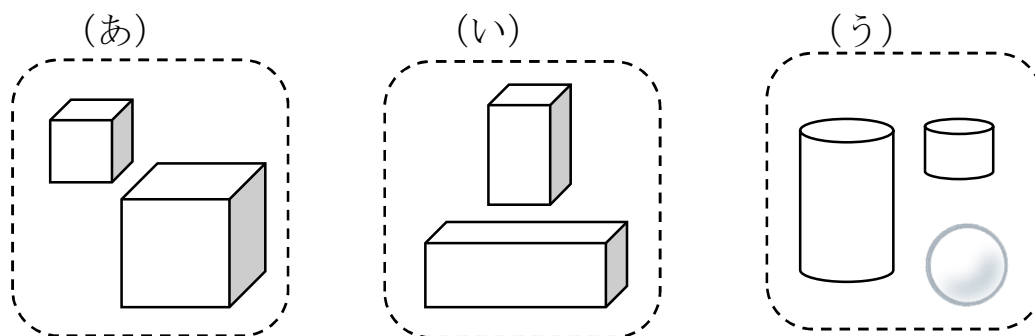
2 つぎの もんだいに こたえましょう。

ABCDE

① おなじ かたちの なかまを、せんで むすびましょう。



② つみきを 3つに わけました。どのように わけたか こたえ しましょう。



(あ) ましかくだけの かたち

(い) ながしかくが ある かたち

(う) ころがる かたち

3

ABCDE

つぎの せつめいを よんで もんだいに こたえましょう。

かたちうつし

hakken.の法則💡


★ かたちうつし…かたちを うつして、まる、さんかく、しかくを
かく ことができます。

れいだい みぎの㊦、㊧ かたちを うつして かけるのは、 どれで
すか。(あ)、(い)、(う)、(え) の なかから えらび
かきましょう。

(あ)



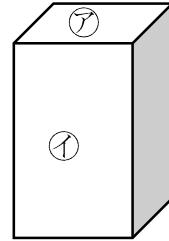
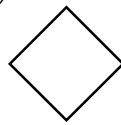
(い)



(う)



(え)



㊦で (う)、㊧で (あ) が かけます。

こたえ ㊦ (う) 、 ㊧ (あ)

4

ABCDE


みぎの㊦、㊧ かたちを うつして かけるのは、 どれですか。

(あ)、(い)、(う)、(え) の なかから えらび かきましょう。

(あ)



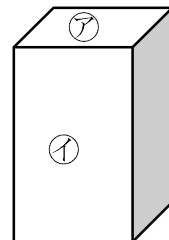
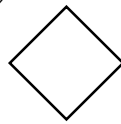
(い)



(う)



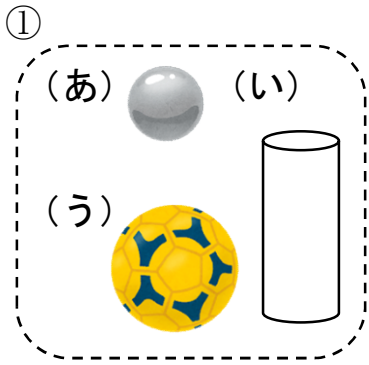
(え)



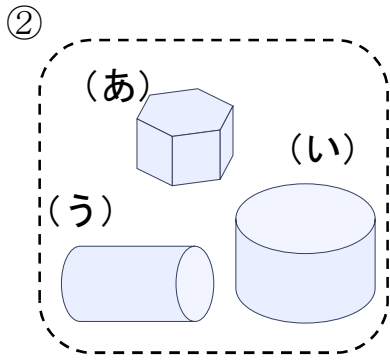
㊦で (う)、㊧で (あ) が かけます。

㊦ (う) ㊧ (あ)

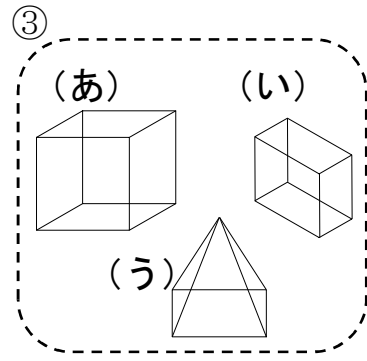
5 なかまに はいらない かたちは どれですか。(あ)、(い)、(う) で
ABCDE 答えましょう。



(い)

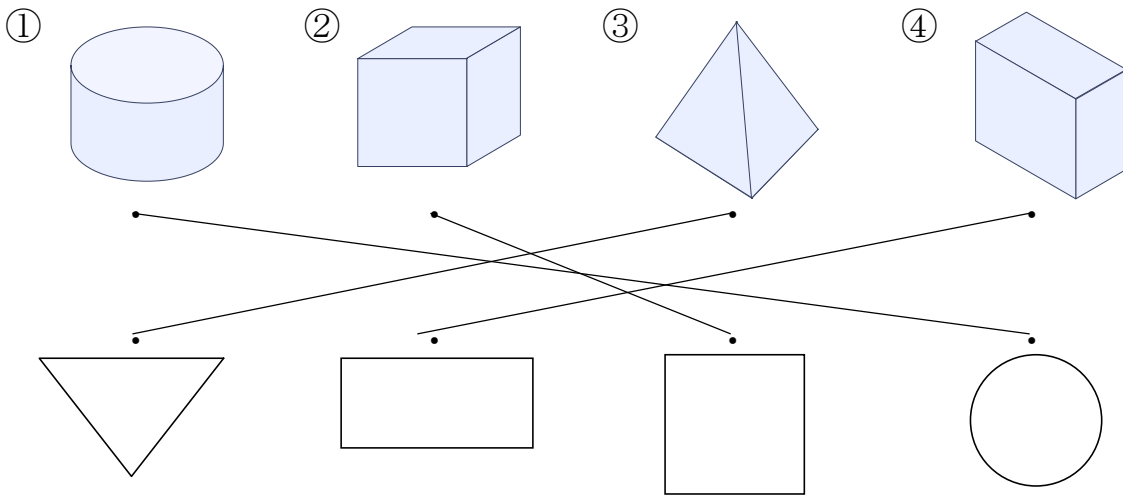


(あ)



(う)

6 つみきの そこを うつして できる かたちを、—で むすび
ABCDE ましょう。



7 □の なかに、つぎの かたちは いくつ ありますか。

ABCDE

① しかく

3つ

② さんかく

4つ

③ まる

2つ

