

2 どちらが ひろいでしょうか。


ABCDE

(あ) (い)



4 しろいろと くろいろ どちらが ひろいでしょうか。

ABCDE



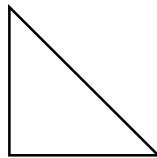

5 (あ) と (い) では、どちらが ひろいですか。

ABCDE

① (あ) (い)



② (あ) (い)



6 (あ) (い) (う) をひろいじゅんにならべましょう。

ABCDE

(あ) (い) (う)




_____ → →

7

ABCDE ずをみて 答えましょう。

- ① しろいろと くろいろは、それぞれ
いくつ ありますか。



しろいろ _____

くろいろ _____

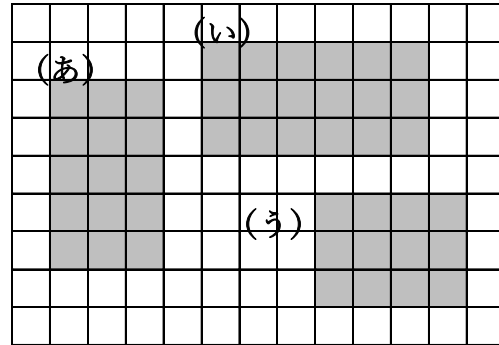
- ② しろいろと くろいろでは、どちらが ひろいですか。

_____ の ほうが ひろい。

8

ABCDE ずをみて、(あ)、(い)、(う)で
答えましょう。

- ① いちばん ひろいのは
どれですか。



- ② ひろい じゅんに ならべま
しょう。

_____ → →