

1
ABCDE

つぎの せつめいを よんで もんだいに こたえましょう。

かさねて くらべる

hakken.の法則💡

★ かさねて くらべる…かみなどの ひろさは、かさねて
くらべることが できます。

れいだい どちらが ひろいでしょうか。

(あ)



(い)



かさねて みましよう。

はみだした ほうが

ひろいので こたえは (い)

こたえ (い)




2
ABCDE

どちらが ひろいでしょうか。

(あ)



(い)




かさねて みましよう。

はみだした ほうが

ひろいので

(い)



3

ABCDE

つぎの せつめいを よんで もんだいに こたえましょう。

ますめを つかって くらべるhakken.の法則 

★ ますめを つかって くらべる…ますめの かずで ひろさを
くらべることが できます。

れいだい しろいろと くろいろ どちらが
ひろいでしょうか。

□の かずで くらべます。

くろいろは 13 こぶん、しろいろは
12 こぶんだから、くろいろ。

①	②	①	②	③
③	④	④	⑤	⑥
⑤	⑥	⑦	⑦	⑧
⑧	⑨	⑩	⑨	⑩
⑪	⑫	⑬	⑪	⑫

こたえ くろいろ

4 しろいろと くろいろ どちらが ひろいでしょうか。

ABCDE

□の かずで くらべます。

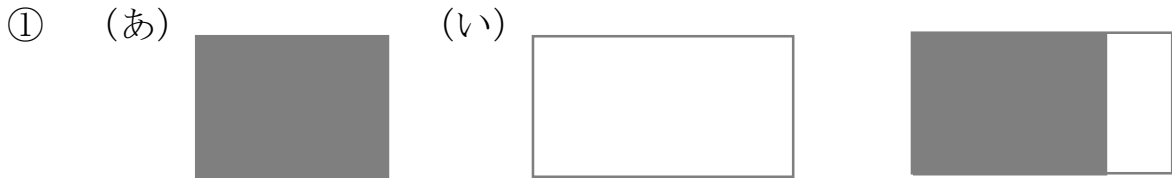
くろいろは 13 こぶん、しろいろは
12 こぶんだから、くろいろ。

くろいろ

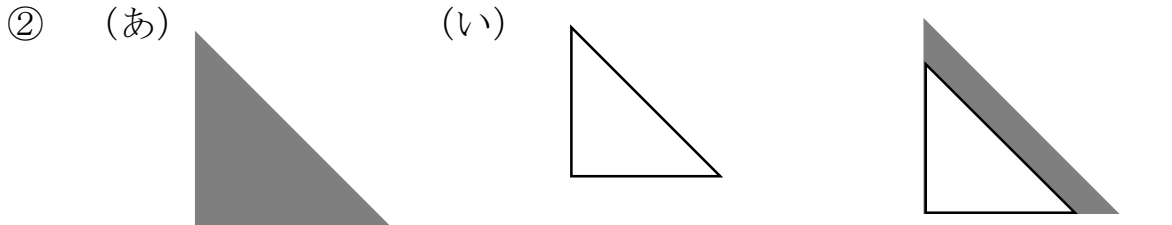
①	②	①	②	③
③	④	④	⑤	⑥
⑤	⑥	⑦	⑦	⑧
⑧	⑨	⑩	⑨	⑩
⑪	⑫	⑬	⑪	⑫

5 (あ) と (い) では、どちらが ひろいですか。

ABCDE



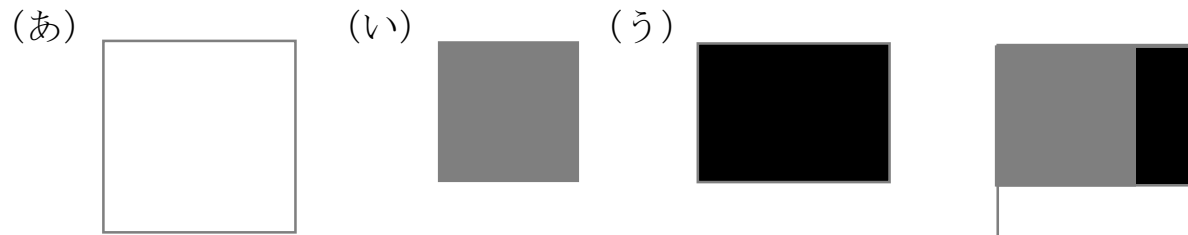
(い)



(あ)

6 (あ) (い) (う) をひろいじゅんにならべましょう。

ABCDE



(あ) → (う) → (い)

7

ABCDE

ずをみて 答えましょう。

① しろいろと くろいろは、それぞれ
いくつ ありますか。

しろいろ 13

くろいろ 17

①	②	③	④	⑤	①
⑥	⑦	⑧	⑨	⑩	②
⑪	⑫	⑬	③	④	⑤
⑭	⑮	⑥	⑦	⑧	⑨
⑯	⑰	⑩	⑪	⑫	⑬

② しろいろと くろいろでは、どちらが ひろいですか。

くろいろ の ほうが ひろい。

8 ずをみて、(あ)、(い)、(う)で
ABCDE
こたえましょう。

- ① いちばん ひろいのは
どれですか。

(い)

- ② ひろい じゅんに ならべま
しょう。

(い) → (あ) → (う)

