


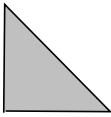
1  
ABCDE

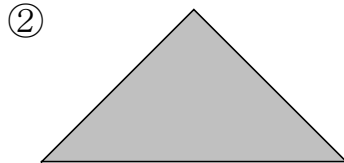

つぎの せつめいを よんで もんだいに こたえましょう

**かたちづくり**

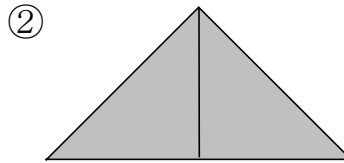
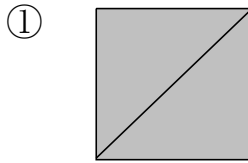
**hakken.**の法則💡

★ かたちづくり...  のいろいろたや かぞえぼうを ならべて、  
いろいろな かたちを つくる ことができます。

れいだい  を なんまい つかって つくりましたか。



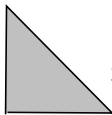
ならべかたが わかるように、せんを かきましょう。

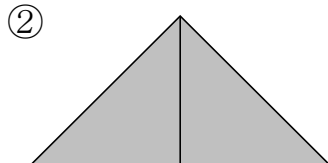
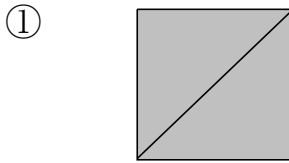


こたえ 2まい

こたえ 2まい

2  
ABCDE

 を なんまい つかって つくりましたか。



**2まい**

**2まい**

3  
ABCDE

つぎの せつめいを よんで もんだいに こたえましょう

**かぞえぼうならべ**

hakken.の法則💡

★ かぞえぼうならべ

れいだい かぞえぼうを なんぼん  
つかって いますか。



こたえ 7ほん

4  
ABCDE

かぞえぼうを なんぼん つかって いますか。



**7ほん**

5  
ABCDE

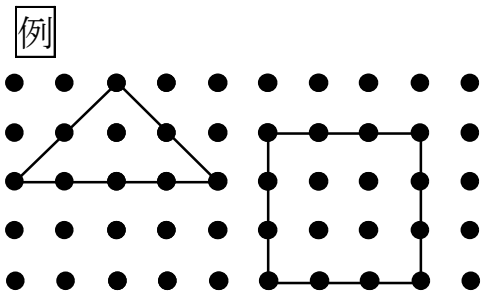
つぎの せつめいを よんで もんだいに こたえましょう

**てんを つないで**

hakken.の法則💡

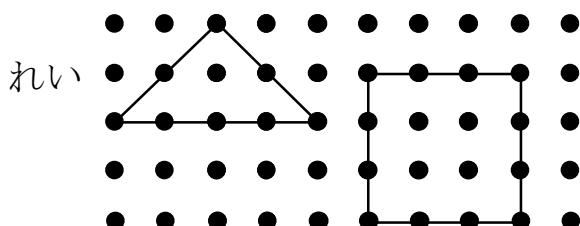
★ てんを つないで… てんと てんを せんで つないで、いろい  
ろなかたちを かく ことが できます。

れいだい ・と ・を せんで  
つないで、さんかくと  
しかくを 1つずつ  
かきましょう。



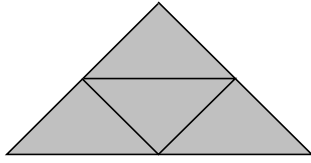
6  
ABCDE

・と ・を せんで  
つないで、さんかくと しかくを  
1つずつ かきましょう。



7  
ABCDE

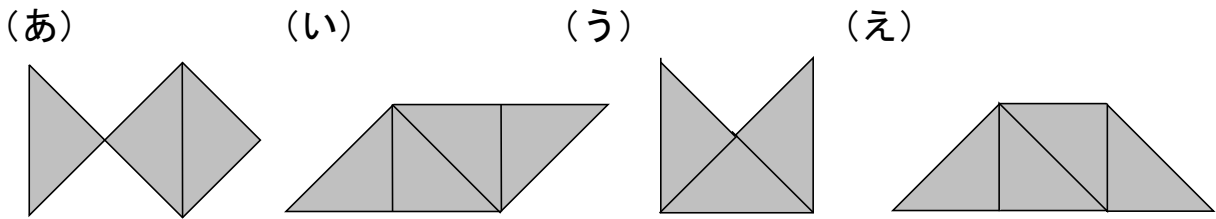
を ならべて、おおきな さんかくの かたちを つくりました。  
なんまい つかって いますか。



4まい

8  
ABCDE

を 4まい つかって できて いる かたちは どれですか。  
(あ) から (え) で、2つ こたえましょう。

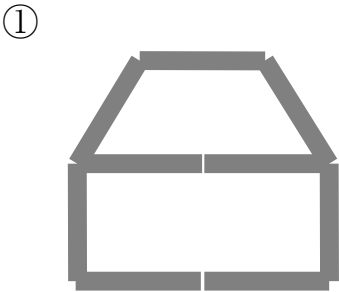


(い)


(え)

9  
ABCDE

かぞえぼうを なんぼん つかって いますか。



9ほん



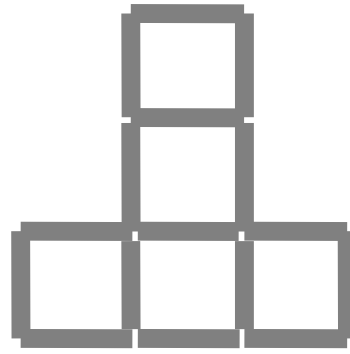
16ほん

10 かぞえぼうを つかって、みぎのような  
かたちを つくりました。

ABCDE

この なかに  の かたちは

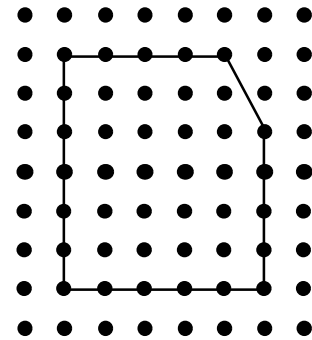
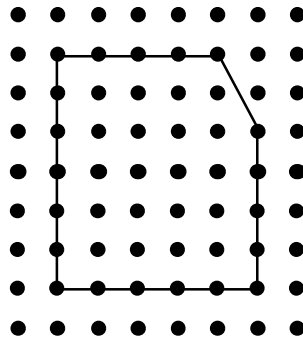
いくつ ありますか。



## 5こ

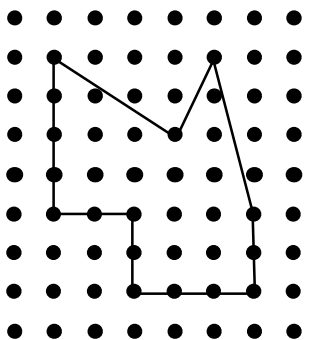
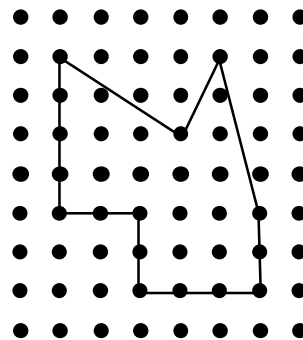
11 ・と ・を せんで  
つないで、おなじ  
かたちを かきましょう。

ABCDE



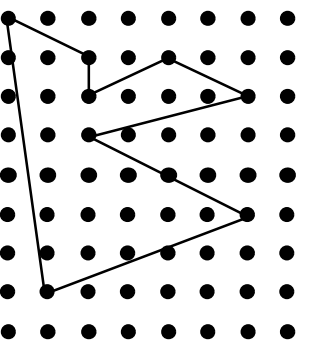
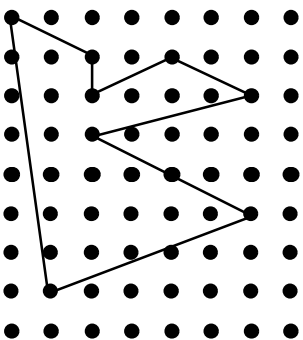
12 ・と ・を せんで  
つないで、おなじ  
かたちを かきましょう。

ABCDE



13 ・と ・を せんで  
つないで、おなじ  
かたちを かきましょう。

ABCDE



14

ABCDE

・と ・を せんで  
つないで、おなじ  
かたちを かきましょう。

