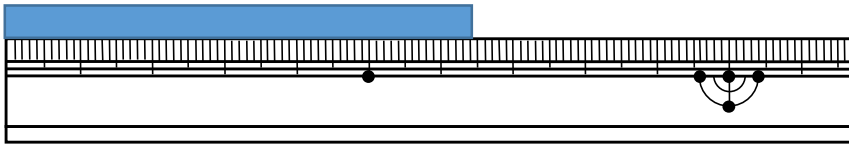


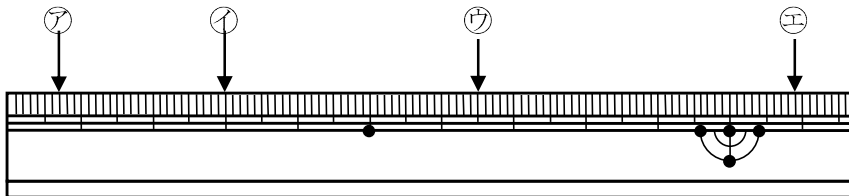
2 テープの 長さは 何 cm 何 mm ですか。また、何 mm ですか。



4 けいさん 計算を しましょう。

$2\text{cm}4\text{mm} + 3\text{mm}$

5 ア～エの 長さは どれだけですか。



ア

イ

ウ

エ

6 つぎの 長さの 直線を ものさしを つかって ひきましょう。

① 5cm

② 6cm7mm

7 ()に あてはまる ^{かず}数を ^か書きましょう。

① $2\text{cm} = (\quad)\text{mm}$

② $30\text{mm} = (\quad)\text{cm}$

③ $6\text{cm}7\text{mm} = (\quad)\text{mm}$

④ $54\text{mm} = (\quad)\text{cm}(\quad)\text{mm}$

8 たし算を しましょう。

① $3\text{cm}4\text{mm} + 7\text{cm}$

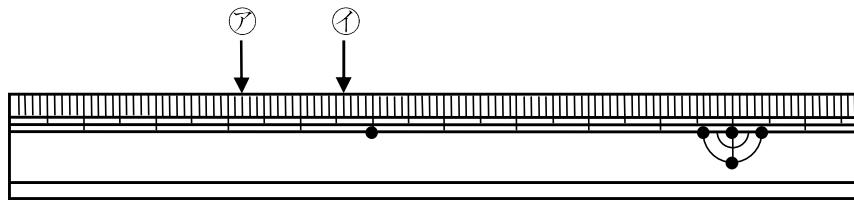
② $6\text{cm}2\text{mm} + 7\text{cm}6\text{mm}$

9 ひき算を しましょう。

① $7\text{cm}6\text{mm} - 4\text{cm}$

② $8\text{cm}7\text{mm} - 4\text{mm}$

10 つぎのもんだいに答えましょう。



① ㊦、㊧の長さは どれだけですか。

㊦ _____ ㊧ _____

② ㊦、㊧の長さを たすと、何 cm 何 mm に なりますか。

(しき)

② ㊦、㊧の長さの ちがいは 何 cm 何 mm ですか。

(しき)
