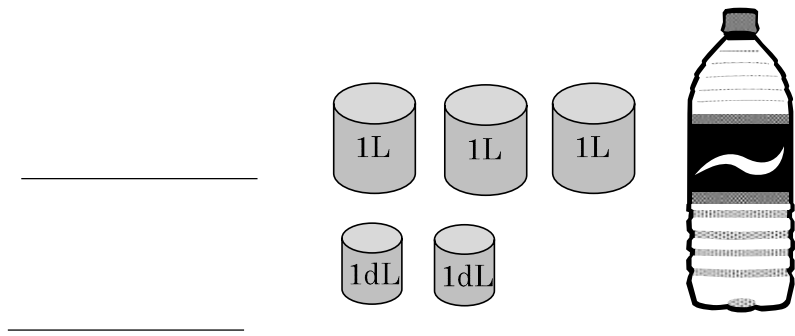


2-6 水のかさの計算

2 ペットボトルに入る水のかさは、何L何dLですか。また何dLですか。

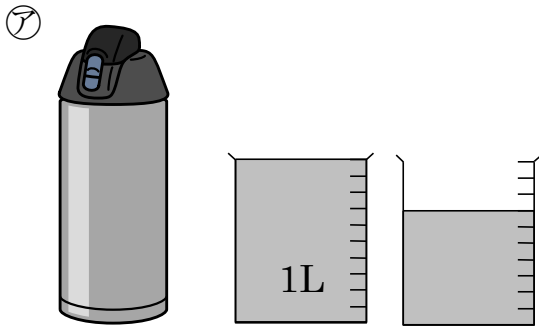


4 次の けいさん 計算を しましょう。

① 2L 4dL + 3L


② 6L 8dL - 5dL

5 ㉞の すいとう 水筒に入る水のかさは、それぞれ何L何dLですか。  
また、何dLですか。



\_\_\_\_\_

\_\_\_\_\_



\_\_\_\_\_

\_\_\_\_\_

6 ( ) あてはまる数を書きましょう。

① 4L 5dL = ( ) dL

② 63dL = ( ) L ( ) dL

7 お茶が、ペットボトルに2L、水筒に500mL入っています。

① ペットボトルのお茶のかさは、何 mL ですか。

\_\_\_\_\_

② ペットボトルと水筒のお茶のかさは、どちらが何 mL 多いですか。

\_\_\_\_\_ のほうが \_\_\_\_\_ 多い

8 次の計算をしましょう。

① 7L 2dL + 6L 4dL

② 6L 7dL - 4L 3dL

9 次の計算をしましょう。

① 5L 4dL + 3dL

② 9L 8dL - 5L

10 水が、やかんに4L 5dL、ペットボトルに2L入っています。

① 水は、あわせて何 L 何 dL になりますか。

(しき)

\_\_\_\_\_

② やかんとペットボトルに入っている水のかさのちがいは何 dL ですか。

(しき)

\_\_\_\_\_