

2-11 かけ算①

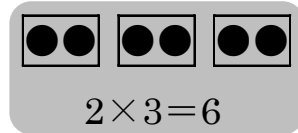
1 つぎの せつめい 説明を よ 読んで もんだい 問題に こた 答えましょう。

かけ算

hakken.の法則💡

★ かけ算・・・ $2 \times 3 = 6$ 、 $5 \times 2 = 10$ のような計算をかけ算といいます。


2 この3つ分が6こになることを、しきで書くと
 $2 \times 3 = 6$ となり、「2かける3は6」とよみます。



れいだい 5 このおはじきが2くみあります。

かけ算のしきを書きましょう。

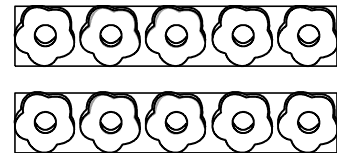
$5 \times 2 = 10$



答えは、 $5 + 5 = 10$ でもとめる
ことができます。 答 $5 \times 2 = 10$

2 5 このおはじきが2くみあります。
かけ算のしきを書きましょう。

$5 \times 2 = 10$



答えは、 $5 + 5 = 10$ でもとめる
ことができます。 **$5 \times 2 = 10$**

3 つぎの せつめい 説明を よ 読んで もんだい 問題に こた 答えましょう。

かけ算とばい

hakken.の法則💡

★ かけ算とばい

れいだい 5cm の2ばい、3ばいの長さは何cmですか。

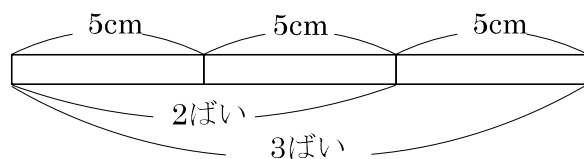
5cm の2つ分を5cm の2ばい といいます。

5cm の3つ分を5cm の3ばい といいます。

したがって

答 2ばい 10cm

3ばい 15cm



4 5cm の 2 ばい、3 ばいの長さは何 cm ですか。

ABCDE

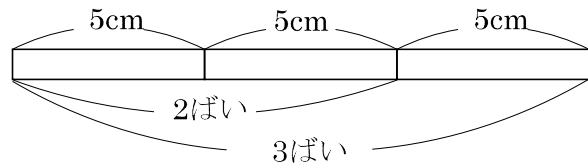
5cm の 2 つ分を

5cm の 2 ばい といいます。

5cm の 3 つ分を 5cm の 3 ばい といいます。

2 ばい 10cm


3 ばい 15cm



5 かけ算のしきに書きましょう。


BCDE

①



$$\underline{3 \times 2 = 6}$$

②



$$\underline{2 \times 4 = 8}$$

6 つぎのかけ算をたし算でもとめましょう。

BCDE

① $8 \times 5 = 8 + 8 + 8 + 8 + 8 = 40$

② $7 \times 6 = 7 + 7 + 7 + 7 + 7 + 7 = 42$

7 6cm のリボンがあります。このリボンの 2 ばいの長さは何 cm ですか。

BCDE

(しき) $6 \times 2 = 12(\text{cm})$

12cm

8

ABCDE

つぎの せつめい 説明を よ 読んで もんだい 問題に こた 答えましょう。

5のだんの九九

hakken.の法則 

★ 5のだんの九九

ご いち が ご
 $5 \times 1 = 5$

ご に じゅう
 $5 \times 2 = 10$

ご さん じゅうご
 $5 \times 3 = 15$

ご し にじゅう
 $5 \times 4 = 20$

ご ご にじゅうご
 $5 \times 5 = 25$

ご ろく さんじゅう
 $5 \times 6 = 30$

ご しち さんじゅうご
 $5 \times 7 = 35$

ご はち しじゅう
 $5 \times 8 = 40$

ご く しじゅうご
 $5 \times 9 = 45$

$5 \times 2, 5 \times 3 \dots$ の^{こた}答えを

ごいち ご ごに じゅう
「ご一が五」「ご二 じゅう十」と

いっておぼえる ^{かた}いい方を

5のだんの九九といいます。

※ 5のだんの九九では、

^{こた}答えは5ずつふえていきます。

5のだんの九九を おぼえてから

もんだいを ときましょう。

9 かけ算をしましょう。

ABCDE

① $5 \times 1 = 5$

⑥ $5 \times 6 = 30$

② $5 \times 2 = 10$

⑦ $5 \times 7 = 35$

③ $5 \times 3 = 15$

⑧ $5 \times 8 = 40$

④ $5 \times 4 = 20$

⑨ $5 \times 9 = 45$

⑤ $5 \times 5 = 25$

10 かけ算をしましょう。

ABCDE

① $5 \times 5 = 25$

⑥ $5 \times 6 = 30$

② $5 \times 2 = 10$

⑦ $5 \times 1 = 5$

③ $5 \times 8 = 40$

⑧ $5 \times 4 = 20$

④ $5 \times 3 = 15$

⑨ $5 \times 7 = 35$

⑤ $5 \times 9 = 45$

11

ABCDE

つぎの せつめい 説明を よ 読んで もんだい 問題に こた 答えましょう。

2のだんの九九

hakken.の法則 

★ 2のだんの九九

に いちがに
 $2 \times 1 = 2$

に にかし
 $2 \times 2 = 4$

に さんがろく
 $2 \times 3 = 6$

に しはち
 $2 \times 4 = 8$

に ごじゅう
 $2 \times 5 = 10$

に ろくじゅうに
 $2 \times 6 = 12$

に しちじゅうし
 $2 \times 7 = 14$

に はちじゅうろく
 $2 \times 8 = 16$

に くじゅうはち
 $2 \times 9 = 18$

2のだんの九九では

こた 答えは2ずつふえていきます。

2のだんの九九を おぼえてから
もんだいを ときましょう。

12 かけ算をしましょう。

ABCDE

① $2 \times 1 = 2$

⑥ $2 \times 6 = 12$

② $2 \times 2 = 4$

⑦ $2 \times 7 = 14$

③ $2 \times 3 = 6$

⑧ $2 \times 8 = 16$

④ $2 \times 4 = 8$

⑨ $2 \times 9 = 18$

⑤ $2 \times 5 = 10$

13 かけ算をしましょう。

ABCDE

① $2 \times 5 = 10$

⑥ $2 \times 6 = 12$

② $2 \times 2 = 4$

⑦ $2 \times 3 = 6$

③ $2 \times 8 = 16$

⑧ $2 \times 7 = 14$

④ $2 \times 1 = 2$

⑨ $2 \times 4 = 8$

⑤ $2 \times 9 = 18$

14 かけ算をしましょう。

ABCDE

① $5 \times 6 = 30$

⑩ $2 \times 6 = 12$

② $2 \times 2 = 4$

⑪ $5 \times 2 = 10$

③ $5 \times 3 = 15$

⑫ $5 \times 4 = 20$

④ $2 \times 1 = 2$

⑬ $2 \times 4 = 8$

⑤ $5 \times 5 = 25$

⑭ $2 \times 5 = 10$

⑥ $2 \times 3 = 6$

⑮ $5 \times 1 = 5$

⑦ $5 \times 8 = 40$

⑯ $2 \times 7 = 14$

⑧ $2 \times 9 = 18$

⑰ $5 \times 7 = 35$

⑨ $5 \times 9 = 45$

⑱ $2 \times 8 = 16$

15

ABCDE

つぎの せつめい 説明を よ 読んで もんだい 問題に こた 答えましょう。

3のだんの九九

hakken.の法則 ★ 3のだんの九九

さん いち が さん
 $3 \times 1 = 3$

さん に が ろく
 $3 \times 2 = 6$

さん さん く
 $3 \times 3 = 9$

さん し じゅうに
 $3 \times 4 = 12$

さん ご じゅうご
 $3 \times 5 = 15$

さん ろく じゅうはち
 $3 \times 6 = 18$

さん しち にじゅういち
 $3 \times 7 = 21$

さん ぱ にじゅうし
 $3 \times 8 = 24$

さん く にじゅうしち
 $3 \times 9 = 27$

3のだんの九九では

こた 答えは3ずつ ふえていきます。

※ 3×5のしきで、

3をかけるかずられる数5を、かけるかず数といいます。

3のだんの九九を おぼえてから

もんだいを ときましょう。

16 かけ算をしましょう。

ABCDE

① $3 \times 1 = 3$

⑥ $3 \times 6 = 18$

② $3 \times 2 = 6$

⑦ $3 \times 7 = 21$

③ $3 \times 3 = 9$

⑧ $3 \times 8 = 24$

④ $3 \times 4 = 12$

⑨ $3 \times 9 = 27$

⑤ $3 \times 5 = 15$

17 かけ算をしましょう。

ABCDE

① $3 \times 3 = 9$

⑥ $3 \times 6 = 18$

② $3 \times 8 = 24$

⑦ $3 \times 1 = 3$

③ $3 \times 2 = 6$

⑧ $3 \times 4 = 12$

④ $3 \times 5 = 15$

⑨ $3 \times 7 = 21$

⑤ $3 \times 9 = 27$

18 かけ算をしましょう。

ABCDE

① $2 \times 5 = 10$

⑩ $3 \times 9 = 27$

② $5 \times 1 = 5$

⑪ $3 \times 6 = 18$

③ $3 \times 8 = 24$

⑫ $2 \times 3 = 6$

④ $2 \times 9 = 18$

⑬ $3 \times 4 = 12$

⑤ $3 \times 5 = 15$

⑭ $5 \times 7 = 35$

⑥ $3 \times 3 = 9$

⑮ $3 \times 1 = 3$

⑦ $5 \times 8 = 40$

⑯ $2 \times 7 = 14$

⑧ $3 \times 2 = 6$

⑰ $3 \times 7 = 21$

⑨ $5 \times 9 = 45$

⑱ $2 \times 8 = 16$

19 かけ算をしましょう。

ABCDE

① $3 \times 8 = 24$

⑩ $3 \times 9 = 27$

② $5 \times 3 = 15$

⑪ $5 \times 2 = 10$

③ $3 \times 3 = 9$

⑫ $3 \times 4 = 12$

④ $2 \times 1 = 2$

⑬ $2 \times 4 = 8$

⑤ $3 \times 5 = 15$

⑭ $3 \times 6 = 18$

⑥ $2 \times 2 = 4$

⑮ $5 \times 6 = 30$

⑦ $2 \times 6 = 12$

⑯ $3 \times 1 = 3$

⑧ $3 \times 2 = 6$

⑰ $5 \times 4 = 20$

⑨ $5 \times 5 = 25$

⑱ $3 \times 7 = 21$

20
ABCDEつぎの せつめい 説明を よ 読んで もんだい 問題に こた 答えましょう。**4のだんの九九**hakken. の法則 ★ 4のだんの九九

し いち が し
 $4 \times 1 = 4$

し に が はち
 $4 \times 2 = 8$

し さん じゅうに
 $4 \times 3 = 12$

し し じゅうろく
 $4 \times 4 = 16$

し ご にじゅう
 $4 \times 5 = 20$

し ろく にじゅうし
 $4 \times 6 = 24$

し しち にじゅうはち
 $4 \times 7 = 28$

し は さんじゅうに
 $4 \times 8 = 32$

し く さんじゅうろく
 $4 \times 9 = 36$

くく
4のだんの九九ではこた
答えは2ずつ ふえていきます。4のだんの九九を くく おぼえてから
もんだいを くく ときましょう。

21 かけ算をしましょう。

ABCDE

① $4 \times 1 = 4$

⑥ $4 \times 6 = 24$

② $4 \times 2 = 8$

⑦ $4 \times 7 = 28$

③ $4 \times 3 = 12$

⑧ $4 \times 8 = 32$

④ $4 \times 4 = 16$

⑨ $4 \times 9 = 36$

⑤ $4 \times 5 = 20$

22 かけ算をしましょう。

ABCDE

① $4 \times 9 = 36$

⑥ $4 \times 6 = 24$

② $4 \times 7 = 28$

⑦ $4 \times 1 = 4$

③ $4 \times 2 = 8$

⑧ $4 \times 4 = 16$

④ $4 \times 5 = 20$

⑨ $4 \times 8 = 32$

⑤ $4 \times 3 = 12$

23 かけ算をしましょう。

ABCDE

① $5 \times 6 = 30$

⑩ $4 \times 9 = 36$

② $4 \times 8 = 32$

⑪ $5 \times 2 = 10$

③ $4 \times 2 = 8$

⑫ $4 \times 1 = 4$

④ $5 \times 3 = 15$

⑬ $5 \times 4 = 20$

⑤ $4 \times 3 = 12$

⑭ $4 \times 6 = 24$

⑥ $4 \times 7 = 28$

⑮ $3 \times 1 = 3$

⑦ $2 \times 2 = 4$

⑯ $4 \times 4 = 16$

⑧ $4 \times 5 = 20$

⑰ $3 \times 8 = 24$

⑨ $3 \times 6 = 18$

⑱ $2 \times 6 = 12$

24 かけ算をしましょう。

ABCDE

① $3 \times 3 = 9$

⑩ $4 \times 6 = 24$

② $4 \times 1 = 4$

⑪ $3 \times 7 = 21$

③ $5 \times 5 = 25$

⑫ $4 \times 5 = 20$

④ $4 \times 7 = 28$

⑬ $4 \times 8 = 32$

⑤ $2 \times 3 = 6$

⑭ $3 \times 4 = 12$

⑥ $4 \times 9 = 36$

⑮ $4 \times 4 = 16$

⑦ $3 \times 5 = 15$

⑯ $2 \times 1 = 2$

⑧ $4 \times 2 = 8$

⑰ $4 \times 3 = 12$

⑨ $2 \times 5 = 10$

⑱ $2 \times 4 = 8$

25 かけ算をしましょう。

ABCDE

① $2 \times 8 = 16$

⑩ $4 \times 6 = 24$

② $4 \times 7 = 28$

⑪ $3 \times 2 = 6$

③ $5 \times 1 = 5$

⑫ $4 \times 4 = 16$

④ $4 \times 5 = 20$

⑬ $4 \times 8 = 32$

⑤ $4 \times 3 = 12$

⑭ $5 \times 7 = 35$

⑦ $5 \times 8 = 40$

⑮ $2 \times 7 = 14$

③ $4 \times 1 = 4$

⑯ $4 \times 2 = 8$

⑧ $2 \times 9 = 18$

⑰ $3 \times 8 = 24$

⑨ $5 \times 9 = 45$

⑱ $4 \times 9 = 36$