

1

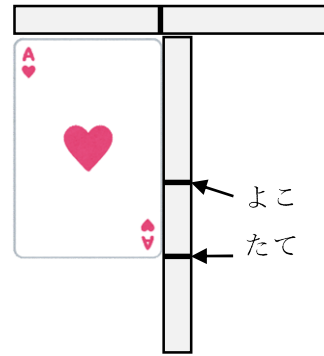
つぎの せつめいを よんで もんだいに こたえましょう。

どちらが ながい てえぶを つかって hakken.の法則 

★ どちらが ながい てえぶを つかって

ながさは、てえぶなどに うつして くらべることが できます。
れいだい たてと よこの ながさを
くらべます。

たてと よこ どちらが ながいか
こたえましょう。



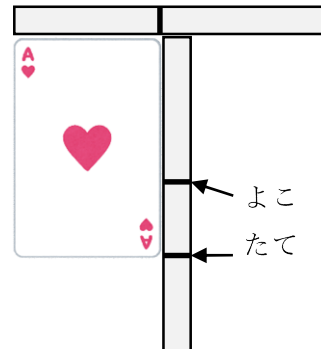
はみだした ほうが ながいから、たて

こたえ たて

2 たてと よこの ながさを

くらべます。

たてと よこ どちらが ながいか
こたえましょう。



3 つぎの せつめいを よんで もんだいに こたえましょう。

どちらが ながい ますめを つかって hakken.の法則 

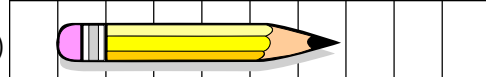
★ どちらが ながい ますめを つかって

ながさは、ますめなどが いくつぶん あるかで くらべる ことができます。

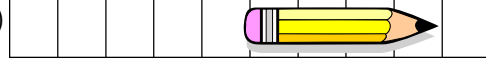
れいだい どちらが

ながい でしょうか。

(あ)



(い)



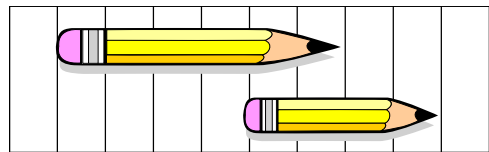
(あ) は 6つぶん、(い) は 4つぶんの ながさです。

(あ) のほうが ながいです。

こたえ (あ)

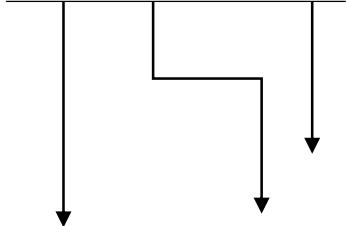
4 どちらが ながい でしょうか。

(あ)



5 (あ) から (う) で いちばん ながい ものと いちばん みじかい ものを こたえましょう。

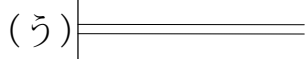
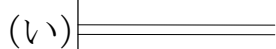
① (あ) (い) (う)



いちばん ながい もの _____

いちばん みじかい もの _____

②



いちばん ながい もの _____

いちばん みじかい もの _____

6 たてと よこの ながさを くらべます。たてと よこでは、どちらが ながいでしょう。

①



②



7 ずを みて、(あ) から (か) で きたえましょう。

① いちばん ながいのは どれですか。

② いちばん みじかいのは どれですか。

(あ)																		(か)
(お)	(い)																	
			(う)															
		(え)																

8 がようしの たてと よこの ながさを、きのぼうを つかって はかりました。たては 4つぶん よこは 6つぶん ありました。たてと よこでは、どちらが ながいですか。
