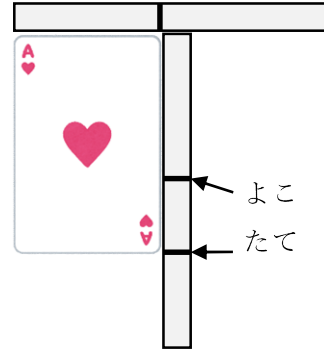


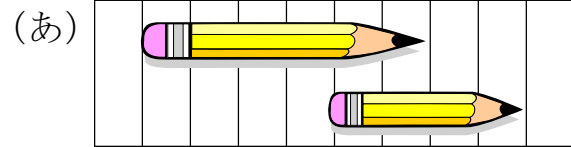
1-6 ながさくらべ

2 たてと よこの ながさを  
くらべます。

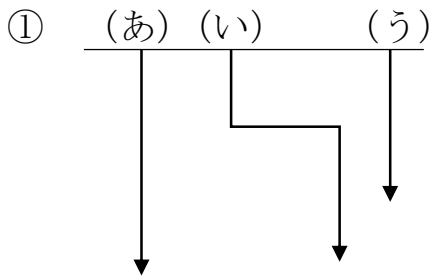
たてと よこ どちらが ながいか  
こたえましょう。



4 どちらが ながいでしょうか。

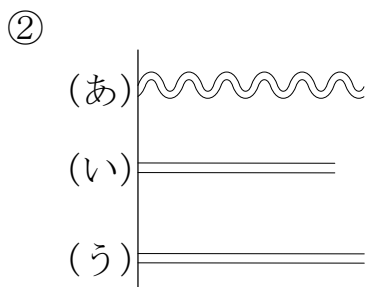


5 (あ)から(う)で いちばん ながい ものと いちばん みじかい も  
のを こたえましょう。



いちばん ながい もの \_\_\_\_\_

いちばん みじかい もの \_\_\_\_\_



いちばん ながい もの \_\_\_\_\_

いちばん みじかい もの \_\_\_\_\_

6 たてと よこの ながさを くらべます。たてと よこでは、どちらが ながいでしょう。

①



\_\_\_\_\_

②



\_\_\_\_\_

7 ずを みて、(あ) から (か) で きたえましょう。

① いちばん ながいのは どれですか。

\_\_\_\_\_

② いちばん みじかいのは どれですか。

\_\_\_\_\_

(あ)																		(か)
(お)	(い)																	
			(う)															
	(え)																	

8 がようしの たてと よこの ながさを、きのぼうを つかって はかりました。たては 4つぶん よこは 6つぶん ありました。たてと よこでは、どちらが ながいですか。

\_\_\_\_\_