

1


つぎの せつめいを よんで もんだいに こたえましょう。

なんじ

hakken.の法則💡

★ なんじ

みじかい はりの かずを よみます。
ながい はりは 12を さします。



4じ

れいだい なんじですか。

みじかい はりの かずを
よみます。

9を さして いるから 9じ

こたえ 9じ



2

なんじですか。



3


つぎの せつめいを よんで もんだいに こたえましょう。

なんじはん

hakken.の法則💡

★ なんじはん

みじかい はりの となりの かずで、
ちいさい ほうの かずを よみます。
ながい はりは 6を さします。




4じはん

れいだい なんじはんですか。

みじかい はりは 9と 10の
あいだです。ちいさい ほうの
かずを よみます。

こたえ 9じはん

4 なんじはんですか。




5 なんじですか。


①



②



③



④



6 ながい はりを かきましょう。

① 3じ



② 8じはん



7 () に あてはまる とけいの すうじを かきましょう。

- ① 5 じのとき、みじかい はりは すうじの () のところ
を さして います。
- ② 10 じのとき、ながい はりは すうじの () のところ
を さして います。
- ③ 3 じはんのとき、ながい はりは すうじの () のところ
を さして います。
- ④ 2 じはんのとき、みじかい はりは すうじの () と
() の あいだを さして います。