


2 びんに いっぱい はいった みずを  
コップに うつしかえ ました。  
びんと コップのどちらに おおく  
はいりますか。



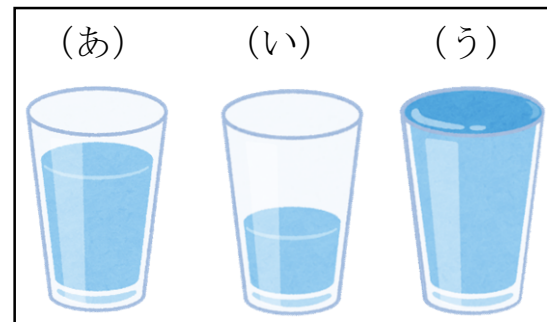
4 どちらが どれだけ おおく はいりますか。  
(あ) (い)



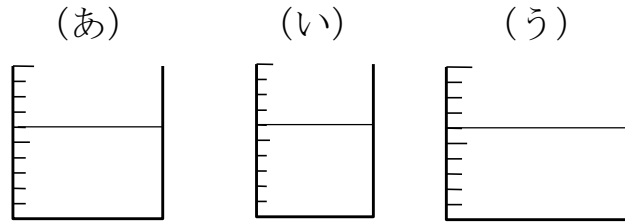
5 ずを みて、(あ)、(い)、(う) で こたえましょう。

① みずが いちばん おおいのは  
どれですか。

② みずが いちばん すくないのは  
どれですか。



6 みずが おおい じゆんに、  
 (あ)、(い)、(う) を  
 ならべましょう。



\_\_\_\_\_ → \_\_\_\_\_ → \_\_\_\_\_

7 ずを みて こたえましょう。

(あ)



(い)



(う)



① (あ)、(い)、(う) には、それぞれ コップで なんばいの  
 みずが はいりますか。

(あ) \_\_\_\_\_ (い) \_\_\_\_\_ (う) \_\_\_\_\_

② みずが いちばん おおく はいるのは どれですか。

\_\_\_\_\_

③ (う) は、(あ) より どれだけ みずが おおく はいりますか。

コップで \_\_\_\_\_ ぶん みずが おおく はいる。

④ (あ) と (い) では、みずは どちらに どれだけ おおく  
 はいりますか。

\_\_\_\_\_