


2 びんに いっぱい はいった みずを
コップに うつしかえ ました。
びんと コップのどちらに おおく
はいりますか。



コップ には まだ はいるから コップ

コップ

4 どちらが どれだけ おおく はいりますか。
(あ) (い)



(あ) は 3はいぶん、(い) は4はいぶん はいります。
(い) が、 $4-3=1$ (はいぶん) おおく はいります。

(い) に コップで 1はいぶん おおく はいる

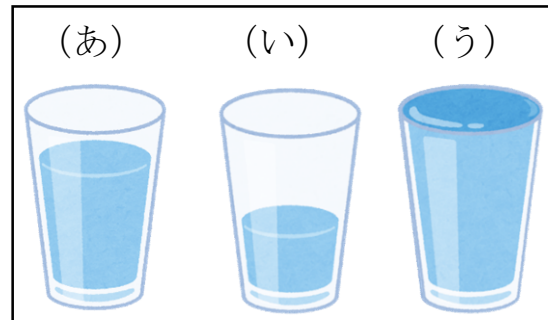
5 ずを みて、(あ)、(い)、(う) で こたえましょう。

① みずが いちばん おおいのは
どれですか。

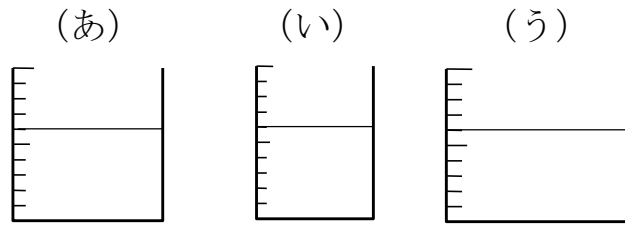
(う)

② みずが いちばん すくないのは
どれですか。

(い)



- 6 みずが おおい じゆんに、
(あ)、(い)、(う) を
ならべましょう。



(う) → (あ) → (い)

- 7 ずを みて こたえましょう。

(あ)



(い)



(う)



- ① (あ)、(い)、(う) には、それぞれ コップで なんばいの
みずが はいりますか。

(あ) 3 ばい (い) 6 ばい (う) 5 ばい

- ② みずが いちばん おおく はいるのは どれですか。

(あ)、(い)、(う) で こたえましょう。

(い)

- ③ (う) は、(あ) より どれだけ みずが おおく はいりますか。

コップで 2 ばい ぶん みずが おおく はいる。

- ④ (あ) と (い) では、みずは どちらに どれだけ おおく
はいりますか。

$$6 - 3 = 3$$

(い) に コップで 3 ばいぶん おおく はいる。