

1

つぎの せつめいを よんで もんだいに こたえましょう。

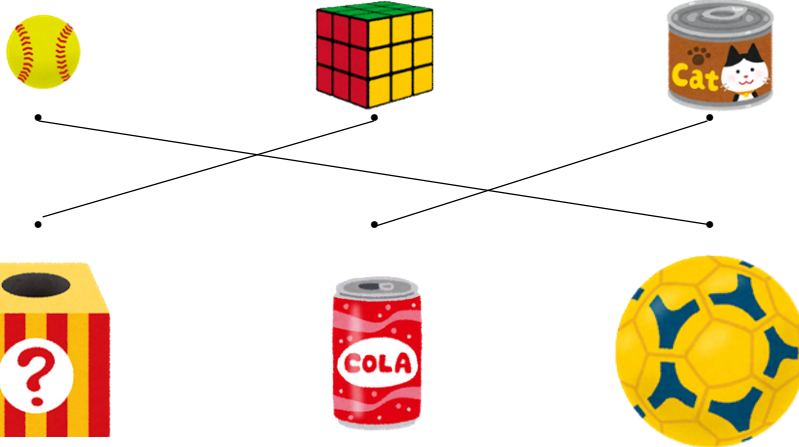
なかまわけ

hakken.の法則 

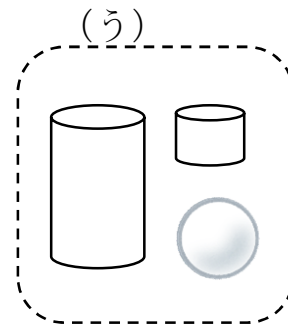
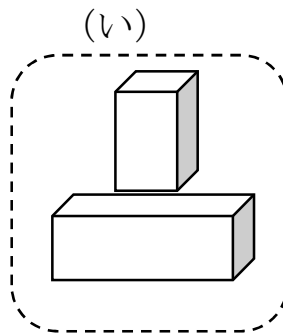
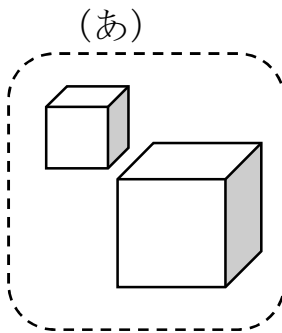
★ なかまわけ…ころがる かたち、たかく つめる かたちなどに
わける ことが できます。

れいだい つぎの もんだいに こたえましょう。

① おなじ かたちの なかまを、せんで むすびましょう。



② つみきを 3つに わけました。どのように わけたか こたえ
ましょう。



こたえ (あ) ましかくだけの かたち
 (い) ながしかくが ある かたち
 (う) ころがる かたち

2 つぎの もんだいに こたえましょう。

① おなじ かたちの なかまを、せんで むすびましょう。



.

.

.

.

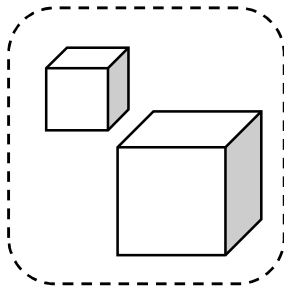
.

.

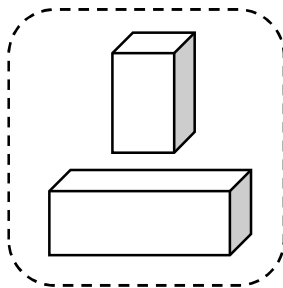


② つみきを 3つに わけました。どのように わけたか こたえ
ましょう。

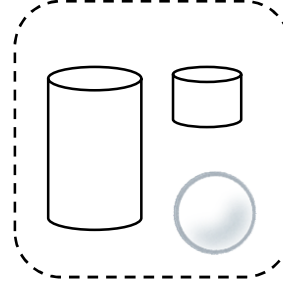
(あ)



(い)



(う)



(あ)

(い)

(う)

3

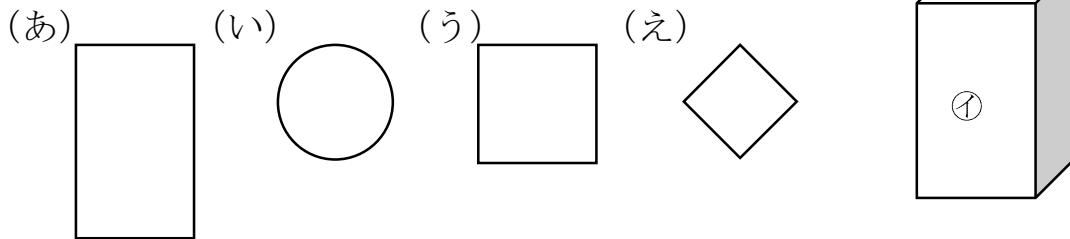
つぎの せつめいを よんで もんだいに こたえましょう。

かたちうつし

hakken.の法則💡

★ かたちうつし…かたちを うつして、まる、さんかく、しかくを
かく ことができます。

れいだい みぎの㊦、㊧ かたちを うつして かけるのは、 どれで
すか。(あ)、(い)、(う)、(え) の なかから えらび
かきましょう。



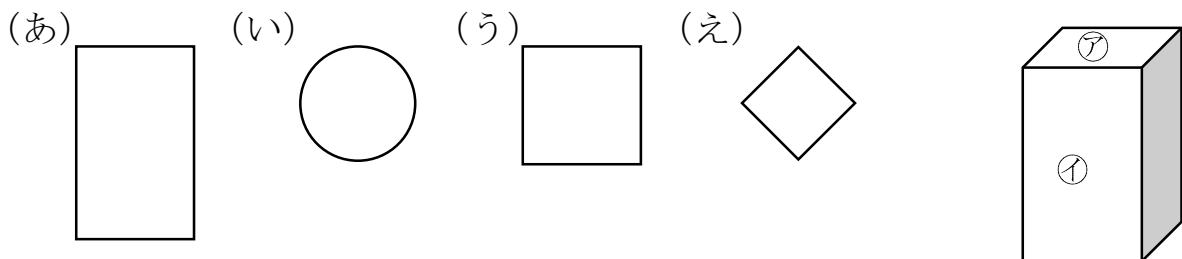
㊦で (う)、㊧で (あ) が かけます。

こたえ ㊦ (う) 、 ㊧ (あ)

4

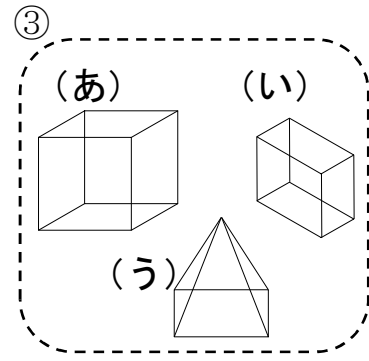
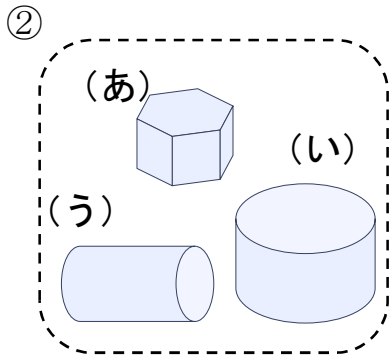
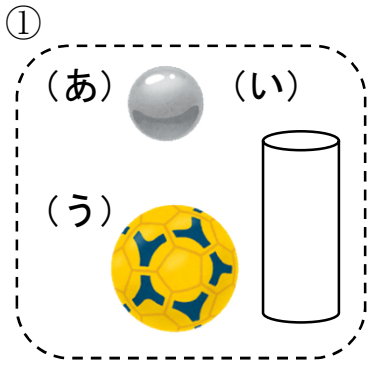
みぎの㊦、㊧ かたちを うつして かけるのは、 どれですか。

(あ)、(い)、(う)、(え) の なかから えらび かきましょう。

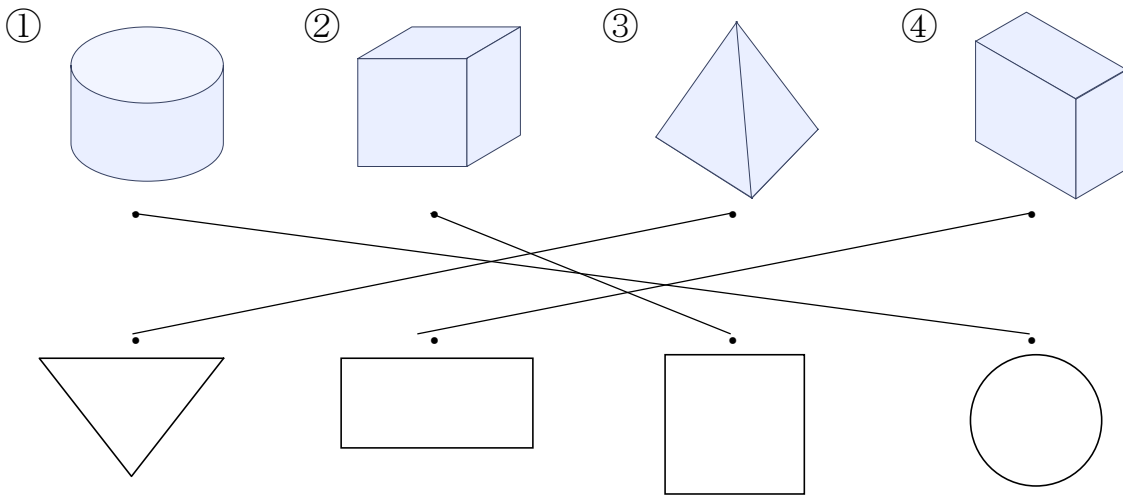


㊦ _____ ㊧ _____

5 なかまに はいらない かたちは どれですか。(あ)、(い)、(う) で
こたえましょう。



6 つみきの そこを うつして できる かたちを、—で むすび
ましょう。



7 □の なかに、つぎの かたちは いくつ ありますか。

① しかく

② さんかく

③ まる

