

2 つぎの もんだいに こたえましょう。

① おなじ かたちの なかまを、せんで むすびましょう。



.

.

.

.

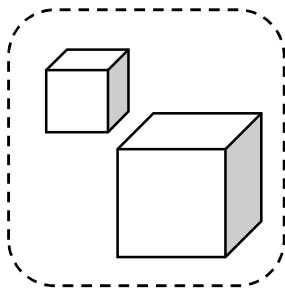
.

.

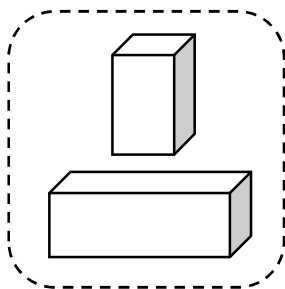


② つみきを 3つに わけました。どのように わけたか こたえ
ましょう。

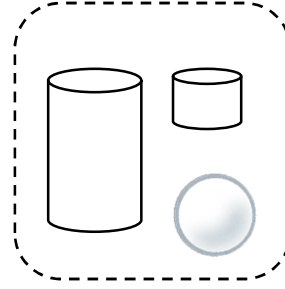
(あ)



(い)



(う)

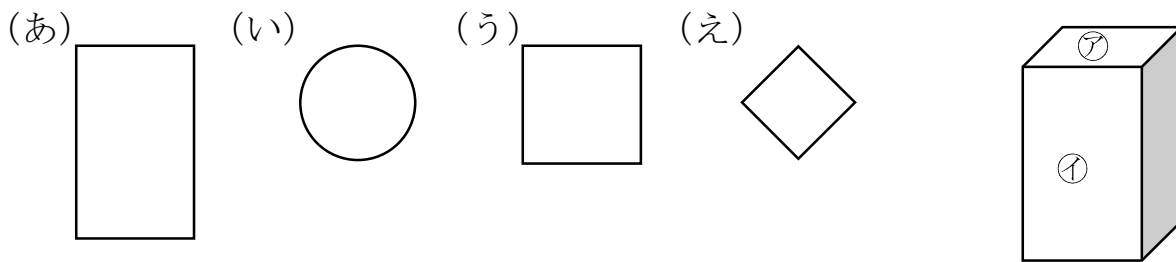


(あ) _____

(い) _____

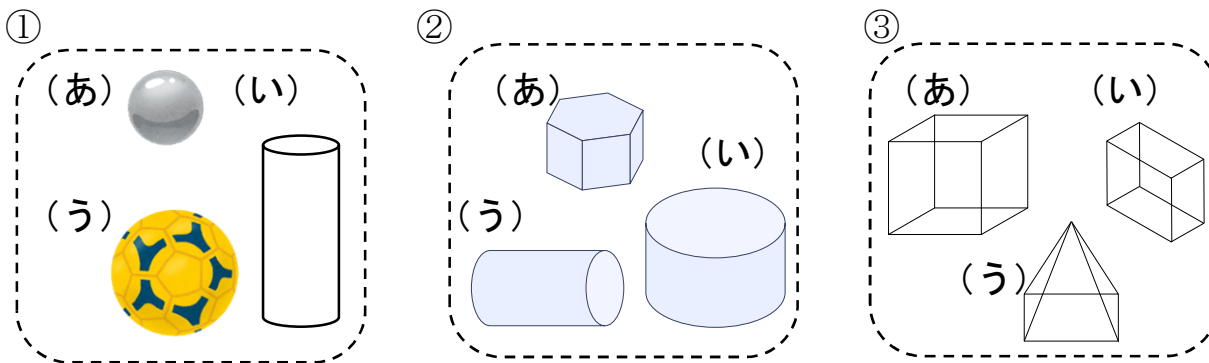
(う) _____

4 みぎのア、イ かたちを うつして かけるのは、 どれですか。
 (あ)、(い)、(う)、(え) の なかから えらび かきましょう。

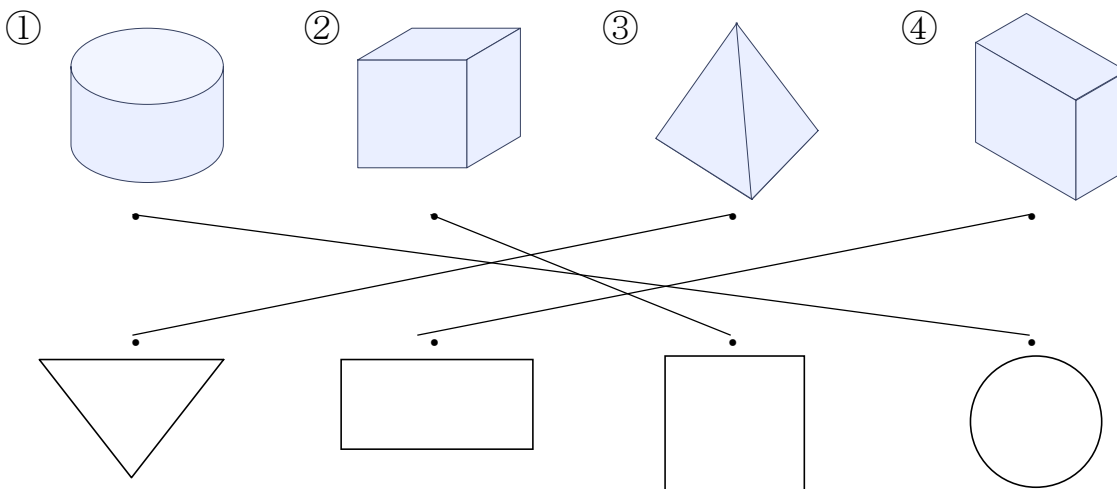


ア _____ イ _____

5 なかまに はいらない かたちは どれですか。(あ)、(い)、(う) で
 こたえましょう。



6 つみきの そこを うつして できる かたちを、—で むすび
 ましょう。



7 □の なかに、つぎの かたちは いくつ ありますか。

① しかく

② さんかく

③ まる

