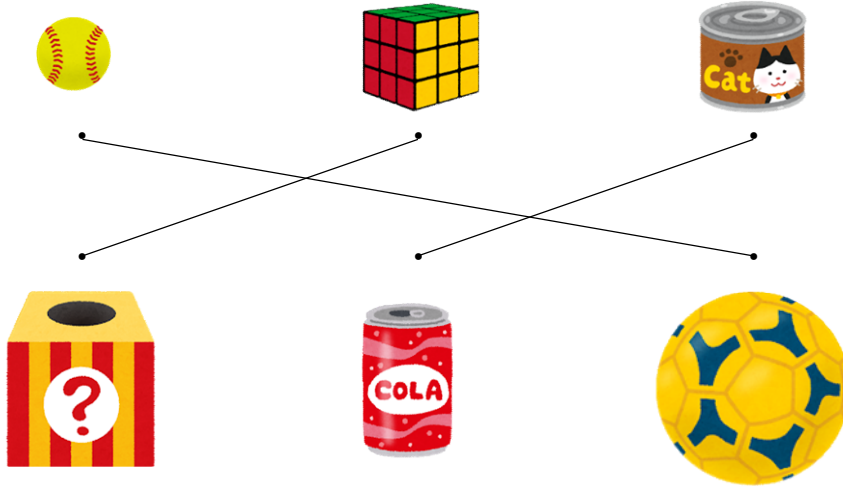
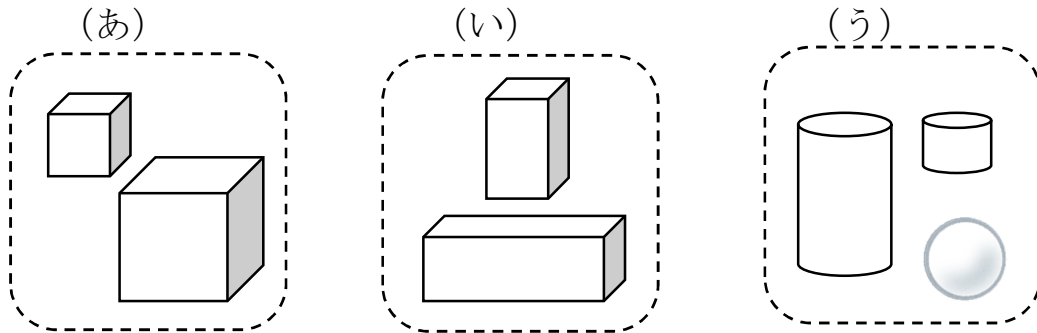


2 つぎの もんだいに こたえましょう。

① おなじ かたちの なかまを、せんで むすびましょう。



② つみきを 3つに わけました。どのように わけたか こたえましょう。

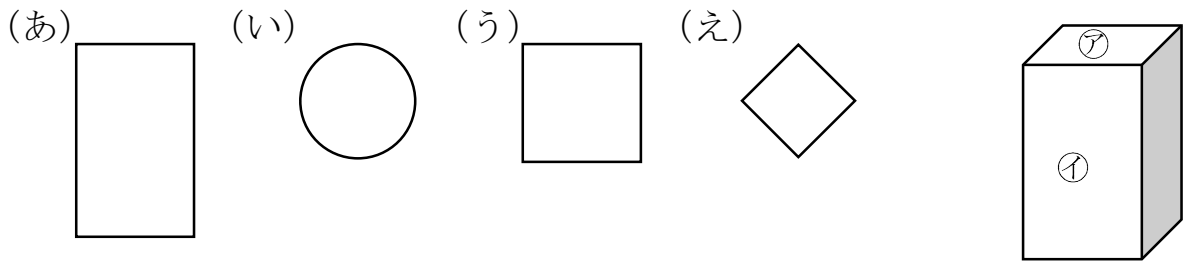


(あ) ましかくだけの かたち

(い) ながしかくが ある かたち

(う) ころがる かたち

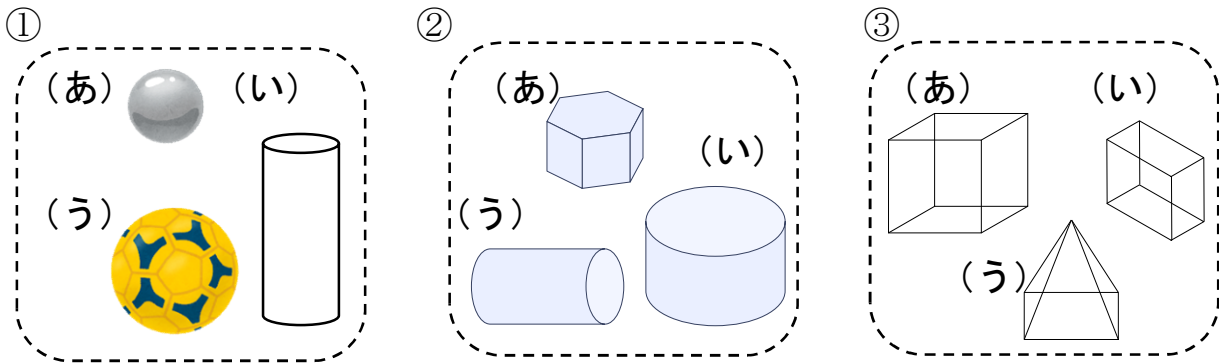
4 みぎの㊦、㊧ かたちを うつして かけるのは、 どれですか。  
 (あ)、(い)、(う)、(え) の なかから えらび かきましょう。



㊦で (う)、㊧で (あ) が かけます。

㊦ (う)      ㊧ (あ)

5 なかまに はいらない かたちは どれですか。(あ)、(い)、(う) で こたえましょう。

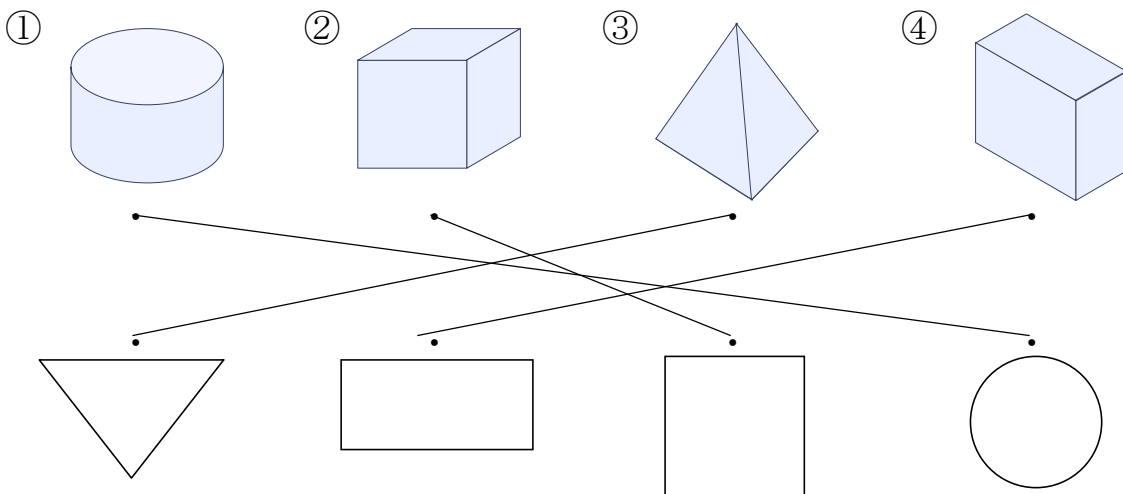


(い)

(あ)

(う)

6 つみきの そこを うつして できる かたちを、—で むすび ましょう。



7 □の なかに、つぎの かたちは いくつ ありますか。

① しかく

3つ

② さんかく

4つ

③ まる

2つ

