

1

つぎの せつめいを よんで もんだいに こたえましょう。

かさねて くらべる

hakken.の法則 

★ かさねて くらべる…かみなどの ひろさは、かさねて
くらべることが できます。

れいだい どちらが ひろいでしょうか。

(あ)



(い)



かさねて みましよう。

はみだした ほうが

ひろいので こたえは (い)

こたえ (い)



2

どちらが ひろいでしょうか。

(あ)



(い)



3


つぎの せつめいを よんで もんだいに こたえましょう。

ますめを つかって くらべる

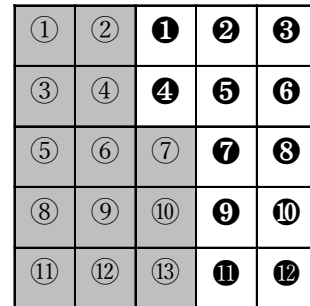
hakken.の法則 

★ ますめを つかって くらべる…ますめの かずで ひろさを
くらべることが できます。

れいだい しろいろと くろいろ どちらが
ひろいでしょうか。



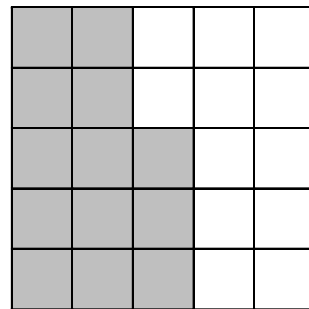
□の かずで くらべます。
くろいろは 13 こぶん、しろいろは
12 こぶんだから、くろいろ。



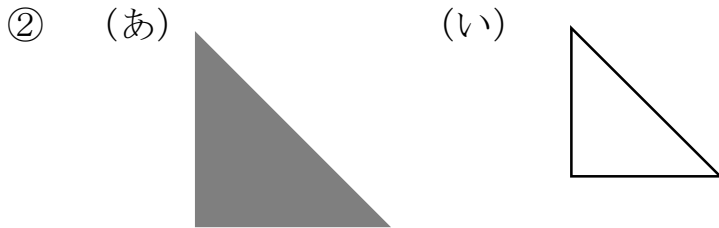
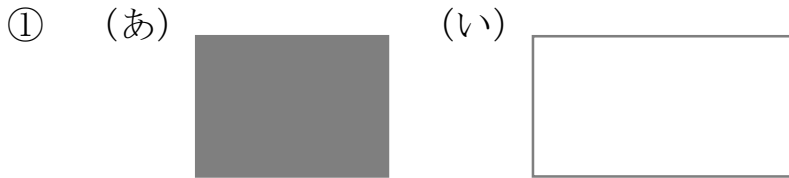
こたえ くろいろ _____

4

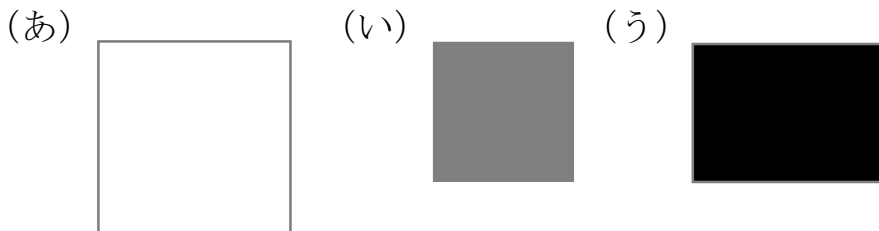
しろいろと くろいろ どちらが ひろいでしょうか。



5 (あ) と (い) では、どちらが ひろいですか。



6 (あ) (い) (う) をひろいじゅんにならべましょう。

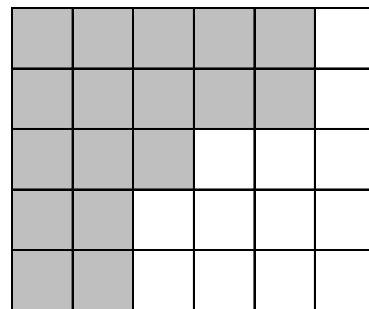


_____ → →

7

ずをみて 答えましょう。

① しろいろと くろいろは、それぞれ
いくつ ありますか。



しろいろ _____

くろいろ _____

② しろいろと くろいろでは、どちらが ひろいですか。

_____ の ほうが ひろい。

8 ずをみて、(あ)、(い)、(う)で
 答えましょう。

① いちばんひろいのは
 どれですか。

② ひろいじゆんにならべま
 しょう。

→ →

