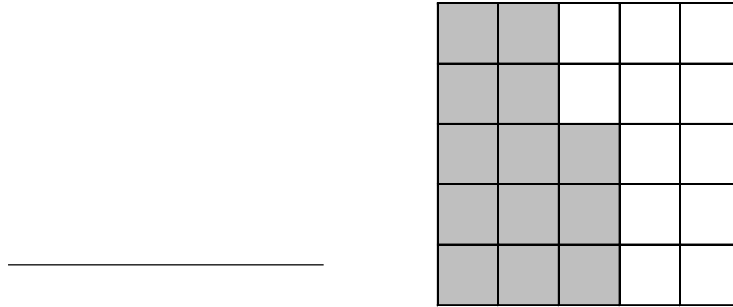


2 どちらが ひろいでしょうか。

(あ) (い)

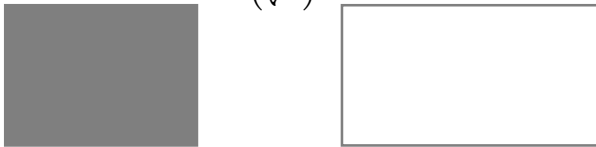


4 しろいろと くろいろ どちらが ひろいでしょうか。



5 (あ) と (い) では、どちらが ひろいですか。

① (あ) (い)



② (あ) (い)



6 (あ) (い) (う) をひろいじゅんにならべましょう。


(あ) (い) (う)



7

ずをみて 答えましょう。

- ① しろいろと くろいろは、それぞれ
いくつ ありますか。



しろいろ _____

くろいろ _____

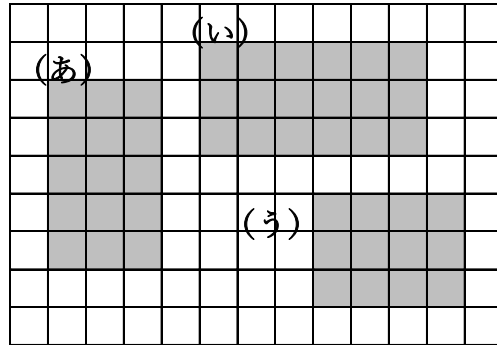
- ② しろいろと くろいろでは、どちらが ひろいですか。

_____ の ほうが ひろい。

8

ずをみて、(あ)、(い)、(う)で
答えましょう。

- ① いちばん ひろいのは
どれですか。



- ② ひろい じゅんに ならべま
しょう。

_____ → →