

1

つぎの せつめいを よんで もんだいに こたえましょう。

なんじなんぷん

hakken.の法則 

★ なんじなんぷん

とけいは みじかい はりが 「なんじ」を ながい はりが 「なんぷん」を あらわして います。

ながい はりは 1めもりが 1ぷん です。

れいだい なんじなんぷんですか。

①


みじかい はりは 9と 10の

あいだ だから 「9じ」

ながい はりは 1めもりが 1ぷん

だから 「5ぷん」

こたえ 9じ5ぷん



②


みじかい はりは 5と 6の

あいだ だから 「5じ」

ながい はりは 1めもりが 1ぷん

だから 「47ぷん」

こたえ 5じ47ぷん




2

なんじ なんぷん ですか。

①




②



3 なんじ なんぷん ですか。

①




②




4 なんじ なんぷん ですか。

①




②




5 ながい はりを かきましょう。

① 8じ20ぷん



② 3じ35ふん



6 なんじ なんぷん ですか。

①



②




7 なんじ なんぷん ですか。

①



②



8 なんじ なんぷん ですか。

①




②




9 なんじ なんぷん ですか。

①



②



10 ながい はりを かきましょう。

① 8じ16ふん

② 12じ21ふん

