

1

つぎの せつめいを よんで もんだいに こたえましょう。

なんじなんぷん

hakken.の法則 

★ なんじなんぷん

とけいは みじかい はりが 「なんじ」を ながい はりが
「なんぷん」を あらわして います。

ながい はりは 1めもりが 1ぷん です。

れいだい なんじなんぷんですか。

①


みじかい はりは 9と 10の

あいだ だから 「9じ」

ながい はりは 1めもりが 1ぷん

だから 「5ぷん」

こたえ 9じ5ぷん



②


みじかい はりは 5と 6の

あいだ だから 「5じ」

ながい はりは 1めもりが 1ぷん


だから 「47ぷん」

こたえ 5じ47ぷん




2 なんじ なんぷん ですか。

①



9じ5ぷん


②



5じ47ぷん

3 なんじ なんぷん ですか。

①



6じ15ぶん


②



11じ40ぶん


4 なんじ なんぷん ですか。

①



3じ45ぶん


②



4じ10ぶん

5 ながい はりを かきましょう。

① 8じ20ぶん



② 3じ35ぶん



6 なんじ なんぷん ですか。

①



7じ9ぶん

②



10じ32ぶん


7 なんじ なんぷん ですか。

①



1じ22ぶん

②



2じ58ぶん

8 なんじ なんぷん ですか。

①



4じ17ぶん


②



6じ49ぶん


9 なんじ なんぷん ですか。

①



11じ24ぶん

②



12じ8ぶん

10 ながい はりを かきましょう。

① 8じ16ぶん

② 12じ21ぶん

