

1

つぎの せつめいを よんで もんだいに こたえましょう。

**ビルを つくろう**

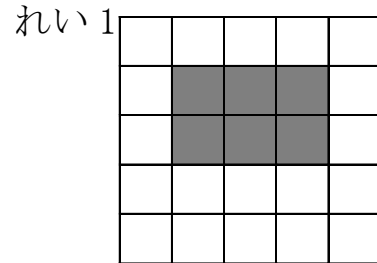
hakken.の法則 

★ ビルを つくろう

れいだい もんだいに こたえましょう。

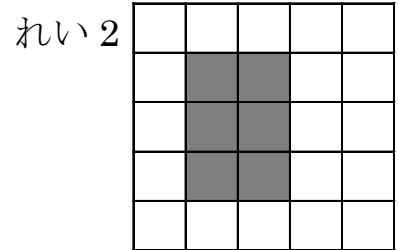
- ① ぼうがんの ますめを 6つ ぬって、  
しかくを 1つ つくり ましょう。

れい1、れい2 のような しかくを  
かくことが できます。



- ② ①で ぬった ますめの かずを  
もとめる たしざんの しきを  
2とおりに かきましよう。

つぎの ような しきを かくことが  
できます。



$3+3=6$ 、 $2+2+2=6$

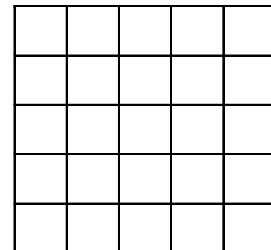
こたえ  $3+3=6$ 、 $2+2+2=6$

2

もんだいに こたえましよう。

- ① ぼうがんの ますめを 6つ ぬって、  
しかくを 1つ つくり ましょう。

- ② ①で ぬった ますめの かずを  
もとめる たしざんの しきを  
2とおりに かきましよう。




---




---

3 もんだいに こたえましょう。

① ほうがんの ますめを 8つ ぬって、  
しかくを 1つ つくり ましょう。

② ①で ぬった ますめの かずを  
もとめる たしざんの しきを  
2とおりに かきましよう。



---

---