

1

つぎの せつめいを よんで もんだいに こたえましょう。

## ビルを つくろう

 hakken. の法則 

### ★ ビルを つくろう

れいだい もんだいに こたえましょう。

- ① ぼうがんの ますめを 6つ ぬって、  
しかくを 1つ つくり ましょう。

れい1、れい2 のような しかくを  
かくことが できます。

- ② ①で ぬった ますめの かずを

もとめる たしざんの しきを


2とおりに かきましよう。

つぎの ような しきを かくことが  
できます。


$$3+3=6, 2+2+2=6$$

こたえ  $3+3=6, 2+2+2=6$

れい1



れい2



2 もんだいに こたえましょう。

- ① ぼうがんの ますめを 6つ ぬって、  
しかくを 1つ つくり ましょう。

- ② ①で ぬった ますめの かずを


もとめる たしざんの しきを

2とおりに かきましよう。


$$\mathbf{3+3=6}$$

$$\mathbf{2+2+2=6}$$

れい1



れい2



3 もんだいに こたえましょう。


① ぼうがんの ますめを 8つ ぬって、  
しかくを 1つ つくり ましょう。

② ①で ぬった ますめの かずを  
もとめる たしざんの しきを  
2とおりに かきましょう。

$$4 + 4 = 8$$

$$2 + 2 + 2 + 2 = 8$$

れい1



れい2

