

1 つぎ せつめい よ もんだい こた
 ABCDE 次の説明を読んで、問題に答えましょう。

時こくのもとめ方

hakken. の法則 

★ 時こくのもとめ方

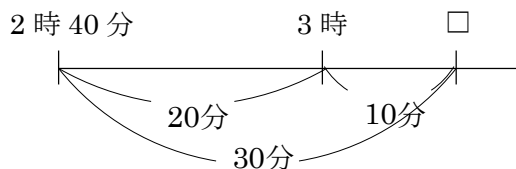
れいだい 例題 2時40分から30分後の時こくをもとめましょう。

2時40分から20分後に

3時になります。

30分を20分と10分にわけて、

3時からその10分後だから、3時10分



答 3時10分

2 ABCDE 2時40分から30分後の時こくをもとめましょう。

3
ABCDE

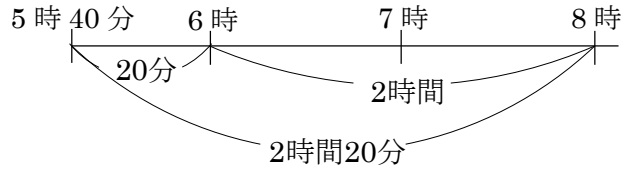
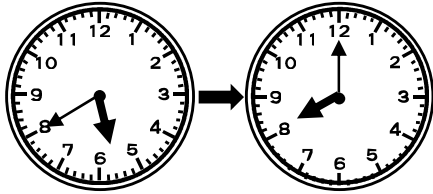
つぎ せつめい よ もんだい こた
次の説明を読んで、問題に答えましょう。

時間のもともめ方 I

hakken. の法則 

★ 時間のもともめ方 I

れいだい
例題 5時40分から8時までの時間をもとめましょう。



5時40分から6時までで、20分

6時から8時までで、2時間 あわせて2時間20分

答 2時間20分

4
ABCDE

5時40分から8時までの時間をもとめましょう。

5
ABCDE

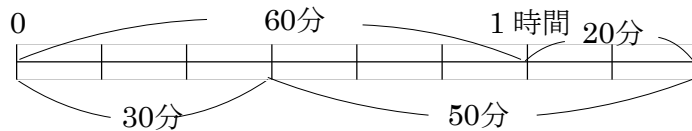
つぎ せつめい よ もんだい こた
次の説明を読んで、問題に答えましょう。

時間のもともめ方 II

hakken. の法則 

★ 時間のもともめ方 II

れいだい
例題 30分と50分をあわせると何時間何分でしょう。



30分と30分で、1時間

50分は、30分と20分だから、1時間と20分をあわせて

1時間20分

答 1時間20分

6 30分と50分をあわせると何時間何分でしょう。

ABCDE

7 やすこさんは、お風呂に6時50分に入り、40分後に出ました。

DE

やすこさんがお風呂を出た時こくをもとめましょう。

8 ももなさんは、家を出て40分歩いて10時20分に公園に着きました。

E

家を出た時こくは何時何分ですか。

9 ともきさんは10時50分から12時まで図書館にいました。図書館にいた時間は何時間何分でしょう。

CDE

10 サッカーのしあいは9時15分に始まり、正午に終わりました。

DE

サッカーのしあいにかかった時間は何時間何分でしょう。

11 ゆみさんは算数のドリルを、きのう40分、今日50分学習しました。あわせると何時間何分学習したでしょう。

CDE

- 12 つぎ せつめい よ もんだい こた
ABCDE 次の説明を読んで、問題に答えましょう。

短い時間

hakken.の法則 

★ 短い時間・・・1分より ^{みじか}短い時間のたんい ^{びょう}に秒があります。

$$1 \text{ 分} = 60 \text{ 秒}$$

^{れいだい}例題 □にあてはまる数を答えましょう。

① 3分 = □秒

② 80秒 = □分□秒

1分 = 60秒だから

80秒 = 60秒 + 20秒

3分 = 1分 + 1分 + 1分

= 1分 + 20秒

= 60秒 + 60秒 + 60秒

= 1分 20秒

= 180秒

答 180

答 1、20

- 13 () にあてはまる数を答えましょう。

ABCDE

① 3分 = () 秒

② 80秒 = () 分 () 秒

- 14 つぎ せつめい よ もんだい こた
ABCDE 次の説明を読んで、問題に答えましょう。

いろいろな時間 I

hakken.の法則 

★ いろいろな時間・・・時間のたんいには、日、時間、分、秒があります。

$$1 \text{ 日} = 24 \text{ 時間}, 1 \text{ 時間} = 60 \text{ 分}$$

^{れいだい}例題 () にあてはまる数字を答えましょう。

① 1日 = () 時間

答 24

② 1時間 = () 分

答 60

- 15 () にあてはまる数字を答えましょう。

ABCDE

① 1日 = () 時間

② 1時間 = () 分

16 つぎ せつめい よ もんだい こた
 ABCDE 次の説明を読んで、問題に答えましょう。

いろいろな時間II

hakken.の法則 

れいだい
 例題 () にあてはまる時間のたんいを答えましょう。

- | | |
|--------------------|--------|
| ① 50m 走るのにかった時間 | 9 () |
| | 答 秒 |
| ② 名古屋から東京まで車でかった時間 | 7 () |
| | 答 時間 |
| ③ 算数の宿題をするのにかった時間 | 25 () |
| | 答 分 |

17 () にあてはまる時間のたんいを答えましょう。

ABCDE

- | | |
|--------------------|--------|
| ① 50m 走るのにかった時間 | 9 () |
| ② 名古屋から東京まで車でかった時間 | 7 () |
| ③ 算数の宿題をするのにかった時間 | 25 () |

18 () にあてはまる数を答えましょう。

BCDE

- ① 1分25秒 = () 秒
- ② 160秒 = () 分 () 秒

19 () にあてはまる数を答えましょう。

DE

- ① 5分 = () 秒
- ② 110秒 = () 分 () 秒
- ③ 2分40秒 = () 秒

20 折り紙でつるを折るのに、さわこさんは180秒かかり、お母さんは156秒かかります。さわこさんとお母さんはどちらが何秒早く折り終わりますか。

DE

_____ が _____ 早い

21 公園のまわりを走って1しゅうするのに、ケンさんは47秒かかり、ユリさんは1分かかりました。どちらが何秒多くかかったでしょう。

E

22 () にあてはまる時間のたんいを答えましょう。

DE

- ① ピアノで1曲 ^{きょく} えんそうする時間 4 ()
- ② 100メートルを走る時間 12 ()
- ③ みんなと ^{あそ} 遊んだ時間 1 ()