

1 つぎ せつめい よ もんだい こた
 ABCDE 次の説明を読んで、問題に答えましょう。

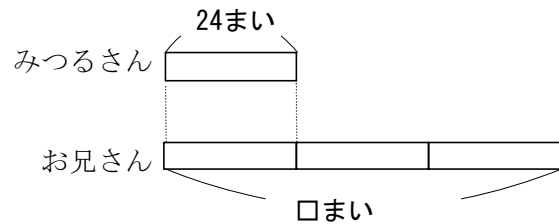
倍の計算①

hakken. の法則 

★ 倍の計算①・・・ある大きさを何倍かした大きさをもとめるときは、
 かけ算を使います。

れいだい
 例題 みつるさんは、カードを

24まい、お兄さんは、みつる
 さんの3倍のカードを持って
 います。



お兄さんはカードを何まい持っていますか。

お兄さんのカードは、みつるさんのカードのまい数をもとにすると
 3つ分になるから、 $24 \times 3 = 72$ 答 72まい

2 みつるさんは、カードを24まい、お兄さんは、みつるさんの3倍の
 ABCDE カードを持っています。お兄さんはカードを何まい持っていますか。

(式) $24 \times 3 = 72$

72まい

3

BCDE

つぎ せつめい よ もんだい こた
次の説明を読んで、問題に答えましょう。

倍の計算②

hakken. の法則 

★ 倍の計算②・・・何倍かをもとめるときは、わり算を使います。

れいだい

例題 けいこさんは、おり紙を

36まい持っています。

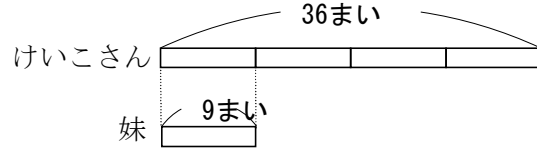
妹は、9まい持っています。

けいこさんは、妹の何倍 おり紙を持っていますか。

36まいは、9まいのいくつ分かをもとめるときは、わり算を使いま
す。

$$36 \div 9 = 4$$

答 4倍



4

BCDE

けいこさんは、おり紙を 36まい持っています。妹は、9まい持っています。けいこさんは、妹の何倍 おり紙を持っていますか。

(式) $36 \div 9 = 4$

4倍

5

BCDE

つぎ せつめい よ もんだい こた
次の説明を読んで、問題に答えましょう。

倍の計算③

hakken. の法則 

★ 倍の計算③

れいだい
例題

ボールペンのねだんは、

えん筆^{びつ}の3倍で210円です。

えん筆のねだんは、何円ですか。

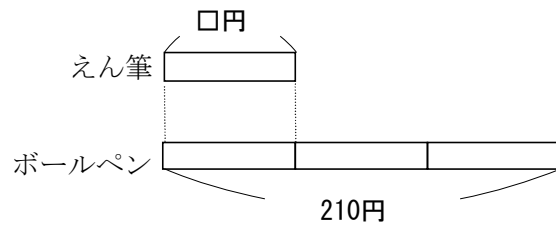
えん筆のねだんを□円として、かけ算の式に表して答えを求めましょう。

$$\square \times 3 = 210$$

$$\square = 210 \div 3$$

$$\square = 70$$

答 70円



6

BCDE

ボールペンのねだんは、えん筆^{びつ}の3倍で210円です。えん筆のねだんは、何円ですか。えん筆のねだんを□円として、かけ算の式に表して答えを求めましょう。

(式) $\square \times 3 = 210$

$$\square = 210 \div 3$$

$$\square = 70$$

70円

7 次のもんだいに 答えましょう。式も書きましょう。

CDE

- ① 今週たかこさんは、本を 72 ページ読み、妹は 9 ページ読みました。たかこさんは、妹の何倍読みましたか。

(式) $72 \div 9 = 8$ (倍)

8 倍

- ② なわとびで、妹は 15 回、あきこさんは妹の 7 倍とびました。あきこさんは何回とびましたか。

(式) $15 \times 7 = 105$

105 回

- ③ 赤いテープの長さは、青いテープの 6 倍で 54m です。青いテープの長さは、何 m ですか。青いテープの長さを \square m として、かけ算の式に表して答えを求めましょう。

(式) $\square \times 6 = 54$

$$\square = 54 \div 6$$

$$\square = 9$$

9m