

1 つぎ せつめい よ もんだい こた  
ABCDE 次の説明を読んで、問題に答えましょう。

## そろばん

hakken. の法則 

### ★学習内容 そろばん

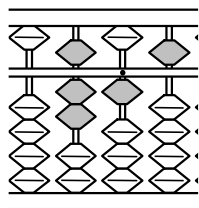
…そろばんは、人さし指と  
親指を使って数を入れたり  
取ったりします。

そろばんの上がわにある

たまを五だま、下がわにある4つのたまを一だまといいます。

五だまと一だまの間にあるはりにうってある小さな点を、**定位点**と  
いいます。

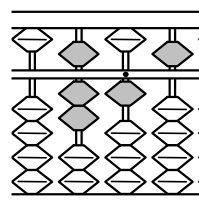
れいだい つぎ  
**例題** そろばんに入れた次の数を答えましょう。



右上の図から

答 715

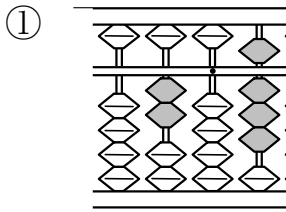
2  
ABCDE そろばんに入れた次の数を答えましょう。



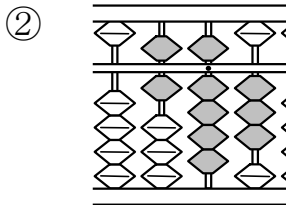
\_\_\_\_\_

3  
CDE

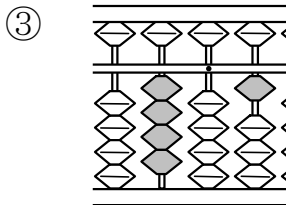
そろばんに入れた次の数を答えましょう。



\_\_\_\_\_



\_\_\_\_\_



\_\_\_\_\_