

1

つぎの せつめいを よんで もんだいに こたえましょう。

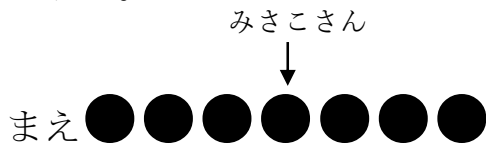
ぶんしょうもんだい①

hakken.の法則💡

★ ぶんしょうもんだい①…ぶんしょうもんだいを とく ときは、
たすけに なる かんたんな ずを かいて かんがえます。

れいだい みさこさんは、まえから4ばんめに います。

みさこさんの うしろに 3にん います。みんなで なんにん い
ますか。



しきは、たしざんに なります。

$$4 + 3 = 7(\text{にん})$$

こたえ 7にん

2 みさこさんは、まえから 4 ばんめに います。みさこさんの うしろに
3にん います。みんなで なんにん いますか。

(しき)

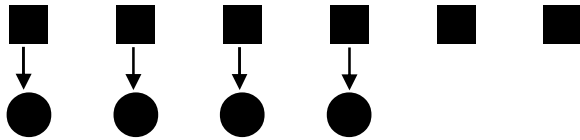
3 つぎの せつめいを よんで もんだいに こたえましょう。

ぶんしょうもんだい②

hakken.の法則 

★ ぶんしょうもんだい②

れいだい おりがみが 6まい あります。4にんが 1まいずつ
つかうと、なんまい のこりますか。



4にんが 1まいずつ つかうと 4まい つかうことになり
ます。しきは、ひきざんに なります。

$$6 - 4 = 2(\text{まい})$$

こたえ 2まい

4 おりがみが 6まい あります。4にんが 1まいずつ つかうと、なん
まい のこりますか。

(しき)

5 はこが つんであります。8だんめまで いろを ぬりました。うえには
まだ 7だん あります。はこは、ぜんぶで なんだんですか。

(しき)

- 6 ジュースのかんが 12 こ ならべて あります。オレンジジュースは、みぎから 4 ばんめに あります。オレンジジュースの ひだりには、ジュースのかんは なんこ ありますか。

(しき)

- 7 つぎの せつめいを よんで もんだいに こたえましょう。

ぶんしょうもんだい③

hakken.の法則💡

★ ぶんしょうもんだい③…「おおい」、「すくない」の もんだいを かんがえる ときも、ずを かくと わかりやすく なります。

れいだい けいこさんは、おりがみを 10 まい もっています。

みさこさんは、けいこさんより 3 まい すくなく いろがみを もっています。みさこさんは、なんまい おりがみを もっていますか。

けいこさん ●●●●●●●●●●

みさこさん ●●●●●●●○ ○ ○

3 まいすくない

しきは、ひきざんに なります。

$$10 - 3 = 7(\text{まい})$$

こたえ 7 まい

- 8 けいこさんは、おりがみを 10 まい もっています。みさこさんは、けいこさんより 3 まい すくなく いろがみを もっています。みさこさんは、なんまい おりがみを もっていますか。

(しき)

9

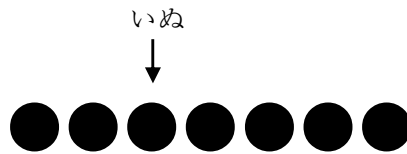
つぎの せつめいを よんで もんだいに こたえましょう。

ぶんしょうもんだい④

hakken.の法則💡

★ ぶんしょうもんだい④

れいだい どうぶつが ならんで います。いぬの まえに 2ひき、
いぬの うしろに 4ひき います。どうぶつは なんびき ならん
で いますか。



いぬの ぶんも たします。

$$2+1+4=7(\text{ひき})$$

こたえ 7ひき

10 どうぶつが ならんで います。いぬの まえに 2ひき、いぬの うしろ
に 4ひき います。どうぶつは なんびき ならんで いますか。

(しき)

11 6ぽんの てっぼうで、こどもが あそんで います。まっている
こどもは、7 にん います。こどもは、みんなで なんにん いますか。

(しき)

12 みかんが 14 こ あります。8 にんの こどもに 1 こずつ くばりま
す。みかんは なんこ ありますか。

(しき)

13 どうぶつえんに さるが 7ひき います。うさぎは、さるより 8わ
おおく います。うさぎは なんわ いますか。

(しき)

14 うんどうじょうで 1ねんせいが あそんで います。おとこのこは 15
にん います。おんなのこは、おとこのこより 6にん すくないそうで
す。おんなのこは なんにん いますか。

(しき)

15 くるまが ならんで います。さとしさんの くるまの ひだりがわに
6だい、みぎがわには 5だい あります。くるまは ぜんぶで なんだ
い ありますか。

(しき)

16 10にん ならんで います。みはるさんは、まえから 6ばんめに いま
す。みはるさんの うしろには なんにん いますか。

(しき)

17 こどもが ならんで います。あきさんは、まえから 9ばんめです。あきさんの うしろには 4にん います。みんなで なんにん いますか。

(しき)

18 どんぐり ひろいを しました。ゆきこさんは 13 こひろい、あきさんは ゆきこさんより 7こ すくなく ひろいました。あきさんは なんこ ひろいましたか。

(しき)

19 えりこさんは、さくらんぼを 9こ たべました。いもうとは えりこさんより 7こ おおく たべました。いもうとは なんこ たべましたか。

(しき)

20 りんごを 8にんに 1こずつ くばりました。りんごは、まだ 6このこって います。りんごは、ぜんぶで なんこ ありましたか。

(しき)

21 18にんに ふうせんを くばります。ふうせんは 9こ あります。あと
なんこ あれば みんなに ふうせんを くばれますか。

(しき)

22 よしきさんは ジャングルジムに のぼって います。とちゅうで だん
を かぞえると よしきさんの したには 7だん、うえには 4だん
ありました。ジャングルジムは、ぜんぶで なんだん ありますか。

(しき)
