
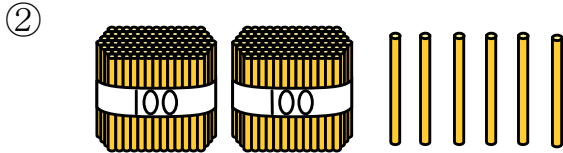


2-5 3けたの数

2 すうじ 数字で 書きましょう。



\_\_\_\_\_



\_\_\_\_\_

4 1, ( ) に あてはまる 数を 書きましょう。

① 100を 4こ、10を 3こ、1を 5こ あわせた 数は  
( )です。

② 670は、100を ( )こ、10を ( )こ あわせた 数です。

2, つぎの 文を しきに あらわしましょう。

231は、200と 30と 1を あわせた数 です。

\_\_\_\_\_

6 ①、②の読み方を かん字で 書きましょう。③、④を数字で 書きましよう。

① 162

② 324

\_\_\_\_\_

\_\_\_\_\_

③ 百四十

④ 六百三十一

\_\_\_\_\_

\_\_\_\_\_

7 ①、②の読み方を かん字で 書きましょう。③、④を数字で 書きましよう。

① 540

② 703

③ 六百三

④ 五百十

8 ( )に あてはまる 数を 書きましょう。

① 100 を 6こ、1 を 5こ あわせた 数は ( )です。

② 245 は、100 を ( )こ、10 を ( )こ 1 を ( )こ あわせた 数です。

③ 802 は、100 を ( )こ、1 を ( )こ あわせた 数です。

9 つぎの 数を 書きましょう。

百のくらいが 2、十のくらいが 8、一のくらいが 9 の 数

10 つぎの 文を しきに あらわしましょう。

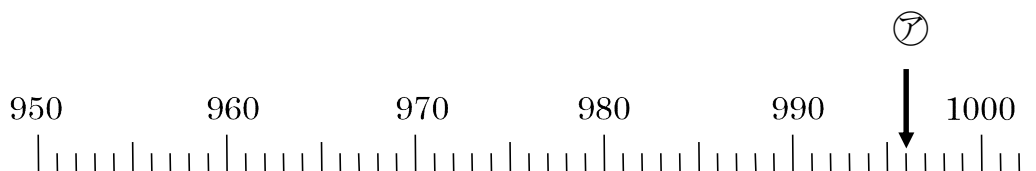
345 は、300 と 40 と 5 を あわせた 数です。

12 つぎの もんだいに 答えましょう。

① 10 を 16こ あつめた 数は いくつですか。

② 240 は、10 を 何こ あつめた 数ですか。

14 下の数の線を見て 答えましょう。



① アのめもりがあらわす数はいくつですか。

\_\_\_\_\_

② 1000より7小さい数はいくつですか。

\_\_\_\_\_

15 つぎの もんだいに 答えましょう。

① 10を23こあつめた数はいくつですか。

\_\_\_\_\_

② 10を90こあつめた数はいくつですか。

\_\_\_\_\_

③ 340は、10を何こあつめた数ですか。

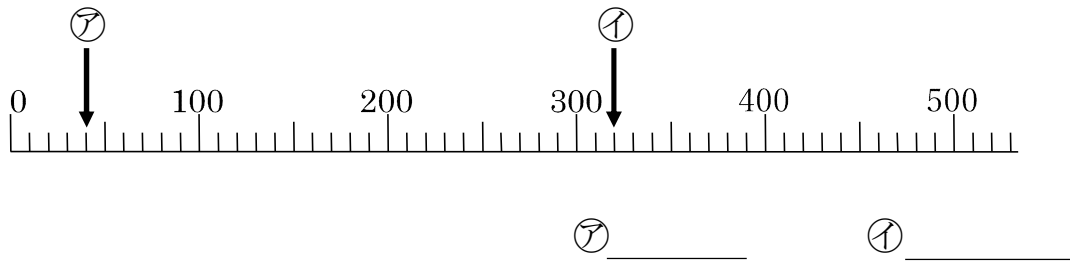
\_\_\_\_\_

④ 200は、10を何こあつめた数ですか。

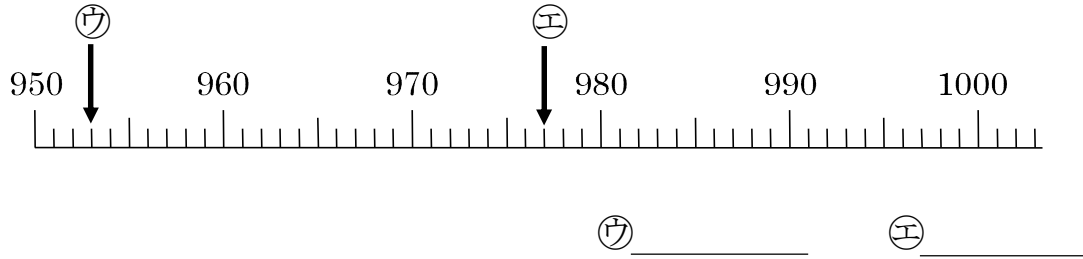
\_\_\_\_\_

16 アから イの めもりが あらわす 数を 書きましょう。

①



②



17 つぎの 数を 書きましょう。

① 1000 より 10 小さい 数。

\_\_\_\_\_

② 1000 より 300 小さい 数。

\_\_\_\_\_

18 ( )に あてはまる 数を 書きましょう。

① 840 は、(            )と 40 を あわせた 数です。

② 840 は、10 を (            )こ あつめた 数です。

20 けいさん 計算をしましょう。

①  $60 + 70$

②  $160 - 90$

22 計算をしましょう。

①  $300 + 400$

②  $1000 - 100$

23 計算をしましょう。

①  $70+60$

④  $140-80$

②  $40+70$

⑤  $110-70$

③  $80+60$

⑥  $170-80$

24 計算をしましょう。

①  $200+400$

④  $700-300$

②  $300+600$

⑤  $900-600$

③  $700+300$

⑥  $1000-700$

26 計算をしましょう。

①  $500+60$

④  $890-90$

②  $700+80$

⑤  $560-60$

③  $900+4$

⑥  $307-7$

27 計算をしましょう。

①  $400+20$

④  $260-60$

②  $300+8$

⑤  $506-6$

③  $700+7$

⑥  $809-9$

28 おりがみが300枚あります。おばあちゃんから40まいもらいました。  
何まいになりましたか。

(しき)

---

- 29 107 ページの本があります。きょう 7 ページよみました。  
あと何ページのこっていますか。

(しき)

- 31 つぎの数を答えましょう。

① 1000 より 100 小さい数

② 760 をしきに あらわすと

$$760 = 700 + ( \quad )$$

- 32 つぎの数を答えましょう。

① 1000 より 1 小さい数

② 1000 より 20 小さい数

- 33 つぎの式の ( ) に数を書きましょう。

①  $470 = ( \quad ) + 70$

②  $820 = 900 - ( \quad )$

③ 390 は 10 を ( ) こ あつめた数