


2-11 かけ算①

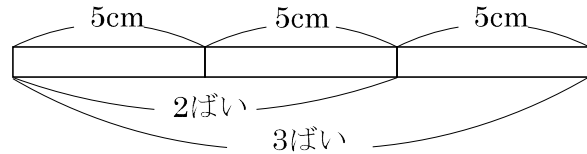
2 5このおはじきが2くみあります。
かけ算のしきを書きましょう。



4 5cmの2ばい、3ばいの長さは何cmですか。


2ばい _____

3ばい _____




5 かけ算のしきに書きましょう。

①



②



6 つぎのかけ算をたし算でもとめましょう。

① 8×5

② 7×6

7 6cmのリボンがあります。このリボンの2ばいの長さは何cmですか。

(しき)

9 かけ算をしましょう。

① 5×1

⑥ 5×6

② 5×2

⑦ 5×7

③ 5×3

⑧ 5×8

④ 5×4

⑨ 5×9

⑤ 5×5

10 かけ算をしましょう。

① 5×5

⑥ 5×6

② 5×2

⑦ 5×1

③ 5×8

⑧ 5×4

④ 5×3

⑨ 5×7

⑤ 5×9

12 かけ算をしましょう。

① 2×1

⑥ 2×6

② 2×2

⑦ 2×7

③ 2×3

⑧ 2×8

④ 2×4

⑨ 2×9

⑤ 2×5

13 かけ算をしましょう。

① 2×5

⑥ 2×6

② 2×2

⑦ 2×3

③ 2×8

⑧ 2×7

④ 2×1

⑨ 2×4

⑤ 2×9

14 かけ算をしましょう。

① 5×6

⑩ 2×6

② 2×2

⑪ 5×2

③ 5×3

⑫ 5×4

④ 2×1

⑬ 2×4

⑤ 5×5

⑭ 2×5

⑥ 2×3

⑮ 5×1

⑦ 5×8

⑯ 2×7

⑧ 2×9

⑰ 5×7

⑨ 5×9

⑱ 2×8

16 かけ算をしましょう。

① 3×1

⑥ 3×6

② 3×2

⑦ 3×7

③ 3×3

⑧ 3×8

④ 3×4

⑨ 3×9

⑤ 3×5

17 かけ算をしましょう。

① 3×3

⑥ 3×6

② 3×8

⑦ 3×1

③ 3×2

⑧ 3×4

④ 3×5

⑨ 3×7

⑤ 3×9

18 かけ算をしましょう。

① 2×5

⑩ 3×9

② 5×1

⑪ 3×6

③ 3×8

⑫ 2×3

④ 2×9

⑬ 3×4

⑤ 3×5

⑭ 5×7

⑥ 3×3

⑮ 3×1

⑦ 5×8

⑯ 2×7

⑧ 3×2

⑰ 3×7

⑨ 5×9

⑱ 2×8

19 かけ算をしましょう。

① 3×8

⑩ 3×9

② 5×3

⑪ 5×2

③ 3×3

⑫ 3×4

④ 2×1

⑬ 2×4

⑤ 3×5

⑭ 3×6

⑥ 2×2

⑮ 5×6

⑦ 2×6

⑯ 3×1

⑧ 3×2

⑰ 5×4

⑨ 5×5

⑱ 3×7

21 かけ算をしましょう。

① 4×1

⑥ 4×6

② 4×2

⑦ 4×7

③ 4×3

⑧ 4×8

④ 4×4

⑨ 4×9

⑤ 4×5

22 かけ算をしましょう。

① 4×9

⑥ 4×6

② 4×7

⑦ 4×1

③ 4×2

⑧ 4×4

④ 4×5

⑨ 4×8

⑤ 4×3

23 かけ算をしましょう。

① 5×6

⑩ 4×9

② 4×8

⑪ 5×2

③ 4×2

⑫ 4×1

④ 5×3

⑬ 5×4

⑤ 4×3

⑭ 4×6

⑥ 4×7

⑮ 3×1

⑦ 2×2

⑯ 4×4

⑧ 4×5

⑰ 3×8

⑨ 3×6

⑱ 2×6

24 かけ算をしましょう。

① 3×3

⑩ 4×6

② 4×1

⑪ 3×7

③ 5×5

⑫ 4×5

④ 4×7

⑬ 4×8

⑤ 2×3

⑭ 3×4

⑥ 4×9

⑮ 4×4

⑦ 3×5

⑯ 2×1

⑧ 4×2

⑰ 4×3

⑨ 2×5

⑱ 2×4

25 かけ算をしましょう。

① 2×8

⑩ 4×6

② 4×7

⑪ 3×2

③ 5×1

⑫ 4×4

④ 4×5

⑬ 4×8

⑤ 4×3

⑭ 5×7

⑦ 5×8

⑮ 2×7

③ 4×1

⑯ 4×2

⑧ 2×9

⑰ 3×8

⑨ 5×9

⑱ 4×9