

1

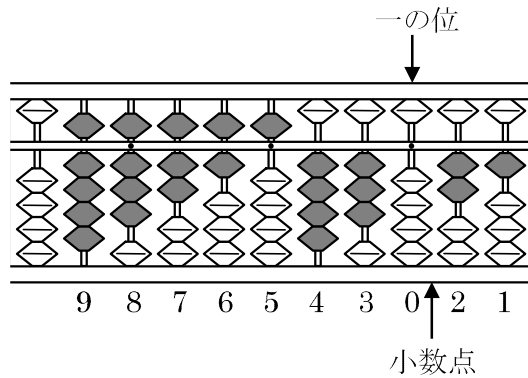
ABCDE 次の hakken. の法則を読んで問題を解きなさい。

そろばん

hakken. の法則 


★学習内容 そろばん

…右の図のようにそろばんのたまによつて、数字を表します。
右のそろばんが表す数字は
98765430.21 となります。



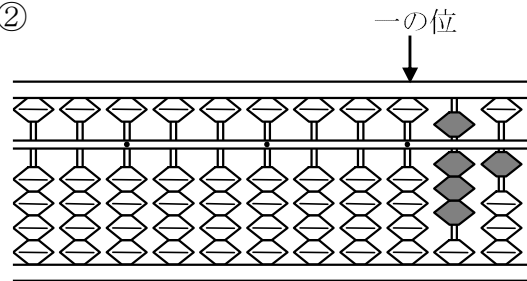
例題 次の数を答えましょう。

①



答 952074136

②



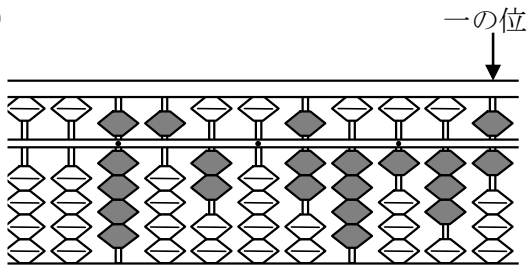
答 0.81

2

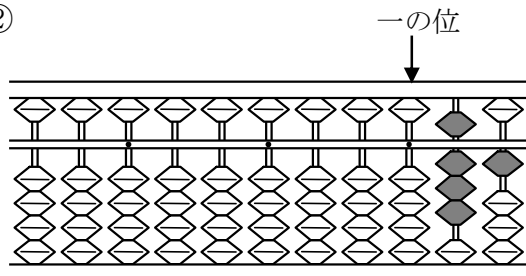
ABCDE

次の数を答えましょう。

①



②

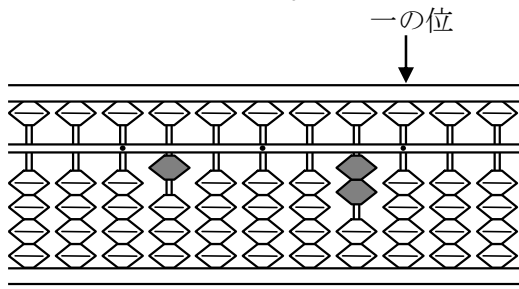


3

次の数を答えましょう。

DE

①



②

