

1  
ABCDE

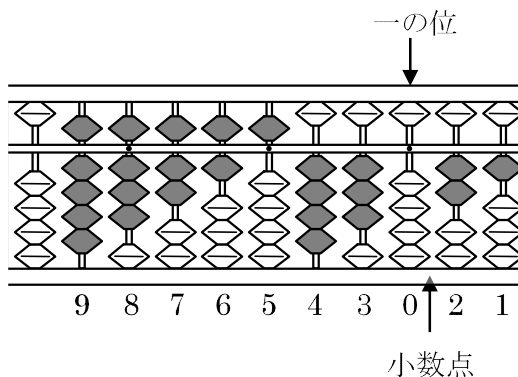
次の hakken. の法則<sup>と</sup>を読んで問題を解きなさい。

**そろばん**

**hakken. の法則** 


★学習内容 そろばん

…右の図のようにそろばんのたまに  
よって、数字を表します。  
右のそろばんが表す数字は  
98765430.21 となります。



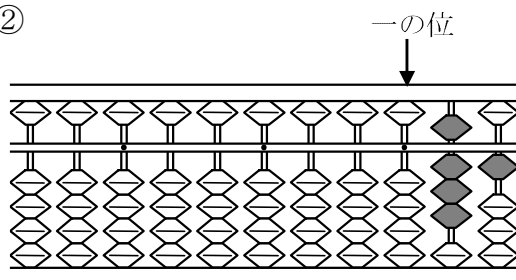
例題 次の数を答えましょう。

①



答 952074136

②

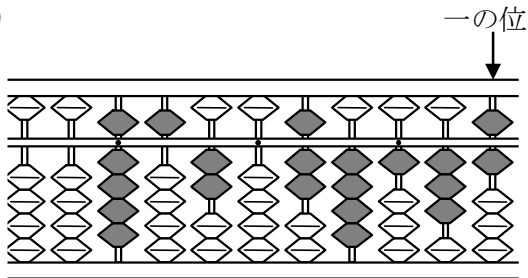


答 0.81

2  
ABCDE

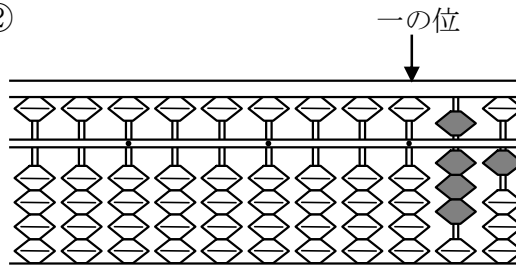
次の数を答えましょう。

①



**952074136**

②



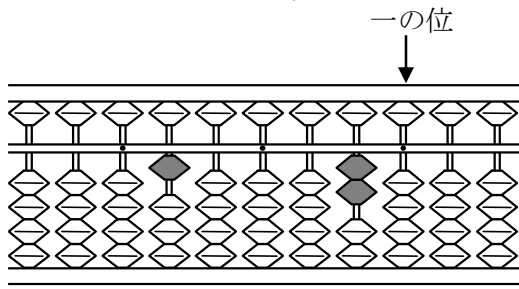
**0.81**

3

次の数を答えましょう。

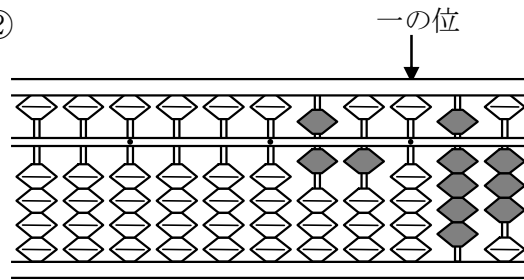
DE

①



**100020**

②



**610.93**