

2-12 かけ算②

2 かけ算をしましょう。

① 6×1

⑥ 6×6

② 6×2

⑦ 6×7

③ 6×3

⑧ 6×8

④ 6×4

⑨ 6×9

⑤ 6×5

3 かけ算をしましょう。

① 6×8

⑥ 6×7

② 6×2

⑦ 6×4

③ 6×5

⑧ 6×1

④ 6×3

⑨ 6×9

⑤ 6×6

5 かけ算をしましょう。

① 7×1

⑥ 7×6

② 7×2

⑦ 7×7

③ 7×3

⑧ 7×8

④ 7×4

⑨ 7×9

⑤ 7×5

6 かけ算をしましょう。

① 7×8

⑥ 7×6

② 7×2

⑦ 7×3

③ 7×5

⑧ 7×7

④ 7×1

⑨ 7×4

⑤ 7×9

7 かけ算をしましょう。

① 7×4

⑩ 6×1

② 6×8

⑪ 7×8

③ 7×1

⑫ 6×7

④ 6×2

⑬ 6×5

⑤ 7×3

⑭ 7×6

⑥ 7×2

⑮ 6×4

⑦ 6×3

⑯ 7×7

⑧ 7×5

⑰ 6×9

⑨ 6×6

⑱ 7×9

9 かけ算をしましょう。

① 8×1

⑥ 8×6

② 8×2

⑦ 8×7

③ 8×3

⑧ 8×8

④ 8×4

⑨ 8×9

⑤ 8×5

10 かけ算をしましょう。

① 8×3

⑥ 8×6

② 8×8

⑦ 8×4

③ 8×9

⑧ 8×7

④ 8×5

⑨ 8×1

⑤ 8×2

11 かけ算をしましょう。

① 8×3

⑩ 8×6

② 6×5

⑪ 7×4

③ 8×8

⑫ 6×1

④ 7×1

⑬ 8×1

⑤ 8×5

⑭ 7×8

⑥ 7×6

⑮ 6×3

⑦ 8×2

⑯ 8×4

⑧ 6×6

⑰ 6×9

⑨ 8×9

⑱ 8×7

12 かけ算をしましょう。

① 8×3

⑥ 8×6

① 7×9

⑥ 6×7

② 8×8

⑦ 8×4

③ 6×8

⑧ 7×3

② 7×2

⑦ 8×7

② 6×2

⑦ 6×4

④ 8×5

⑨ 8×1

③ 7×5

⑧ 7×7

⑤ 8×9

⑤ 8×2

14 かけ算をしましょう。

① 9×1

⑥ 9×6

② 9×2

⑦ 9×7

③ 9×3

⑧ 9×8

④ 9×4

⑨ 9×9

⑤ 9×5

15 かけ算をしましょう。

① 9×9

⑥ 9×6

② 9×7

⑦ 9×1

③ 9×2

⑧ 9×4

④ 9×5

⑨ 9×8

⑤ 9×3

16 かけ算をしましょう。

① 9×9

⑩ 8×6

② 8×3

⑪ 9×6

③ 9×7

⑫ 6×6

④ 6×3

⑬ 8×4

⑤ 9×5

⑭ 9×4

⑥ 4×8

⑮ 3×7

⑦ 9×2

⑯ 9×8

⑧ 8×8

⑰ 6×9

⑨ 9×3

⑱ 9×1

17 かけ算をしましょう。

① 7×8

⑩ 7×6

② 9×9

⑪ 9×6

③ 7×2

⑫ 7×3

④ 4×9

⑬ 5×7

⑤ 9×7

⑭ 9×1

⑥ 7×1

⑮ 7×4

⑦ 8×9

⑯ 8×7

⑧ 3×8

⑰ 7×9

⑨ 9×2

⑱ 9×4

18 かけ算をしましょう。

① 6×8

⑩ 6×4

② 2×5

⑪ 4×7

③ 9×3

⑫ 8×2

④ 7×5

⑬ 6×1

⑤ 6×2

⑭ 8×1

⑥ 9×5

⑮ 9×8

⑦ 5×5

⑯ 2×8

⑧ 8×5

⑰ 6×7

⑨ 6×5

⑱ 7×7

20 かけ算をしましょう。

① 1×7

④ 1×5

② 1×2

⑤ 1×9

③ 1×8

⑥ 1×4

21 かけ算をしましょう。

① 9×5

⑩ 8×7

② 8×9

⑪ 9×8

③ 6×8

⑫ 7×6

④ 7×8

⑬ 6×7

⑤ 9×2

⑭ 8×6

⑥ 6×2

⑮ 6×4

⑦ 8×3

⑯ 1×9

⑧ 7×2

⑰ 6×1

⑨ 6×5

⑱ 7×3

22 かけ算をしましょう。

① 7×5

⑩ 7×7

② 8×8

⑪ 8×4

③ 9×7

⑫ 9×4

④ 6×3

⑬ 6×9

⑤ 1×7

⑭ 7×4

⑥ 6×6

⑮ 8×2

⑦ 9×9

⑯ 9×6

⑧ 7×9

⑰ 9×3

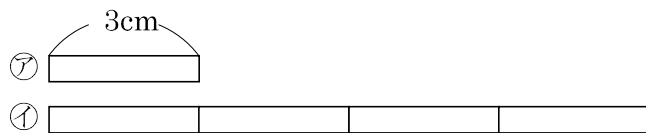
⑨ 8×5

⑱ 1×8

24

①のリボンの長さは、②のリボンの長さの何ばいですか。


また何 cm ですか。



①のリボンの長さは、②のリボンの長さの4つ分だから

長さは、 $3 \times 4 = 12(\text{cm})$

25 図を見て、答えましょう。



① アのテープの2 ばいのテープを答えましょう。

② アのテープの4 ばいのテープを答えましょう。

27 下のひょうの⑦~⑩にはいる数字をかきましょう。

	1	2	3	4	5	6	7	8	9
1	1	2	3	4	5	6	7	8	9
2	2	4	6	8	10	12	14	16	18
3	3	6	9	12	15	18	21	24	27
4	4	8	12	16	20	①	28	32	36
5	5	10	15	20	25	30	35	40	45
6	6	12	18	24	30	36	42	48	54
7	7	14	21	28	35	42	②	56	③
8	8	16	24	32	40	48	56	64	72
9	9	18	④	36	45	54	63	72	81

① _____ ② _____ ③ _____ ④ _____

29 () にあてはまる数字をかきましょう。

① $3 \times 6 = 3 \times () + ()$

② $6 \times 8 = () \times () + 6$

③ $7 \times 9 = 9 \times ()$


31 計算をしましょう。

① 3×11

② 11×6

33 おはじきの数を、くふうして答えましょう。

(しき)



34 おはじきの数を、くふうして答えましょう。

(しき)

