

2-13 4けたの数

- 2 千円さつが2まい、100円玉が1こ、10円玉が3こ、1円玉が4こがあります。全部で何円ありますか。数字で書きましょう。
また、読み方を漢字で書きましょう。

数字 _____ 読み方 _____

- 4 数字で書きましょう。

① 四千五百七十三

千の くらい	百の くらい	十の くらい	一の くらい

② 五千六

千の くらい	百の くらい	十の くらい	一の くらい

- 5 2671の、千のくらいと十のくらいの数字は何ですか。

千のくらい _____ 十のくらい _____

- 6 数字で書きましょう。

① 六千七百八十

② 九千百五

- 7 読み方を漢字で書きましょう。

① 5709

② 3160

③ 9002

9 数字を答えましょう。

① 1000 を 5 こ と 10 を 7 こ あわせた数

② 9200 は、1000 を何こ、100 を何こあわせた数ですか。

1000 を_____ こ、100 を_____ こあわせた数

11 () に >、< を書きましょう。

① 4537 () 5790

② 7810 () 7427

12 数字を答えましょう。

① 1000 を 8 こ、100 を 5 こ、1 を 3 こあわせた数

② 1730 は、1000 を何こ、100 を何こ、10 を何こあわせた数ですか。

1000 を_____ こ、100 を_____ こ、10 を_____ こあわせた数

13 () に >、< を書きましょう。

① 5737 () 5790

② 7817 () 7816

15 次のもんだいに答えましょう。

① 100 を 42 こあつめた数はいくつですか。

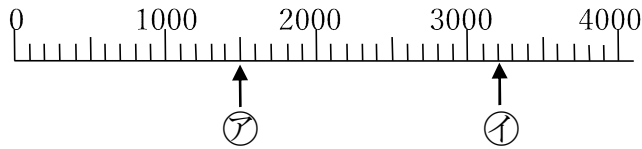
② 2500 は 100 を、何こあつめた数ですか。

17 けいさん 計算をしましょう。

① $600 + 800$

② $1600 - 700$

19 アイのめもりがあらわす数を書きましょう。



ア _____ イ _____

20 次のもんだいに答えましょう。

① 100 を 16 こあつめた数はいくつですか。

② 100 を 50 こあつめた数はいくつですか。

21 次のもんだいに答えましょう。

① 2700 は 100 を、何こあつめた数ですか。

② 4000 は 100 を、何こあつめた数ですか。

22 けいさん 計算をしましょう。

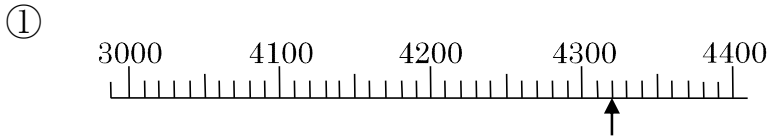
① $700 + 900$

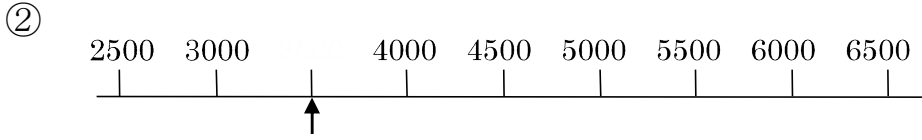
② $1000 - 300$

③ $600 + 700$

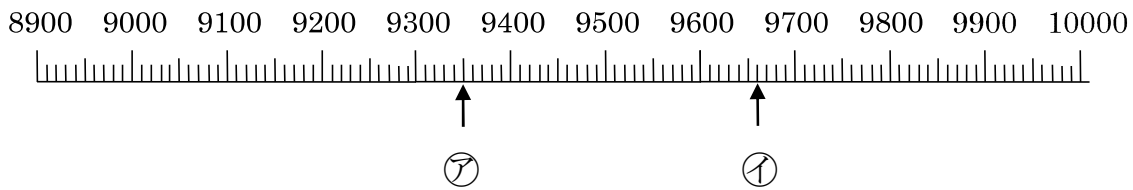
④ $1300 - 800$

23 ↑のめもりがあらわす数を書きましょう。





25 アイのめもりがあらわす数を書きましょう。



ア _____ イ _____

26 つぎの数をかきましょう。

① 10000 より 1000 小さい数

② 10000 より 10 小さい数

③ 9600 は 10000 よりいくつ小さいですか。
