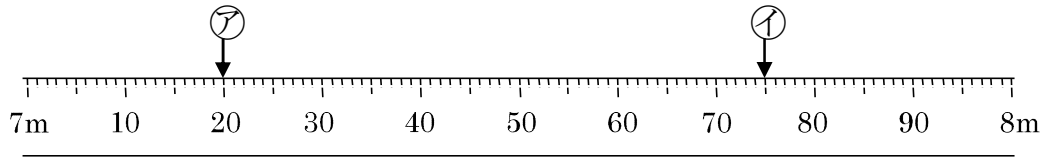


3-6 長いものの長さ

2 下のまきじゃくで、アイのめもりをよみましょう。



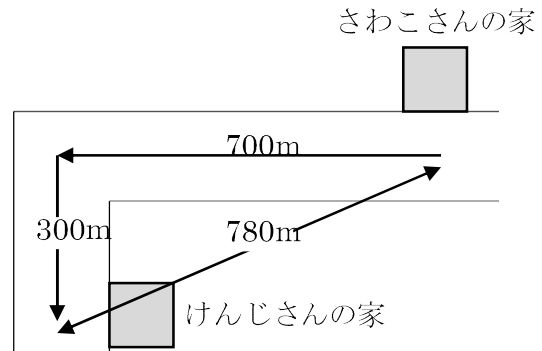
ア _____ イ _____

4 () にあてはまる数 を答えましょう。

- ① 1km200m = () m
- ② 2600m = () km () m

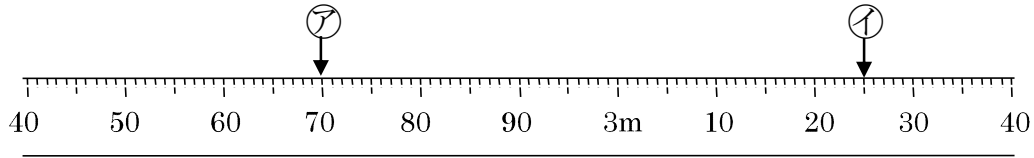
6 右の地図を見て、問題に答えましょう。

- ① さわこさんの家からけんじさんの家までの道のりは何 m ですか。



- ② さわこさんの家からけんじさんの家までのきよりは
何 m ですか。

7 下のまきじゃくで、アイのめもりをよみましょう。



ア _____ イ _____

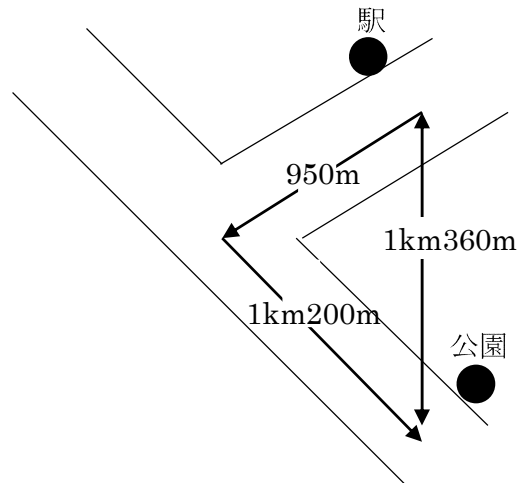
8 () にあてはまる数 を答えましょう。

① $5700\text{m} = () \text{ km } () \text{ m}$

② $3\text{km}100\text{m} = () \text{ m}$

9 右の地図を見て、問題に答えましょう。

① 駅から公園までの道のり
何 km 何 m ですか。



② 駅から公園までの道のりと駅から公園までのきよりのちがいは
何 m ですか。
