

1 つぎ せつめい よ 次の説明を読んで、**問題**に答えましょう。

そろばん

hakken.の法則 

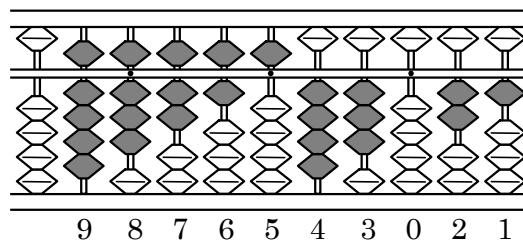
★学習内容 そろばん

…そろばんは、人さし指と親指を使って数を入れたり取ったりします。

そろばんの上がわにある

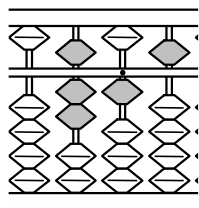
たまを五だま、下がわにある4つのたまを一だまといいます。

五だまと一だまの間にあるはりにうってある小さな点を、**定位点**といいます。



上のように、たまによって、数字を表します。

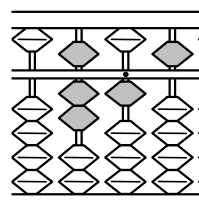
例題 れいだい そろばんに入れた次の数つぎを答えましょう。



右上の図から

答 715


2 そろばんに入れた次の数つぎを答えましょう。



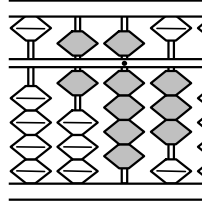
3

そろばんに入れた次の数を答えましょう。

①



②



③

