

1

つぎ せつめい よ  
 次の説明を読んで、問題に答えましょう。

## そろばん

hakken. の法則 

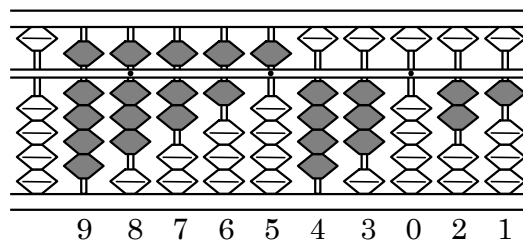
### ★学習内容 そろばん

…そろばんは、人さし指と  
 親指を使って数を入れたり  
 取ったりします。

そろばんの上がわにある

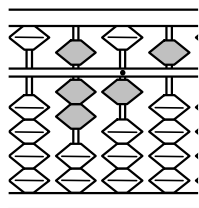
たまを五だま、下がわにある4つのたまを一だまといいます。

五だまと一だまの間にあるはりにうってある小さな点を、**定位点**と  
 といいます。



上のように、たまによって、数字を表します。

れいだい 例題 そろばんに入れた次の数を答えましょう。

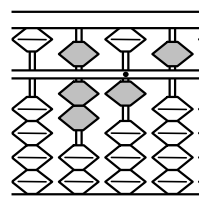


右上の図から

答 715

2

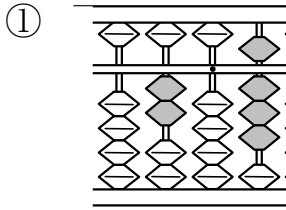
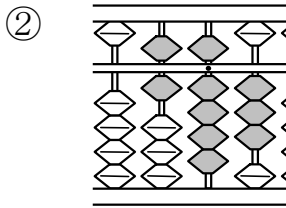

そろばんに入れた次の数を答えましょう。



**715**

3

そろばんに入れた次の数を答えましょう。

**208****693****401**