

1

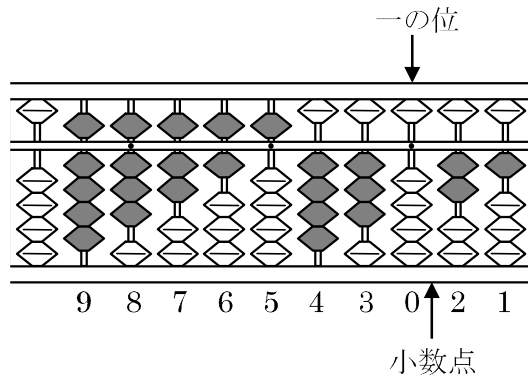
次の hakken. の法則を読んで問題を解きなさい。

そろばん

hakken. の法則 


★学習内容 そろばん

…右の図のようにそろばんのたまによつて、数字を表します。
右のそろばんが表す数字は 98765430.21 となります。



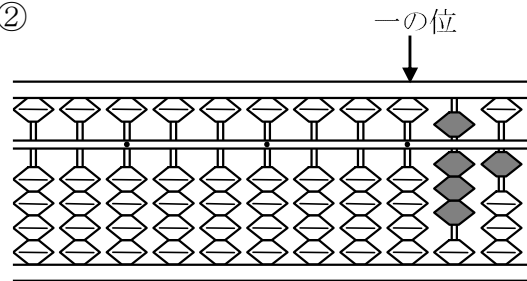
例題 次の数を答えましょう。

①



答 952074136

②

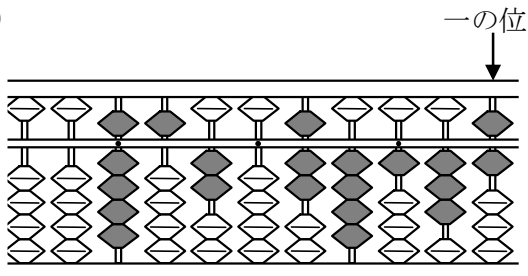


答 0.81

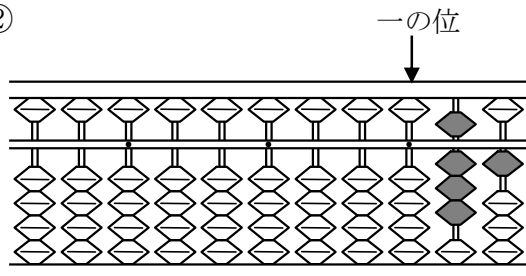
2

次の数を答えましょう。

①

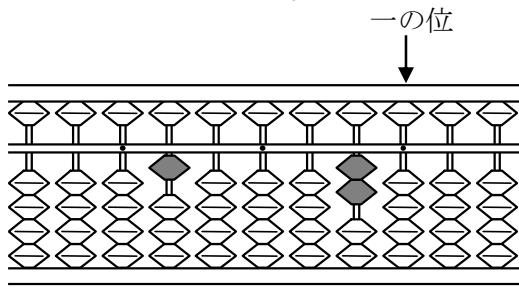


②



3 次の数を答えましょう。

①



②

