

1

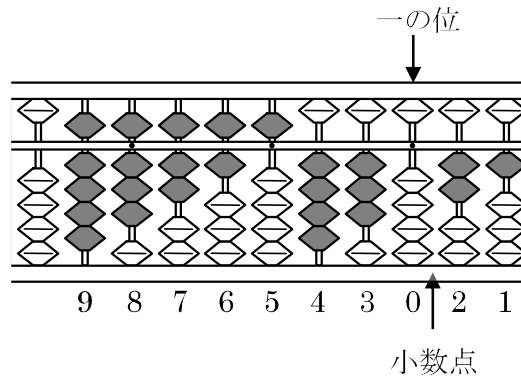
次の hakken. の法則^とを読んで問題を解きなさい。

そろばん

hakken. の法則 


★学習内容 そろばん

…右の図のようにそろばんのたまに
よって、数字を表します。
右のそろばんが表す数字は
98765430.21 となります。



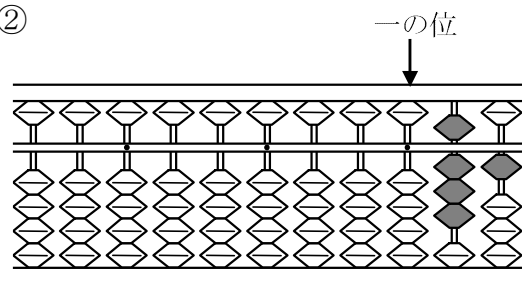
例題 次の数を答えましょう。

①



答 952074136

②

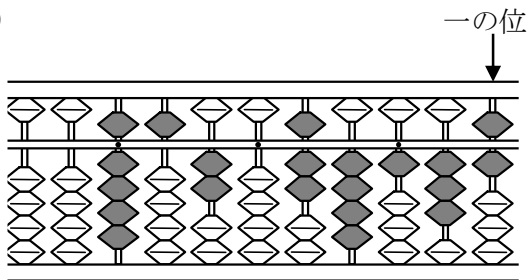


答 0.81

2

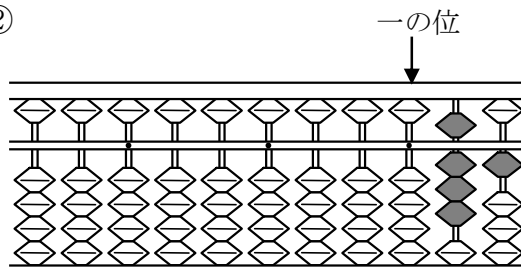
次の数を答えましょう。

①



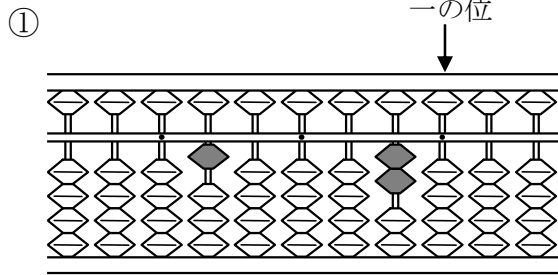
952074136

②

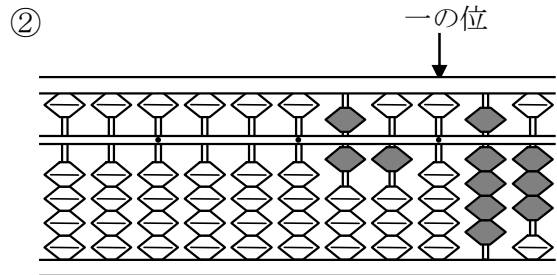


0.81

3 次の数を答えましょう。



100020



610.93