

1

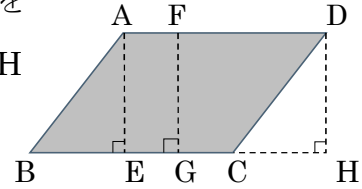
次の hakken. の法則を読んで問題を解きなさい。

平行四辺形の面積

hakken. の法則 

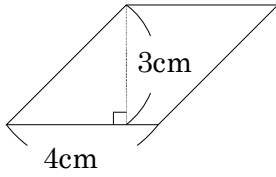
★学習内容 平行四辺形の面積…右の平行四辺形で辺 BC を底辺としたとき、その底辺に垂直な直線 AE、FG、DH を高さといいます。

平行四辺形の面積 = 底辺 × 高さ

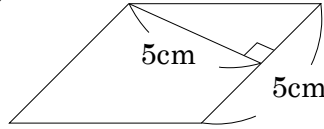


例題 次の平行四辺形の面積を求めましょう。

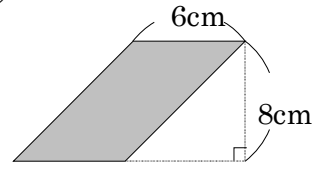
①



②



③



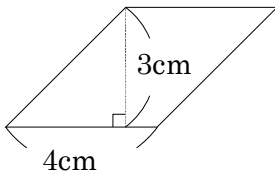
- ① 底辺が 4cm、高さが 3cm だから、 $4 \times 3 = 12(\text{cm}^2)$
- ② 底辺が 5cm、高さが 5cm だから、 $5 \times 5 = 25(\text{cm}^2)$
- ③ 高さが底辺からはなれている場合もあります。
底辺が 6cm、高さが 8cm だから、 $6 \times 8 = 48(\text{cm}^2)$

答え 12cm²
 答え 25cm²
 答え 48cm²

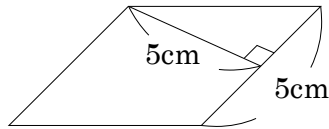
2

次の平行四辺形の面積を求めましょう。

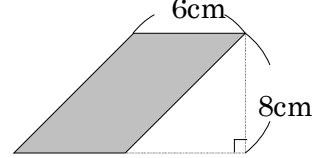
①



②



③



3

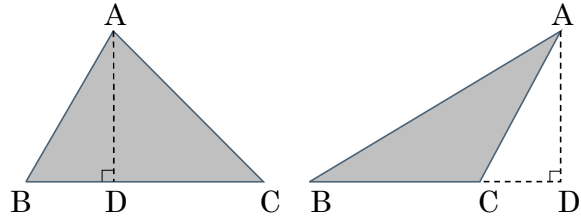
次の hakken. の法則を読んで問題を解きなさい。

三角形の面積

hakken. の法則 

★学習内容 三角形の面積

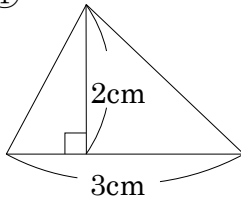
…右の2つの三角形で、辺 BC を底辺としたとき、その底辺に垂直な直線 AD を高さといいます。



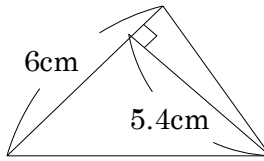
三角形の面積 = 底辺 × 高さ ÷ 2

例題 次の三角形の面積を求めましょう。

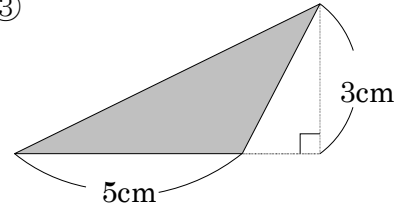
①



②



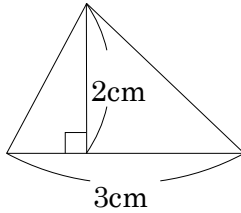
③



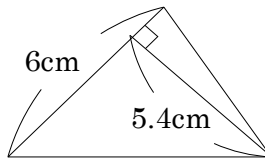
- | | | | |
|--|--|----|---------------------------|
| ① 底辺が 3cm、高さが 2cm だから、 $3 \times 2 \div 2 = 3(\text{cm}^2)$ | <table border="0"> <tr><td>答え</td><td><u>3cm²</u></td></tr> </table> | 答え | <u>3cm²</u> |
| 答え | <u>3cm²</u> | | |
| ② 底辺が 6cm、高さが 5.4cm だから、 $6 \times 5.4 \div 2 = 16.2(\text{cm}^2)$ | <table border="0"> <tr><td>答え</td><td><u>16.2cm²</u></td></tr> </table> | 答え | <u>16.2cm²</u> |
| 答え | <u>16.2cm²</u> | | |
| ③ 底辺が 5cm、高さが 3cm だから、 $5 \times 3 \div 2 = 7.5(\text{cm}^2)$ | <table border="0"> <tr><td>答え</td><td><u>7.5cm²</u></td></tr> </table> | 答え | <u>7.5cm²</u> |
| 答え | <u>7.5cm²</u> | | |

4 次の三角形の面積を求めましょう。

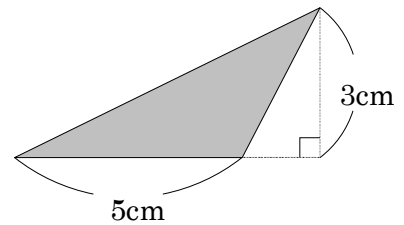
①



②



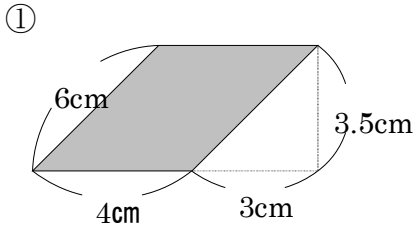
③

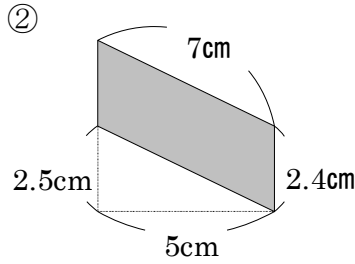


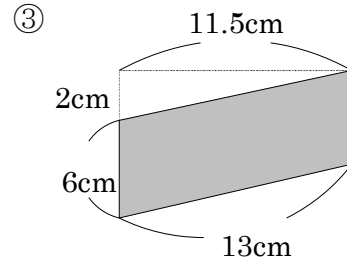
5 底辺が 5cm で、高さが 7.6cm の平行四辺形面積を求めましょう。

(式)

6 次の平行四辺形の面積を求めましょう。







7 次の三角形の面積を求めましょう。

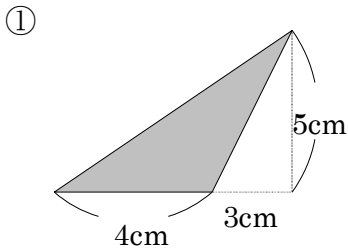
① 底辺が 4.5cm、高さが 3.4cm の三角形

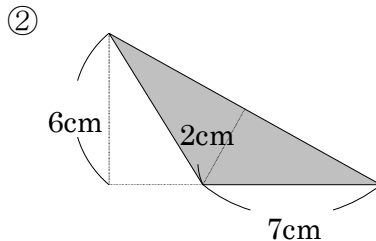
(式)

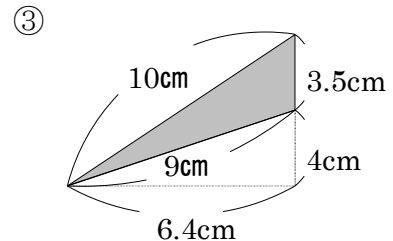
② 直角をはさむ 2 つの辺が 2.6cm の三角形

(式)

8 次の三角形の面積を求めましょう。

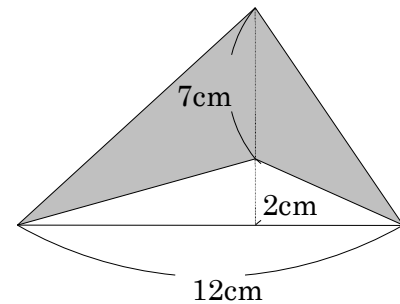






9 右の図の色をぬった部分の面積を求めましょう。

(式)



10

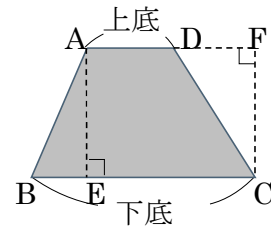
次の hakken. の法則を読んで問題を解きなさい。

台形の面積

hakken. の法則 

★学習内容 台形の面積…右の図で辺 AD を上底、辺 BC を下底とかていいいます。上底と下底に垂直な AE、FC を高さじょうていとすいちよくいいます。

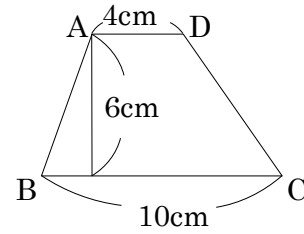
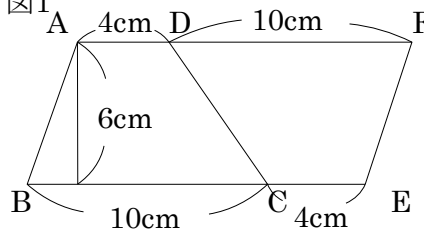
台形の面積=(上底+下底)×高さ÷2



例題 右の台形 ABCD の面積を 2 つの方法で求めましょう。

方法1 台形 ABCD を 2 つあわせると平行四辺形になることから考えます。 図1

右の図で、台形 ABCD の面積は、平行四辺形 ABEF の面積の半分だから、
 $(4+10) \times 6 \div 2 = 42(\text{cm}^2)$



方法2 台形の面積の公式にあてはめてみましょう。

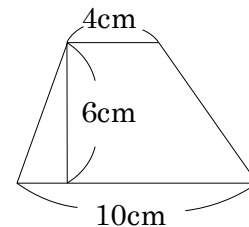
台形の面積=(上底+下底)×高さ÷2 だから、 $(4+10) \times 6 \div 2 = 42(\text{cm}^2)$

答え 42cm²

11

右の台形 ABCD の面積を求めましょう。

(式)



12

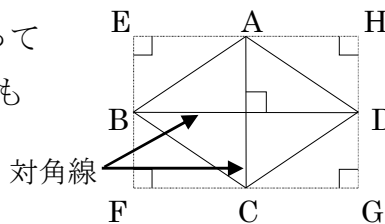
次の hakken. の法則を^と読んで問題を解きなさい。

ひし形の面積

hakken. の法則 

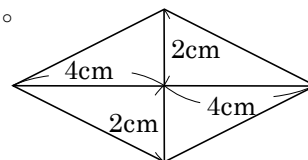
★学習内容 ひし形の面積 ひし形は対角線で区切っていくつかの三角形に分けて、面積を求めることができます。

ひし形の面積 = 対角線 × 対角線 ÷ 2



例題 右のひし形 ABCD の面積を 2 つの方法で求めましょう。

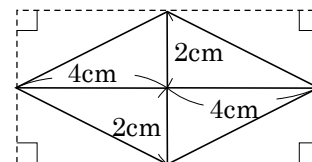
方法1 ひし形の面積は、その対角線の長さをたてと横の長さにもつ長方形の面積の半分になります。



右の図で、ひし形 ABCD の面積は、長方形 EFGH の面積の半分
長方形のたて長さは $2(\text{cm}) \times 2 = 4(\text{cm})$ 、横の長さは $4(\text{cm}) \times 2 = 8(\text{cm})$
よって、 $8 \times 4 \div 2 = 16(\text{cm}^2)$

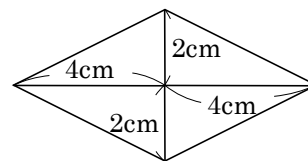
方法2 ひし形の面積の公式にあてはめてみましょう。

ひし形の面積 = 対角線 × 対角線 ÷ 2
対角線の長さは $2(\text{cm}) \times 2 = 4(\text{cm})$ 、 $4(\text{cm}) \times 2 = 8(\text{cm})$
よって、 $4 \times 8 \div 2 = 16(\text{cm}^2)$ 答え 16cm^2



13 右のひし形 ABCD の面積を求めましょう。

(式)



14 次の面積を求めましょう。

① 上底が 4cm、下底が 5cm、高さが 6cm の台形

(式)

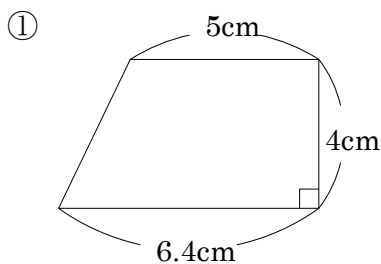
② 対角線の長さが 6.4cm と 4.5cm のひし形

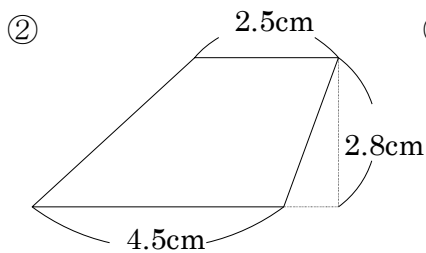
(式)

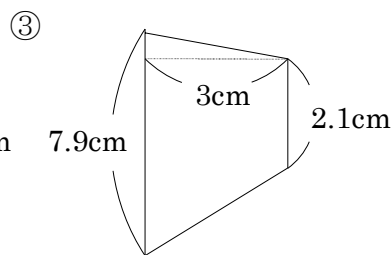
③ 直角をはさむ辺が 3cm と 5cm の直角三角形を 4 つ組み合わせてできるひし形

(式)

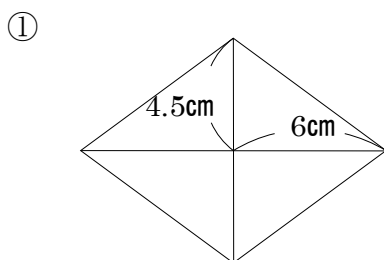
15 次の面積を求めましょう。

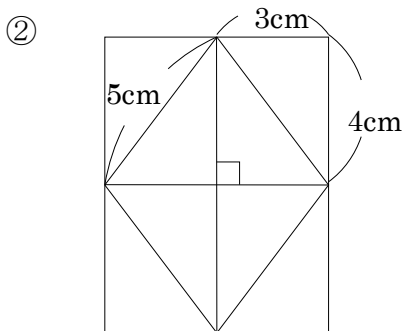






16 次のひし形の面積を求めましょう。





17 次の hakken. の法則を読んで問題を解きなさい。

およその面積

hakken. の法則

★学習内容 およその面積

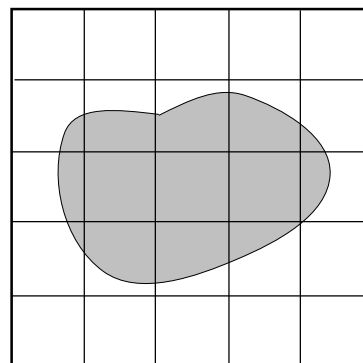
例題 右の図のような形をした池の
およその面積を求めましょう。

池の内側にすっかり入っている方眼の数は、3個
池の線にかかっている方眼の数は、12個
池の線にかかっている方眼は、面積が1ますの半分
と考えると、方眼の数はあわせて

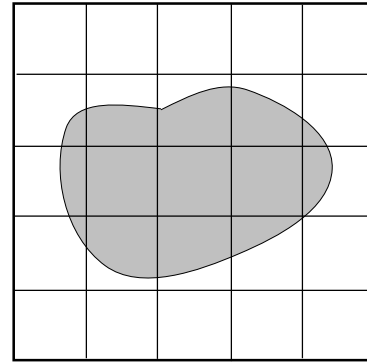
$$3 + 12 \div 2 = 9(\text{個})$$

1ますの面積は 1m^2 だから、池の面積は

答え 約 9m^2



18 右の図のような形をした池の、およその面積を求めましょう。



19 次の hakken. の法則を^と読んで問題を解きなさい。

高さと**面積**の関係

hakken. の法則

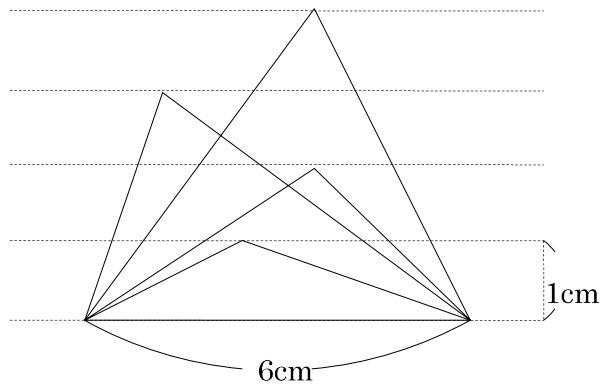
★学習内容 高さと面積の関係

三角形や平行四辺形の底辺を変えないで、高さを2倍、3倍、…にすると、面積も2倍、3倍、…になります。

例題 底辺が6cmの三角形があります。底辺はそのまま、高さが変わると、面積はどのように変わるか調べます。

① 下の表をうめましょう。

高さ(cm)	1	2	3	4
面積(cm ²)	3	㉞	㉟	㊱



三角形の面積は、底辺×高さ÷2
で求められるから、

㉞ $6 \times 2 \div 2 = 6$

答え 6

㉟ $6 \times 3 \div 2 = 9$

答え 9

㊱ $6 \times 4 \div 2 = 12$

答え 12

② 高さを2倍、3倍に変えると、面積は何倍になりますか。

①の表より、高さが2倍3倍になると、面積は2倍、3倍になります。
→三角形の面積は、高さに比例しています。 答え 2倍、3倍になる

③ 面積が42cm²になるのは、高さが何cmのときですか。

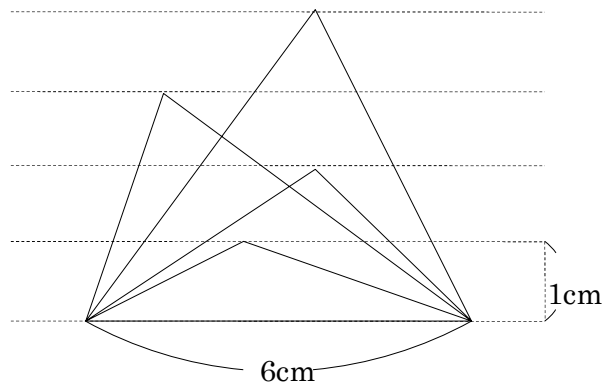
高さを□cmとして式に表すと、
 $6 \times \square \div 2 = 42$ $\square = 42 \times 2 \div 6$ $\square = 14(\text{cm})$

答え 14cm

20 底辺が 6cm の三角形があります。
底辺はそのまま、高さが変わると、
面積はどのように変わるか調べます。

① 下の表をうめましょう。

高さ(cm)	1	2	3	4	
面積(cm ²)	3	㉗	㉘	㉙	



㉗

㉘

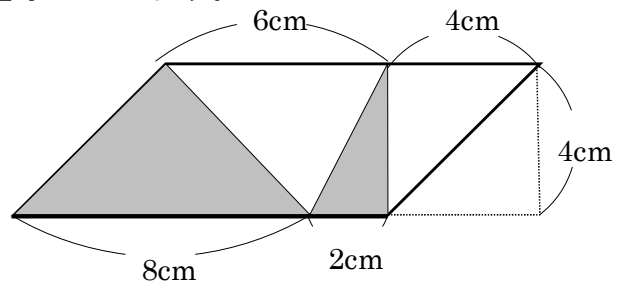
㉙

② 高さを 2 倍、3 倍に変えると、面積は何倍になりますか。

③ 面積が 42cm²になるのは、高さが何 cm のときですか。

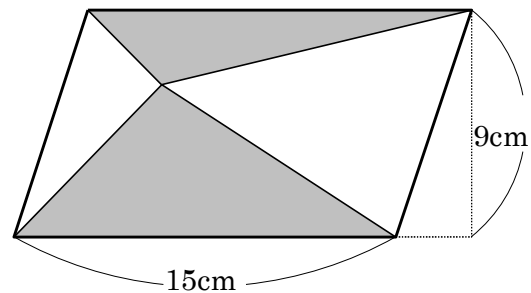
21 次の平行四辺形で、色をぬった部分の面積を求めましょう。

(式)



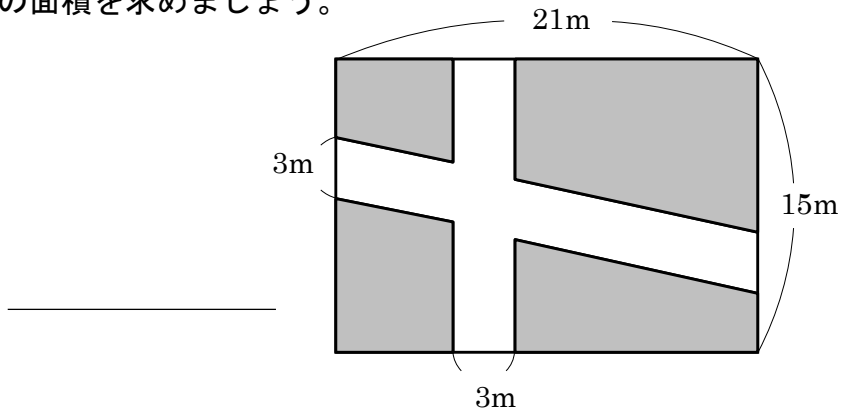
22 次の平行四辺形で、色をぬった部分の面積を求めましょう。

(式)



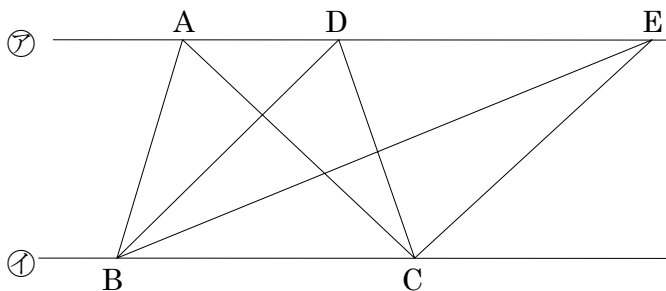
23 次の図で、色をぬった部分の面積を求めましょう。

(式)



24 下の図で、㉞と㉟の直線は平行で、A、D、Eは㉞の直線上に、B、Cは㉟の直線上にある点です。

- ① 三角形ABCと面積が等しい三角形はどれですか。すべて書きましょう。



- ② ①の2つの三角形の面積が同じになるわけを説明しましょう。