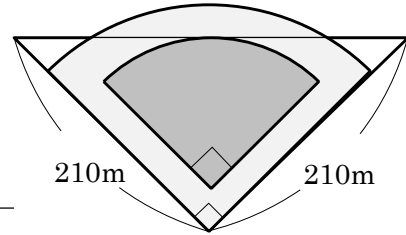


6-9 およその面積・体積

2 右の図のような形をした野球場があります。

① この野球場は、およそどんな形とみられますか。



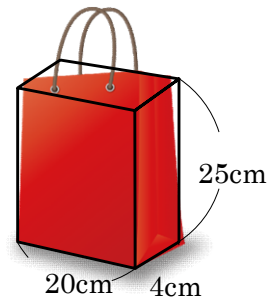
\_\_\_\_\_

② この野球場の、およその面積をもとめましょう。

\_\_\_\_\_

4 右の図のような紙袋があります。

① この紙袋は、およそどんな形とみられますか。

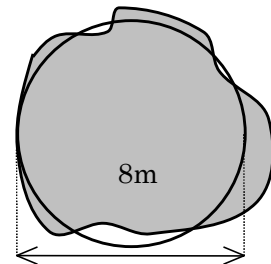


\_\_\_\_\_

② この紙袋のおよその容積をもとめましょう。

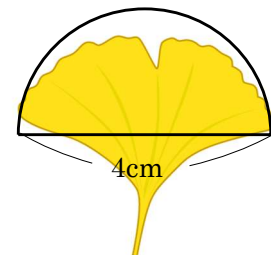
\_\_\_\_\_

5 右の図は、あるおうちの池です。およその面積を求めましょう。



\_\_\_\_\_

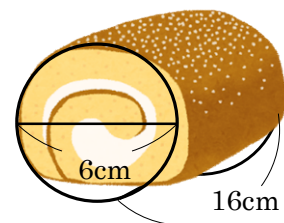
6 右の図はイチョウの葉です。およその面積を求めましょう。



\_\_\_\_\_

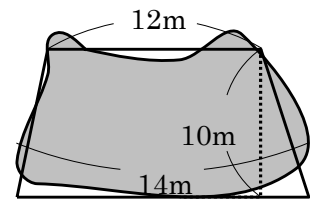
7 右のような形をしたロールケーキがあります。

このロールケーキの体積は、およそ何  $\text{cm}^3$  ですか。



\_\_\_\_\_

- 8 右の図はおじいちゃんの家やしき地です。  
およその面積を求めましょう。



---