

1

次の hakken. の法則を読んで問題を解きなさい。

**反比例の性質①**

**hakken. の法則**

★学習内容 反比例の性質①…2つの量  $x$  と  $y$  があり、 $x$  の値が2倍、3倍、…になると、それにもなって  $y$  の値が  $\frac{1}{2}$ 、 $\frac{1}{3}$ 、…になるとき、「 $y$  は  $x$  に反比例する」といいます。

※ 一方の値が  $\frac{1}{2}$ 、 $\frac{1}{3}$ 、…になる場合は、他方の値は2倍、3倍、…になります。

例題 下の A、B の表について、次の問題に答えましょう。

① A で、 $x$  の値が2倍、3倍になると、 $y$  の値は何倍になりますか。

A 18km の道のりを進むときの時速とかかる時間

時速 $x$ (km)	1	2	3	4
かかる時間 $y$ (時間)	18	9	6	4.5

$x$  の値が2倍、3倍になると

$y$  の値は  $\frac{1}{2}$  倍、 $\frac{1}{3}$  倍になります。

答  $\frac{1}{2}$  倍、 $\frac{1}{3}$  倍になります。

B 18km の道のりを進むときの進んだ道のりと残りの道のり

進んだ道のり $x$ (km)	1	2	3	4
残りの道のり $y$ (km)	17	16	㊦	14

② B で、㊦にあてはまる数を求めましょう。

B は、 $x$  の値が1増えると、 $y$  の値は1ずつ減ります。

答 15

③  $y$  が  $x$  に反比例しているのはどちらですか。

①、②から、 $y$  が  $x$  に反比例しているのは、A

答 A

2

下の A、B の表について、次の問題に答えましょう。

① A で、 $x$  の値が2倍、3倍になると、 $y$  の値は何倍になりますか。

A 18km の道のりを進むときの時速とかかる時間

時速 $x$ (km)	1	2	3	4
かかる時間 $y$ (時間)	18	9	6	4.5

B 18km の道のりを進むときの進んだ道のりと残りの道のり

進んだ道のり $x$ (km)	1	2	3	4
残りの道のり $y$ (km)	17	16	㊦	14

② B で、㊦にあてはまる数を求めましょう。

③  $y$  が  $x$  に反比例しているのはどちらですか。

3

次の hakken. の法則を<sup>と</sup>読んで問題を解きなさい。

**反比例の性質②**

hakken. の法則 

★学習内容 反比例の性質②… $y$  が  $x$  に反比例するとき、 $x$  の値が<sup>あた</sup> $\frac{1}{2}$ 倍、 $\frac{1}{3}$ 倍、…

になると、それにともなって  $y$  の値は 2 倍、3 倍、…になります。

例題 右の表は、面積が  $24 \text{ cm}^2$  の長方形の

<sup>たて</sup>縦と横の長さを表した  
ものです。

㉞、㉟、㊱、㊲にあて  
はまる数を求めましょう。

面積が決まっている長方形の横の長さ  $y$  は、  
縦の長さ  $x$  に反比例します。

$y$  が  $x$  に反比例するとき、 $x$  の値が $\frac{1}{2}$ 倍、 $\frac{1}{3}$ 倍、…になると、 $y$  の値は 2 倍、  
3 倍、…になるから、㉞は 2 倍、㉟は 3 倍、㊱は 4 倍になります。

また、㊲は、 $x$  の値が 1 から 5 倍になると、 $y$  の値は $\frac{1}{5}$ 倍になることから、

$$24 \times \frac{1}{5} = 4.8$$

答 ㉞ 2 倍 ㉟ 3 倍 ㊱ 4 倍 ㊲ 4.8

	1	2	3	4	5	6
縦の長さ $x$ (cm)	1	2	3	4	5	6
横の長さ $y$ (cm)	24	12	8	6	㉞	4

4

下の表は、面積が  $24 \text{ cm}^2$  の長方形の<sup>たて</sup>縦と横の長さを表したものです。

㉞、㉟、㊱、㊲にあてはまる数を求めましょう。

	1	2	3	4	5	6
縦の長さ $x$ (cm)	1	2	3	4	5	6
横の長さ $y$ (cm)	24	12	8	6	㉞	4

㉞ \_\_\_\_\_ ㉟ \_\_\_\_\_ ㊱ \_\_\_\_\_ ㊲ \_\_\_\_\_

5

次の hakken. の法則を読んで問題を解きなさい。

## 反比例の式

hakken. の法則 

★学習内容 反比例の式…2つの量  $x$  と  $y$  があって、 $y$  が  $x$  に反比例するとき、 $x$  の値とそれに対応する  $y$  の値の積は、いつも決まった数になります。  
 $x$  と  $y$  の関係は、 $y = \text{決まった数} \div x$  と表せます。

例題 下の表は、面積が  $12\text{cm}^2$  の長方形で、縦の長さ<sup>たて</sup>と横の長さの関係を表したものです。

縦の長さ $x$ (cm)	1	2	3	4	
横の長さ $y$ (cm)	12	6	4	3	

①  $y$  を  $x$  の式で表しましょう。

$x$  の値が 2 倍、3 倍、…になると、

$y$  の値が  $\frac{1}{2}$ 、 $\frac{1}{3}$ 、…になっているので、 $y$  は  $x$  に反比例しています。

$x$  と  $y$  の積は、決まった数 12 になり、 $x \times y = 12$

これを、 $y = \text{決まった数} \div x$  の形に表すと、 $y = 12 \div x$       答  $y = 12 \div x$

②  $x$  の値が 5、15 のときの  $y$  の値を求めましょう。

$y = 12 \div x$  の  $x$  に 5 をあてはめると、 $y = 12 \div 5 = 2.4$

別解  $x$  の値が 1 から 5 へ 5 倍になっているので、 $y$  の値は  $\frac{1}{5}$  になるから

$12 \div 5 = 2.4$       答 2.4

$x$  に 15 をあてはめると、 $y = 12 \div 15 = 0.8$

別解  $x$  の値が 1 から 15 へ 15 倍になっているので、 $y$  の値は  $\frac{1}{15}$  になるから

$12 \div 15 = 0.8$       答 0.8

6

下の表は、面積が  $12\text{cm}^2$  の長方形で、縦の長さ<sup>たて</sup>と横の長さの関係を表したものです。

①  $y$  を  $x$  の式で表しましょう。

縦の長さ $x$ (cm)	1	2	3	4	
横の長さ $y$ (cm)	12	6	4	3	

②  $x$  の値が 5、15 のときの  $y$  の値を求めましょう。

$x$  の値が 5 のとき \_\_\_\_\_  $x$  の値が 15 のとき \_\_\_\_\_

7 次の表で、 $y$  が  $x$  に反比例しているものはどれですか。

ア

$x$	1	2	3	4	5
$y$	24	12	9	6	4

イ

$x$	3	6	9	12	15
$y$	20	16	12	8	4

ウ

$x$	2	4	6	8	10
$y$	1.8	1.2	0.9	0.6	0.3

エ

$x$	2	3	4	5	6
$y$	30	20	15	12	10

8 下の表は、面積が決まっている平行四辺形の、底辺  $x$  cm と高さ  $y$  cm の関係を表したものです。

底辺 $x$ (cm)	1	2	3	4	5
高さ $y$ (cm)	42	21	14	10.5	8.4

① 底辺  $x$  の値と、対応する高さ  $y$  の値の積はいくつですか。

\_\_\_\_\_

② ①の積は何を表していますか。

\_\_\_\_\_

③  $y$  を  $x$  の式で表しましょう。

\_\_\_\_\_

④  $x$  の値が 12 のときの  $y$  の値を求めましょう。

\_\_\_\_\_

⑤  $y$  の値が 5.25 のときの  $x$  の値を求めましょう。

\_\_\_\_\_

9 次の2つの量で、 $x$ と $y$ の関係を式に表しましょう。また、 $y$ が $x$ に反比例しているものには○、反比例していないものには×を書きましょう。

① 1mの重さが8gの針金  $x$  mの重さ  $y$  g

式 \_\_\_\_\_ 反比例 \_\_\_\_\_

② 2000mLのジュースを  $x$  個のコップに等分したときの1個分の量  $y$  mL

式 \_\_\_\_\_ 反比例 \_\_\_\_\_

③ 面積が25cm<sup>2</sup>の長方形の縦の長さ  $x$  cm と横の長さ  $y$  cm

式 \_\_\_\_\_ 反比例 \_\_\_\_\_

10

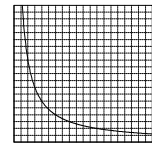
次のhakken.の法則を読んで問題を解きなさい。

反比例のグラフ

hakken.の法則 

★学習内容 反比例のグラフ…反比例する2つの量の関係を表す

グラフは、なめらかな曲線となります。

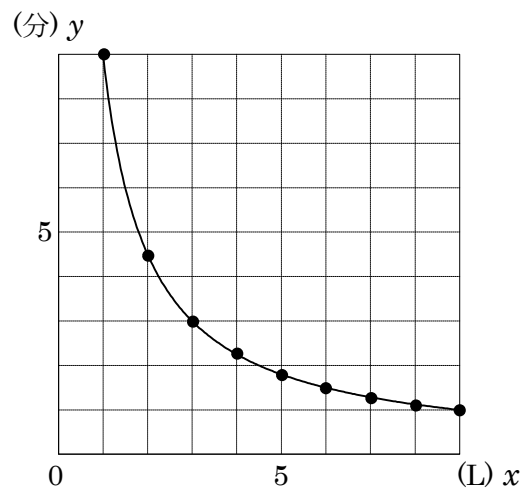


例題 下の表は、9Lで満水になる水そうに水をいれたときの、1分間に入れる水の量といっぱいになるまでにかかる時間を調べたものです。

1分間に入れる水の量 $x$ (L)	1	2	3	4	5	6	9
かかる時間 $y$ (分)	9	4.5	3	2.25	1.8	1.5	1

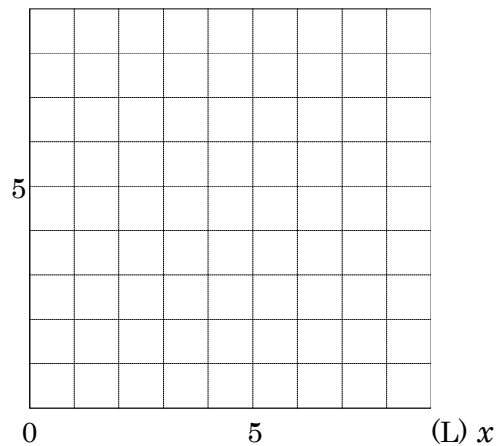
$x$ と $y$ の関係をグラフに表しましょう。  
上の表で、1分間に入れる水の量( $x$ L)とかかる時間( $y$ 分)は反比例しています。  
グラフは、表の対応する $x$ と $y$ の値の組を表す点をとって、順につなぎます。

反比例のグラフは、縦の軸にも横の軸にも交わらず、0の点も通らない、なめらかな曲線になります。



- 11 下の表は、9Lで満水になる水そうに水をいれたときの、1分間に入れる水の量とっぱいになるまでにかかる時間を調べたものです。

1分間に入れる水の量 $x$ (L)	1	2	3	4	5	6	9
かかる時間 $y$ (分)	9	4.5	3	2.25	1.8	1.5	1

(分)  $y$ 

- 12 下の表で、それぞれ、 $y$ は $x$ に反比例しています。表のあいているところに、あてはまる数を書きましょう。

$x$	2	3	4	5	
$y$		6			3

- 13 下の表で、それぞれ、 $y$ は $x$ に反比例しています。表のあいているところに、あてはまる数を書きましょう。

$x$	120			24	
$y$	2	4	6		12

14 右の表は、面積が  $36 \text{ m}^2$  の長方形の、縦の長さ  $x \text{ m}$  と横の長さ  $y \text{ m}$  の関係調べたものです。

縦 $x \text{ (m)}$	1	2	3	4	5	6
横 $y \text{ (m)}$	36	18	12	9	⑦	⑧

① ⑦、⑧にあてはまる数を  
書きましょう。

⑦ \_\_\_\_\_ ⑧ \_\_\_\_\_

② 縦の値と横の値の積は、いつもいくつになりますか。

\_\_\_\_\_

③ 横は、縦に反比例しますか。

\_\_\_\_\_

④  $x$  と  $y$  の関係を式に表しましょう。

\_\_\_\_\_

⑤ 縦が 2 倍、3 倍、…になると、横はどのように変わりますか。

\_\_\_\_\_

⑥ 縦が  $\frac{1}{2}$ 、 $\frac{1}{3}$ 、…になると、横はどのように変わりますか。

\_\_\_\_\_

⑦ 縦の長さが  $12.5 \text{ m}$  のとき、横の長さは何  $\text{ m}$  ですか。

\_\_\_\_\_

15 下の表は、480 枚のおり紙を何人かで等分するときの、分ける人数と 1 人分の枚数の関係を調べたものです。

人数 $x$ (人)	1	2	3	...	6	...	㉠	...	㉡
枚数 $y$ (枚)	480	240	160	...	㉢	...	40	...	32

① 枚数は、人数に反比例しますか。

\_\_\_\_\_

② 人数を  $x$  人、枚数を  $y$  枚として、 $x$  と  $y$  の関係を式に表しましょう。

\_\_\_\_\_

③ ㉠～㉡にあてはまる数を書きましょう。

㉠ \_\_\_\_\_

㉡ \_\_\_\_\_

㉢ \_\_\_\_\_



16 水そうに 12L の水を入れるとき、1 分間に入れる水の量を  $x$  L、かかる時間を  $y$  分として、 $x$  と  $y$  の関係を調べます。

- ① 右の表のあいているところにあてはまる数を書きましょう。

$x$ (L)	1	2	3	4	5	6	
$y$ (分)							

- ②  $y$  は  $x$  に反比例しますか。

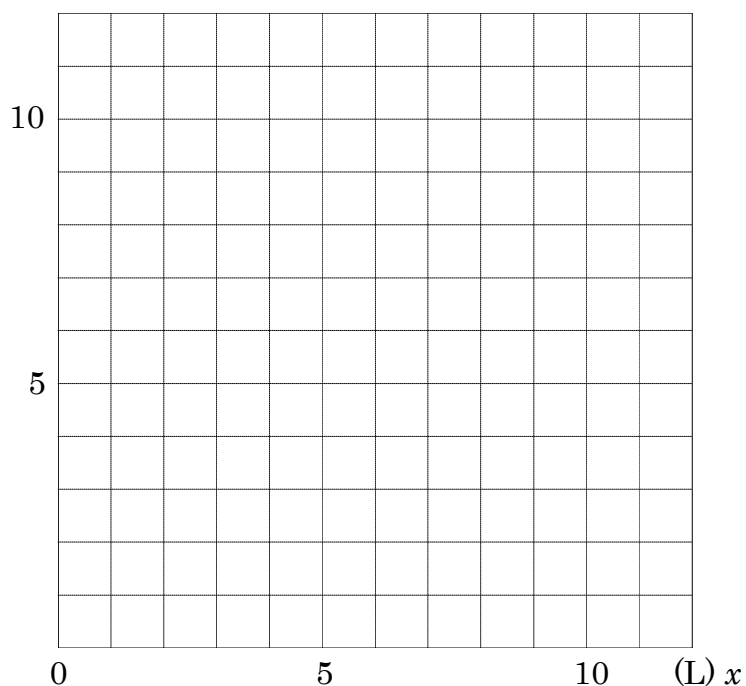
\_\_\_\_\_

- ③  $x$  と  $y$  の関係を式に表しましょう

\_\_\_\_\_

- ④  $x$  と  $y$  の関係を右のグラフにかきましょう。

(分)  $y$



17 15km の道のりを、時速  $x$  km で進むときにかかる時間を  $y$  時間とすると、 $y$  は  $x$  に反比例しています。

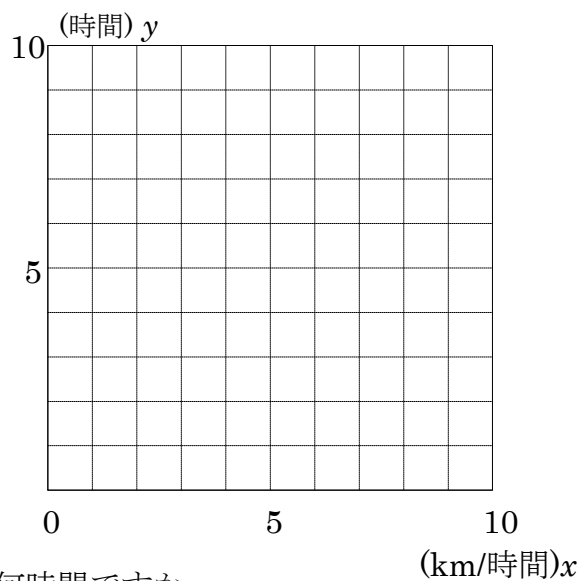
- ① 右の表のあいているところにあてはまる数を書きましょう。

$x$ (時速km/時)	1	2	3	4	5
$y$ (時間)					

- ②  $x$  と  $y$  の関係を式に表しましょう。

\_\_\_\_\_

- ③  $x$  と  $y$  の関係を右のグラフにかきましょう。



- ④ 時速 12km で進むときにかかる時間は何時間ですか。

\_\_\_\_\_