

6-5 分数のわり算 I

2 次の計算をしましょう。

ABCDE

① $\frac{2}{3} \div \frac{9}{10}$

② $\frac{7}{12} \div \frac{1}{7}$

3 次の計算をしましょう。

DE

① $\frac{5}{6} \div \frac{3}{7}$

② $\frac{1}{8} \div \frac{5}{11}$

5 $\frac{3}{7}$ m の重さが $\frac{4}{5}$ kg の鉄パイプがあります。

BCDE

この鉄パイプの 1m の重さは何 kg ですか。 0 (—) (—) []

右の表の () に数字・□を, [] に
単位をかいて考えましょう。

0	(—)	(—)	[]
0	(—)	(—)	[]

7 次の計算をしましょう。

ABCDE

① $\frac{5}{8} \div \frac{3}{4}$

② $\frac{7}{12} \div \frac{14}{15}$

8 次の計算をしましょう。

CDE

① $\frac{7}{9} \div \frac{7}{18}$

② $\frac{6}{13} \div \frac{16}{39}$

10 次の計算をしましょう。

ABCDE

① $\frac{3}{5} \times \frac{7}{8} \div \frac{3}{4}$

② $\frac{2}{7} \div \frac{1}{3} \div \frac{4}{7}$

11 次の計算をしましょう。

CDE

① $\frac{15}{22} \div \frac{6}{11} \times \frac{3}{10}$

② $\frac{4}{9} \times \frac{5}{12} \div \frac{5}{18}$

13 次の計算をしましょう。

ABCDE

① $8 \div \frac{12}{13}$

② $4\frac{1}{6} \div 2\frac{2}{9}$

14 次の計算をしましょう。

CDE

① $4\frac{1}{5} \div \frac{7}{8}$

② $9 \div 3\frac{3}{4}$


16 $2\frac{4}{5}$ m で $\frac{7}{10}$ kg の重さの針金があります。

BCDE

この針金 1m では、何 kg ですか。

右の表の () に数字・□を, [] に単位をかいて考えましょう。

0 () () []



0 () () []

17 **まとめ** 次の計算をしましょう。

DE

① $\frac{1}{2} \div \frac{3}{4}$

② $1\frac{8}{9} \div \frac{8}{3}$

18 **まとめ** 次の計算をしましょう。

DE

① $6 \div \frac{2}{3}$

② $\frac{9}{10} \div \frac{12}{25}$

19 **まとめ** 次の計算をしましょう。

DE

① $\frac{16}{17} \div \frac{8}{21} \times \frac{2}{3}$

② $5 \div \frac{25}{12} \div \frac{6}{7}$

20 **まとめ** 次の計算をしましょう。

DE

① $\frac{22}{15} \times \frac{2}{11} \div \frac{2}{45}$

② $\frac{33}{26} \div \frac{11}{13} \div 2$

21 **まとめ** 次の計算をしましょう。

DE

① $2\frac{1}{4} \div \frac{3}{7} \times \frac{5}{14}$

② $1\frac{1}{9} \times \frac{3}{10} \div 2\frac{2}{3}$

22 **まとめ** $2\frac{1}{3}$ L で $1\frac{3}{4}$ kg の重さのトマトジュースがあります。

DE

このトマトジュース 1L では、 0 (—) (—) []

何 kg ですか。 

右の表の () に数字・□を、 


[] に単位をかいて考えましょう。 0 (—) (—) []

23 **まとめ** 1kg で $\frac{15}{4}$ m の針金があります。

DE

6m では何 kg ですか。 0 (—) (—) []

右の表の () に数字・□を、 

[] に単位をかいて考えましょう。 

0 (—) (—) []

24
E

まとめ

かずやは、1分で $1\frac{1}{5}$ ページ本を読みます。今18ページ読みました。


何分読みましたか。

0 (—) (—) []

右の表の () に数字・

□を、[]に単位をかいて

考えましょう。



0 (—) (—) []
