

1

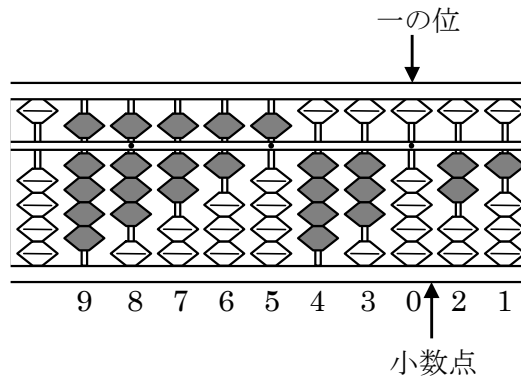
ABCDE 次の hakken. の法則を読んで問題を解きなさい。

そろばん

hakken. の法則 

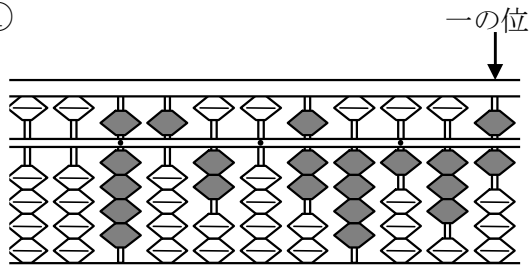
★学習内容 そろばん

…右の図のようにそろばんのたまに
よって、数字を表します。
右のそろばんが表す数字は
98765430.21 となります。



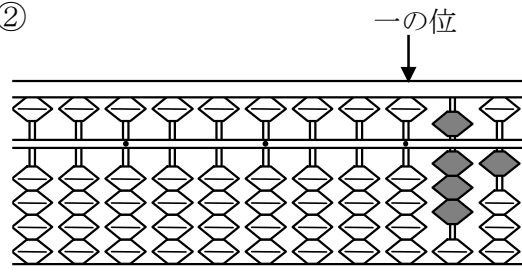
例題 次の数を答えましょう。

①



答 952074136

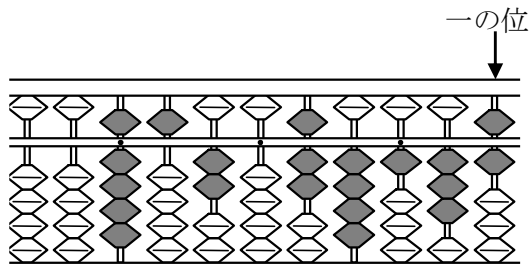
②



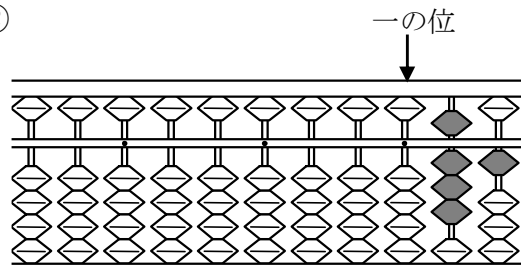
答 0.81

確認問題 次の数を答えましょう。

①



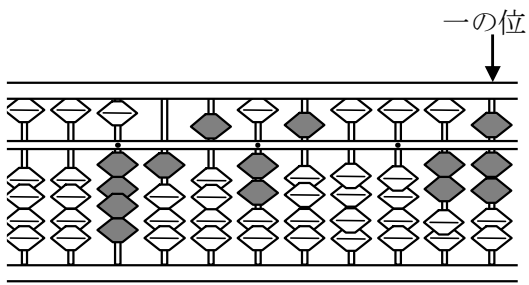
②



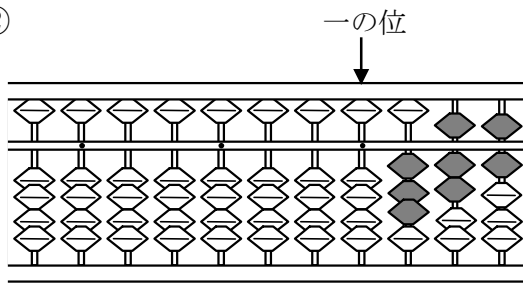
2 次の数を答えましょう。

ABCDE

①



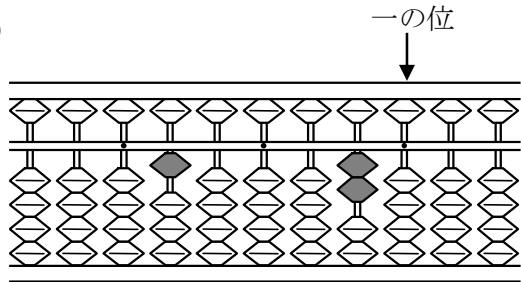
②



3 次の数を答えましょう。

BCDE

①



②

